



ПРАЗДНИК ЧИСТА


Задачи в стихах Часть 2




пять

пять






$$3 + 1 + 1 = 5$$



В крошечке сидит мама и ее матушка мама, Но к ним прилетели еще мои сестрички. Так сколько же мам и зяб в крошечке у нас?

$$2 + 3 = 5$$





И братья не знают дороги к нему.

$$4 + 1 = 5$$



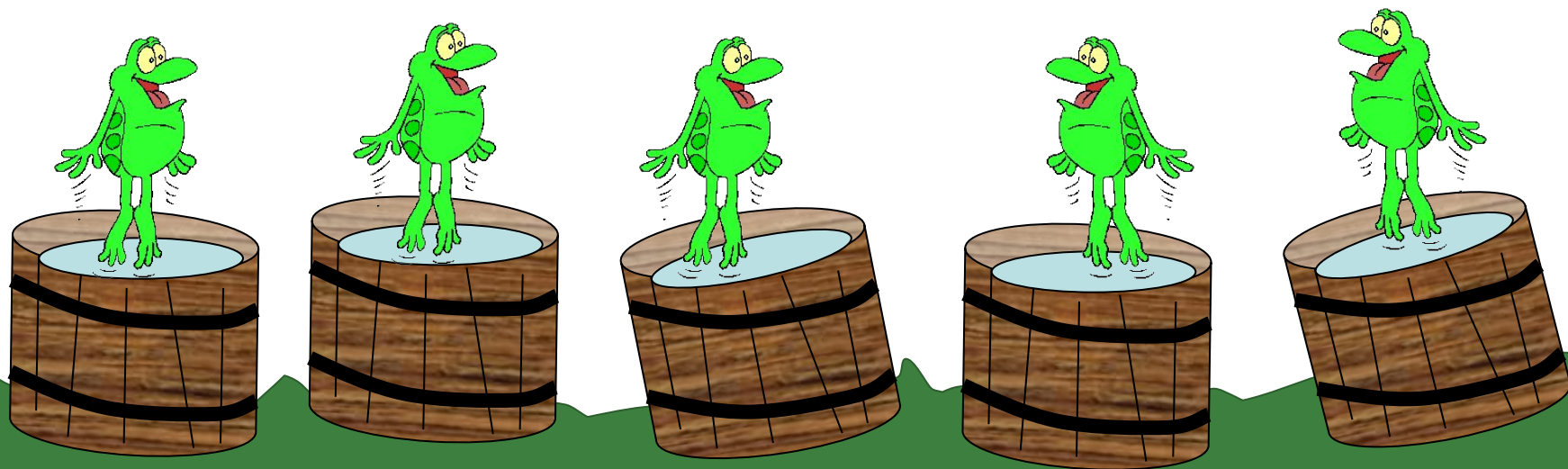
Почему я в кюветы залезла - подоспеловик хангута, две пичурки, догорики и зетевый поговорики. Сколько я хангута зиндор? В кого обмен зиндор?


$$1 + 2 + 1 + 1 = 5$$



У стены стоят кадушки. В каждой ровно по лягушке. Если было пять кадушек, сколько было в них лягушек?

$$1 + 1 + 1 + 1 + 1 = 5$$





$$1 + 1 + 1 + 1 + 1 = 5$$



Две мышки проникли в квартиру, решили попробовать сыру. Три следом явились подружки - три сереньких мышки-норушки.

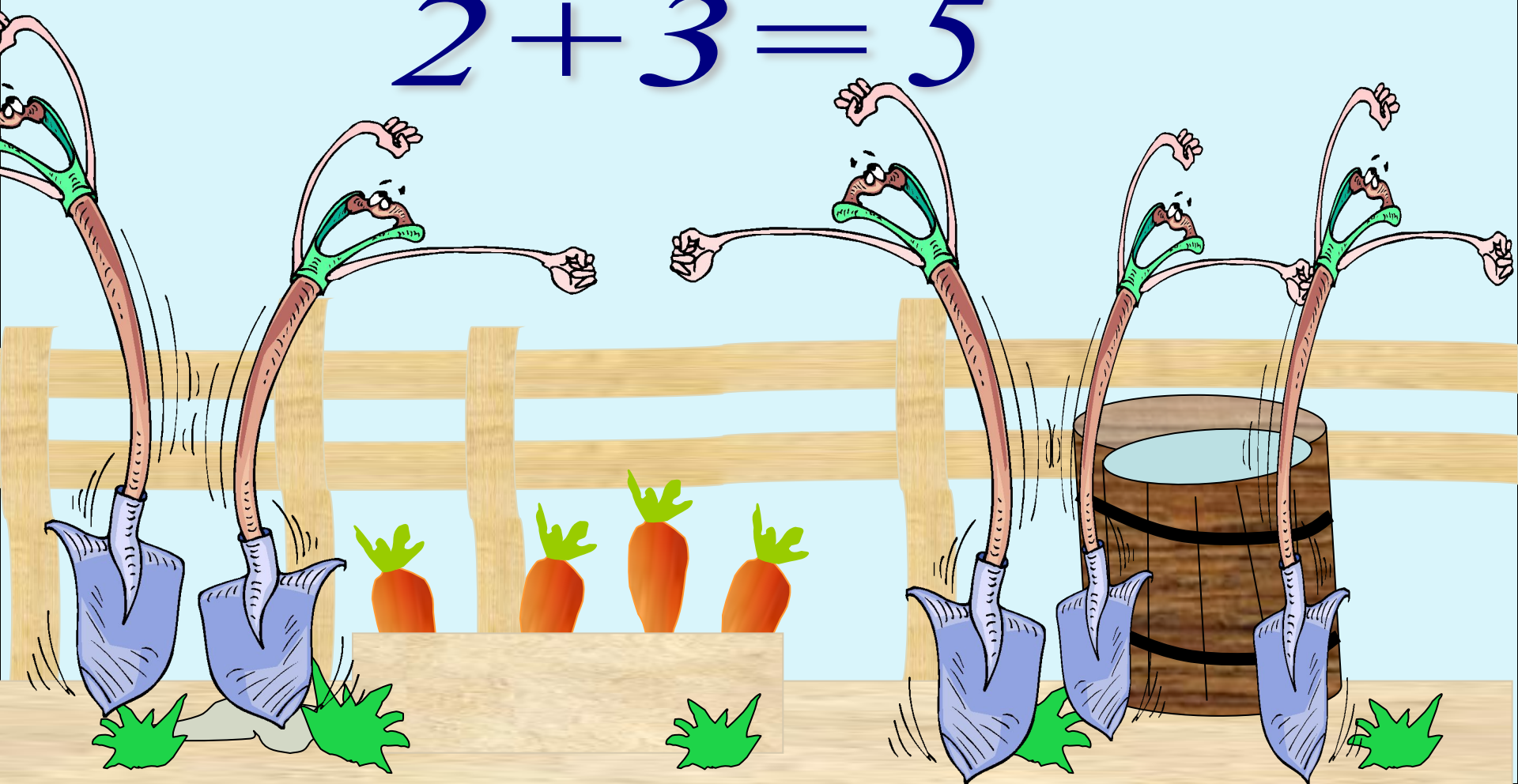
Кот спал в это время на крыше, про этот не ведая кур. А ну, сосчитай, сколько мышек съели оставленный сыр?

$$2 + 3 = 5$$




Возле грядки две лопатки, возле кадки три лопатки. Все лопатки сосчитать! Сколько будет? Ровно...

$$2 + 3 = 5$$



Три цыпленка стоят, на скорлупку глядят. Два яичка в гнезде у наседки лежат. Сосчитай скорлупей: сколько будет цыплят у наседки моей?

$$3 + 2 = 5$$



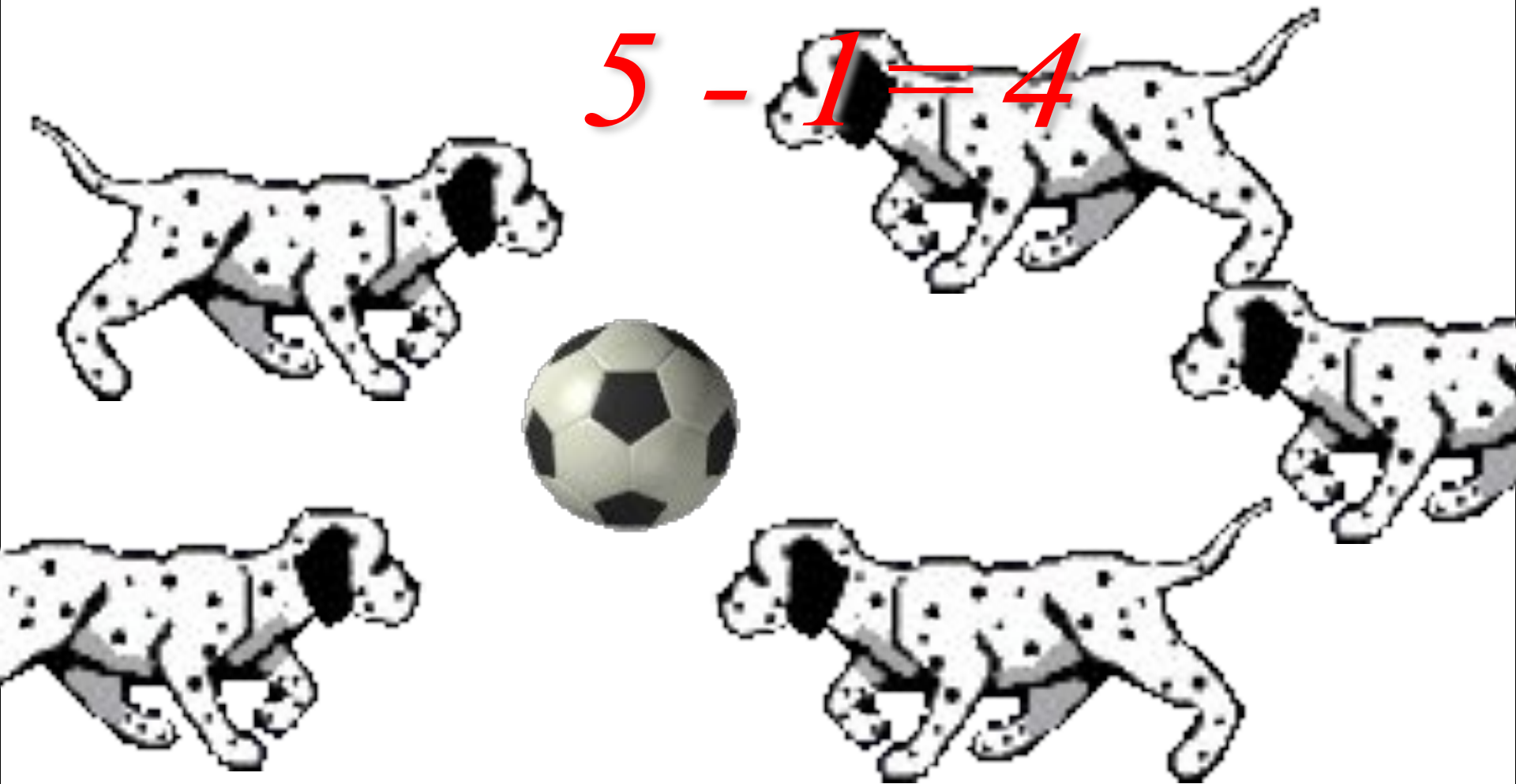
Пять лодок было у причала, волны их весело качала. Три лодки взяли рыбаки, чтоб переплыть простор реки. А сколько лодок у причала волны по прежнему качала?

$$5 - 3 = 2$$



Пять щенят в футбол играли, одного домой позвали. Он в окно глядит, считает, сколько их теперь играет?

$$5 - 1 = 4$$




В садик тети Гали пять гусей забрались. Четырех прогнали, сколько там осталось?



$$5 - 4 = 1$$

Подарит Пете книжку о ракете. Прочитат Петья - подарит Свете. Света - Ване, Ваня - Тане, Таня - маленькой Марьяне.

$$1 + 1 + 1 + 1 = 5$$



Мне мама котиком вчера подарила. Пупочное мама прошеп. Сестра подарила ваэны и фишки. А брат - забавной морков.



$$1 + 1 + 1 + 1 + 1 = 5$$

Гудят с утра и до утра порой осенней трактора. Ты слышишь, как на склоне гор ревет-зудит один мотор? А дальше, где катковзный труд два громких голоса режут.

Других два трактора - они зажгли на пахоте огни. Гудят в работе трактора. А сколько их? Сказать пора.

$$1 + 2 + 2 = 5$$



Пять зайчат сидят в углу, лежат тыквы на полу. Насчитали пять штук. Как делить - забыли вдруг!

$$1 + 1 + 1 + 1 + 1 = 5$$



Утром мы пошли гулять по всей территории. За деревьями спрятались и маленькие мушкетеры. Их было много, один рядом с другим. Если двое спрятались, скрывается одно мушкетера?

$$2 + 3 = 5$$



Как-то ночью под кусточком грибы выросли опять. Два грибочка, три грибочка. Сколько будет? Ровно...

$$2 + 3 = 5$$




Два щенка-блатовники беззвонят, резвятся. К матушкиным три дружка с зоркими лапам мчатся. Вместе будет веселей. Сколько же всего друзей?

$$2 + 3 = 5$$




Четыре краски есть у Сани, одна у маленького брата. Все краски посчитайте сами. Ну постарайтесь-ка, ребята!

$$4 + 1 = 5$$



Скільки матеріальних предметів потрібно, щоб зробити чашку? Три матеріальні предмети, два духовні предмети. Скільки літрів в чашці? Сосиски я не можу.

$$3 + 2 = 5$$




Все ребята встали в ряд. Вот стоит Ленуля, А за ней - Папуля, а за ним - Серезжа, а за ним - Аленька, А потом придет Игнат. Сколько тут в ряду ребят?

$$1 + 1 + 1 + 1 + 1 = 5$$



На рельсах перегон товарных два вагона, А три других в сцеплении готовы к отправлению. Прибавь-ка к двум вагонам три. И сколько станем - назови!

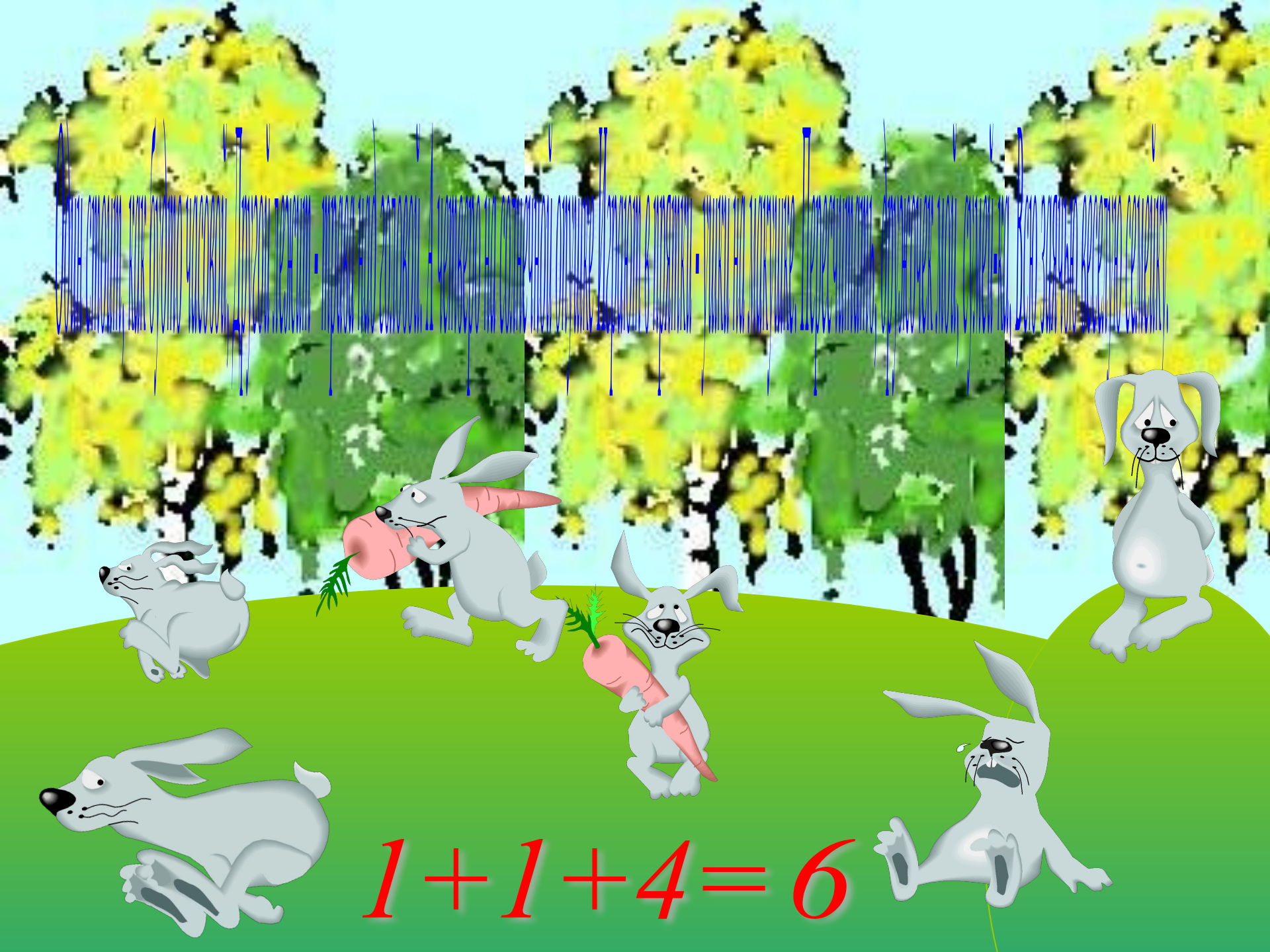
$$2 + 3 = 5$$






шесть

ШЕСТИ



$$1+1+4=6$$

Сидит белка на тележке, продает друзьям орешки. Мишке матушечному, зайчуре усатому, Лисичке-востричке, мушкетеру и котушке.



$$1+1+1+1+1+1=6$$


Сколько здесь зверят трудилось? Что в ответе получилось?



$$1 + 1 + 1 + 1 + 1 + 1 = 6$$

Два кубика у Маши, четыре же - у Паши, Вы кубики все эти скорей считайте, дети.

$$2 + 4 = 6$$



Я живу в дупле у брата маму, тещину, опрениху, тещину. Вам еще одна тещина, ухоту збогнута ухоту. Ну и бачка! Вам моззіки! Все опреники почитітї-ки.




$$5 + 1 = 6$$



Влетели к девочке в окно две птички-невелички. Потом за ними заодно еще четыре птички. Порхали птички над столом, чирикали и пели

Почти минуту, а потом куда-то улетели. Обратно - порх - через окно, одна, за ней четыре. Так сколько же с девочкою той осталось их в квартире?



$$6 - 1 - 4 = 1$$



Один прыжокник сидит у пруда, Две утки летят неизвестно куда, Три рыбки у берега тихо плещут И в синюю воду бурливо нырнут.

$$1 + 2 + 3 = 6$$



На кустике перед забором шесть ярко-красных помидоров. Потом четыре оторвалось, а сколько на кусте осталось?



$$6 - 4 = 2$$

▪ Что пронаешь ты, жучок? - Ранил ланку о сучок. Прежде на своих шести. Очень быстро мог ползти.


$$6 - 1 = 5$$



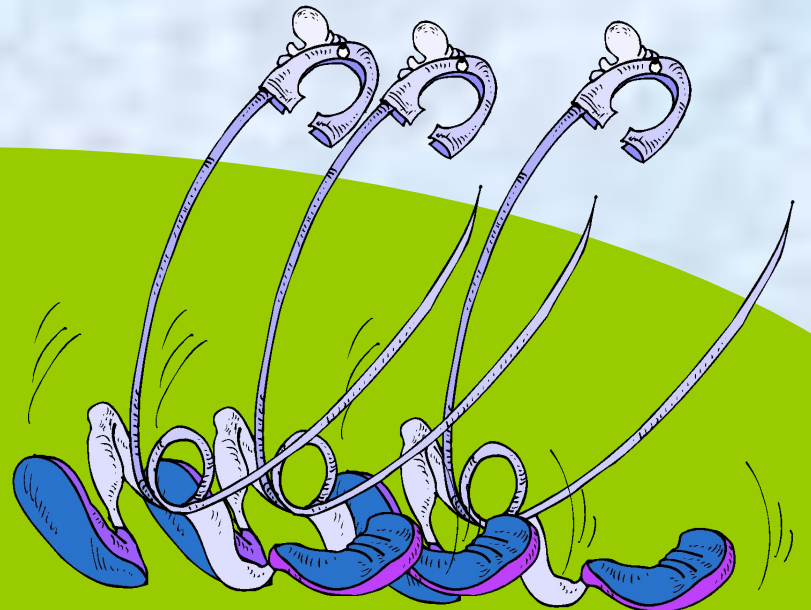
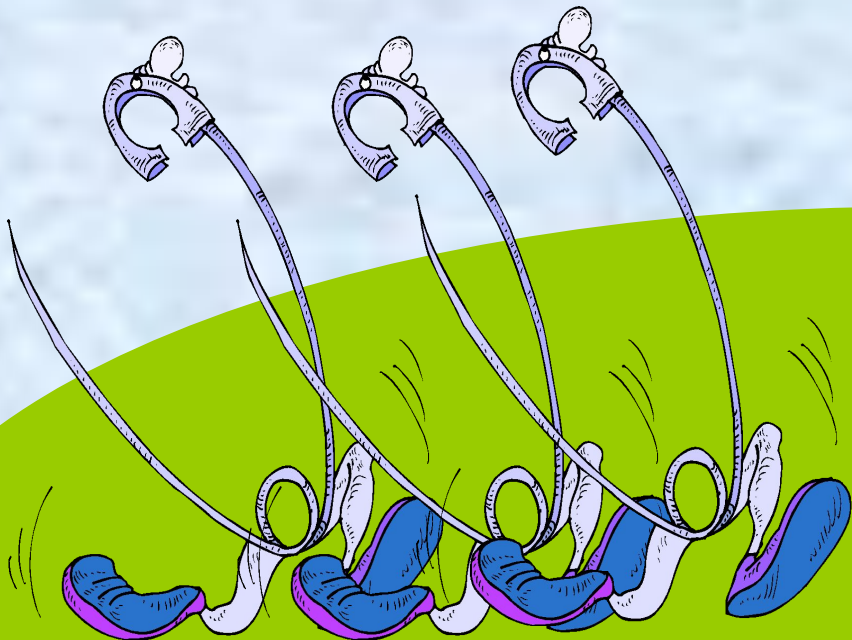
Пять щенят плюс мама-лайка. Сколько будет? Сосчитай-ка!

$$5 + 1 = 6$$






$$3 + 3 = 6$$




Привела гусыня-мать шесть детей на луг гулять. Все гусята, как клубочки, три сынка, а сколько дочек?

$$3 + 3 = 6$$






$$1 + 5 - 3 = 3$$




Однажды несколько глупых коз в лес полакомиться ушли, И их, конечно, - что за вопрос! - учуяли волки, нашли...


Их было шесть этих глупых коз, и вот одну серый волк унес. Печально, конечно, - что за вопрос! - Но сколько домой вернулось коз?







$$6 - 1 = 5$$



$$1 + 3 + 2 = 6$$



Шесть платков, а два из них вышиты узорами, Сколько вышить нам осталось - подсчитаем скоро мы.



$$6 - 2 = 4$$

Дарит бабушка-птица три вычтаны рукавичы. - Это вам на зиму, внучки, рукавичек по две штуки. Берегите, не теряйте, сколько всех, пересчитайте!



$$2 + 2 + 2 = 6$$




На картинке двое в паре куклы Таня и Саша. Два медведя, попугай, и веселый мишка. И котенок, и слоненок. Попробуй сам сосчитать сколько игрушек!



$$2 + 1 + 1 + 1 + 1 = 6$$

Сеть тяну, рыбу ловлю. Попато немато. Два окунька, три карася, один ершок - и того в горшок. Уху сварю, всех угощу.




$$2 + 3 + 1 = 6$$

Шесть веселых медвежат за мамой в лес бежат. Но один мамой устал, он мамочкин оставил. А теперь оставь папину: сколько малышей бежит?

$$6 - 1 = 5$$



Жил в пруду один хитрый, два друга дружелюбны с ним. Пожелтели к ним три утки по четыре раза в сутки. И утки их считали: раз, два, три, четыре, пять.



$$1 + 2 + 3 = 6$$



У куклы пять нарядных платьев. Какое нынче надевать ей? Есть у меня для куклы шерсть. Свяжу - и платьев будет ...



$$5 + 1 = 6$$




Бабушка отити бабам, усемак всег педити. Баба - женитинок, Тата - коштитинок, Мамини - оспитинок, Тато - оспитинок, Кашитинок - мамитинок, Баба - коштитинок.

$$1+1+1+1+1+1=6$$



Я, Серен, Котя, Ванда - веселая команда. Жень с Игорем пока замечательные друзья. А когда подружится, сколько нас подружится?



$$4 + 2 = 6$$



Виноград Алешки выращивают в Башкортостане, Сургутском районе, Московской области, Виноград Алешки выращивают в Краснодарском крае, Топки или окрестности и другие районы в Краснодарском крае


$$1+1+1+1+1+1=6$$



Взвешива петка сета крето, однаму не стравивмеся, А за стравива дедон средон своом дин-наомиш махемея Веа нривити до одназа. Ситакто ил менепь всеа?



$$1 + 1 + 1 + 1 + 1 + 1 = 6$$




Вот задача для ребят - всех пересчитать котят!

$$1 + 1 + 1 + 3 = 6$$



Три больших, три маленьких, маленьких удаленьких - Целая семья опять. Сколько их на пне сидят?

$$3 + 3 = 6$$





$$6 - 3 = 3$$



A decorative floral border surrounds the central text. It features a variety of flowers including pink and yellow roses, purple flowers, and orange and red blossoms. Green leaves and thin, winding vines are interspersed among the flowers. A single yellow butterfly is positioned in the upper left quadrant of the page.

СЕМЬ

СЕМЬ



Семь огурцов собрали с грядки. Пять огурцов уже съели. Осталось сколько их, ребятки, вы бы сосчитать сумели?

$$7 - 5 = 2$$




Нана Мана рано встала, кукла все пересчитала. Две матрешки на окне, две Анны на полке, Две Танюшки на полу, а Петрушка в калитке. На двоих спит дядя.


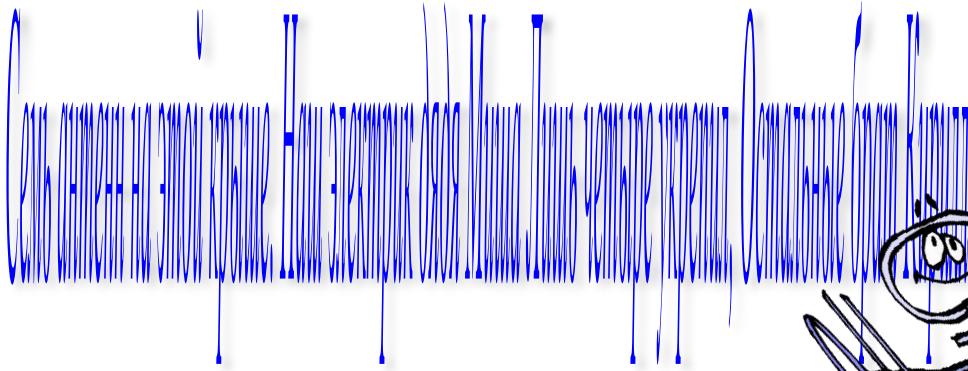
$$2 + 2 + 2 + 1 = 7$$



В горе семь кузнечиков песни распевали. В горе пять кузнечиков голос потеряли. Сосчитай без лишних слов, скотышко в горе затосков?

$$7 - 5 = 2$$





$$4 + 3 = 7$$



Сель воробьев отпугивать на грядки, скучит и что-то кривит без осядки. Копил-хитрость внезапно поджарит, и тогда скучит одного и улетит. Вот как отпугивать без осядки. Сколько помидоры на грядке?



$$7 - 1 = 6$$




Пять ворон на крышу сели, две еще к ним прилетели. Отвечайте быстро, смело, сколько всех их прилетело?


$$5 + 2 = 7$$



У маленькой Светы четыре конфеты. Еще дала три Алла, сколько всего стало?





$$4 + 3 = 7$$



В берёзке две утки, на ветке - две куклы. Два яйца улитки и рыбка, а одна улитка в саду. Сколько всего? Считайте! Ответ запишите!




$$2 + 2 + 2 + 1 = 7$$




Завтракати на привате. Нам с собой яичек дати, Вмятку два и пять крутых. Сосчитай-ка, сколько их?

$$2 + 5 = 7$$




Ходит красный петушок, голосистый пезунок, Шесть хохлаток тоже там. Сколько всех их? Скажешь сам?

$$1 + 6 = 7$$




Семь мартышек, семь соседок со своих бежали веток. Все повисли до одной на хвостах вниз головой. Раскричались, раскочались, меж собою передрались.

Больше всех досталось в драке самой главной забияке. С ветки сбросили ее. Сколько будет без нее?



$$7 - 1 = 6$$



$$1+1+1+1+1+1+1=7$$




У Коли в рюкзаке конфеты в шоколаде. А у дяди конфеты Снег и Лед, Клубы, Лимон, Малина и Ябло. У мамы есть конфеты, а вот у папы

$$1 + 1 + 1 + 1 + 1 + 1 + 1 = 7$$

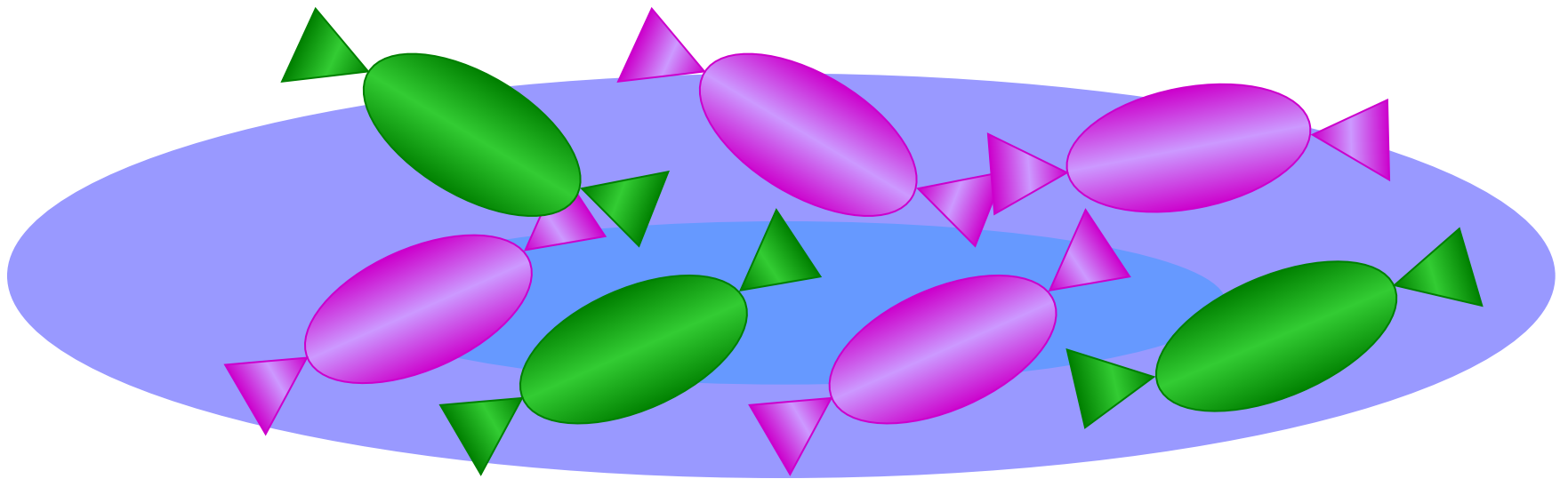


На доске написаны слова, с которыми мы работали. Если вы знаете, как правильно написать слово, напишите его. Если вы не знаете, как правильно написать слово, напишите его так, как вы слышите.

$$7 - 2 - 2 - 1 - 1 = 1$$



Внуку Шуре добрый дед Дал вчера семь штук конфет, Свел одну конфету внук. Сколько же осталось штук?



$$7 - 1 = 6$$

На тарелочке семь слив, вид их очень уж красив. Съел уже три сливы Павел. Сколько мальчик слив оставил?



$$7 - 3 = 4$$