

1 класс М. И. Моро

Тема урока
Составление задач на
сложение и вычитание
по одному рисунку



Урок математики в 1 классе на
тему «Составление задач по
рисунку»

Учитель : Зимарина В.В.



План урока.

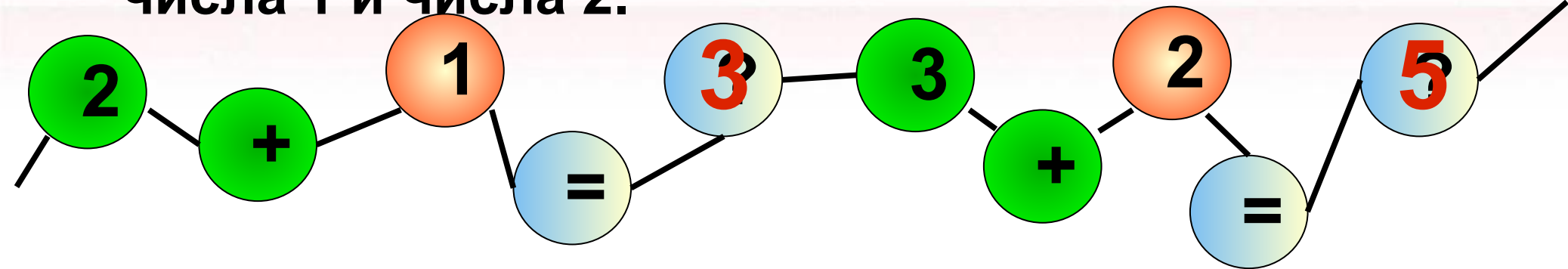
1. Организационный момент.
2. Логическая задача.
3. Решение на бусах.
4. Занимательные стихи.
5. Сравнение текстов.
6. Составление задач по рисунку.



**Как сделать, чтобы у всех зайчиков
были одинаковые порции?**



Посчитайте по бусам примеры на прибавление числа 1 и числа 2.



Части задачи.




Ответ

Решение

Вопрос

Условие







?



Составить задачу по картинке и
решить её



$$5 + 3 = 8$$

$$8 - 3 = 5$$




Составить задачу по картинке
и решить её

$$5 + \square = \square$$


$$7 - \square = \square$$



Составить задачу по картинке и решить её



$$\square + \square = \square$$



$$\square + \square = \square$$




$$6 + 2 = 8$$

$$3 + 2 = 5$$





Составить задачу по картинке
и решить её



$$4 + 2 = 6$$

$$6 - 2 = 4$$

