



Урок Окружающий мир 2 класс





«Россия на карте»

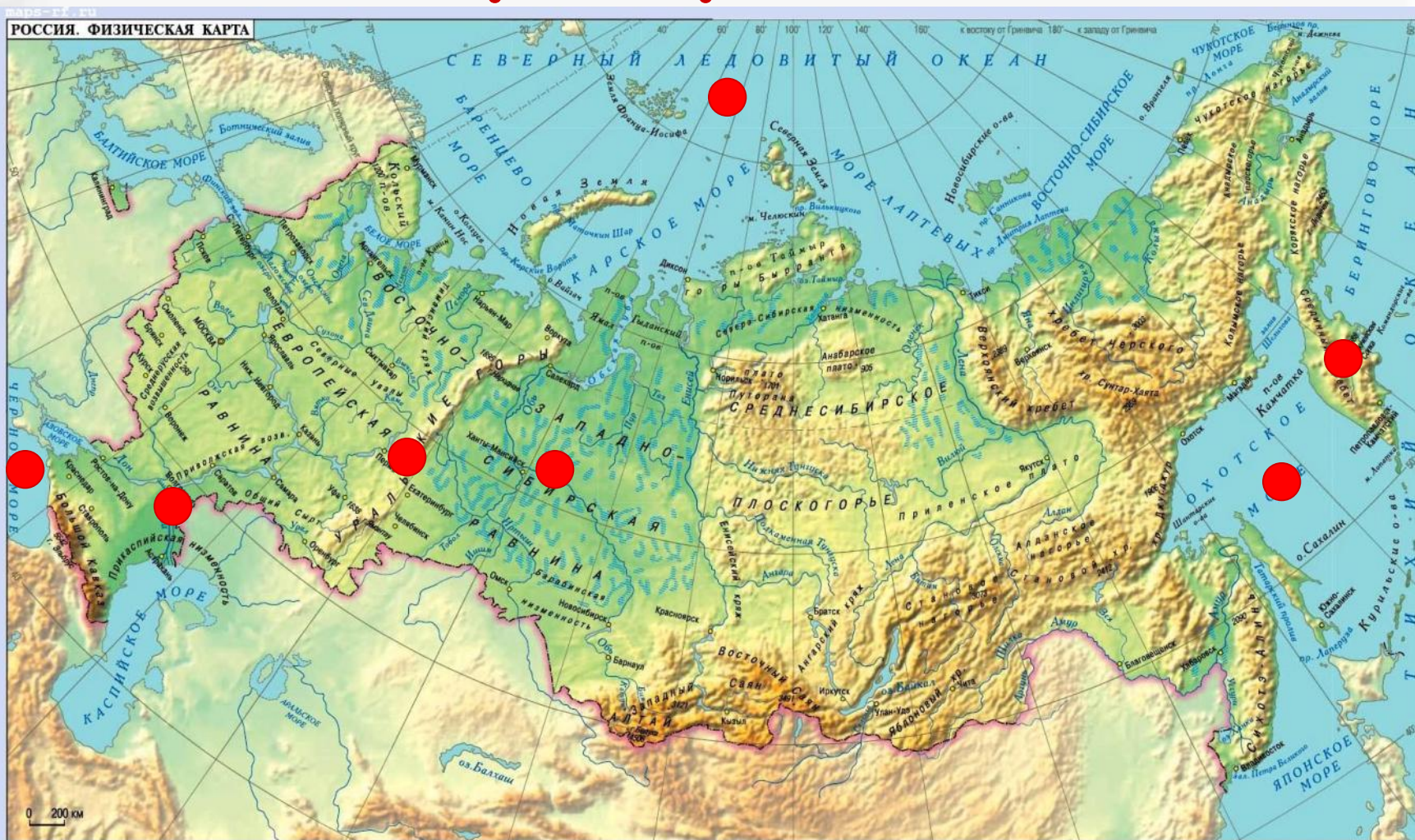


Работа в парах.



Рассмотрите фотографии в учебнике на стр. 92-93. Они сделаны в разных местах нашей страны. Найдите эти места на карте на стр. 90-91.

Проверка.



Север | Запад | Камчатка | море | океан



Карта – это уменьшенное изображение земной поверхности на плоскости с помощью условных знаков.

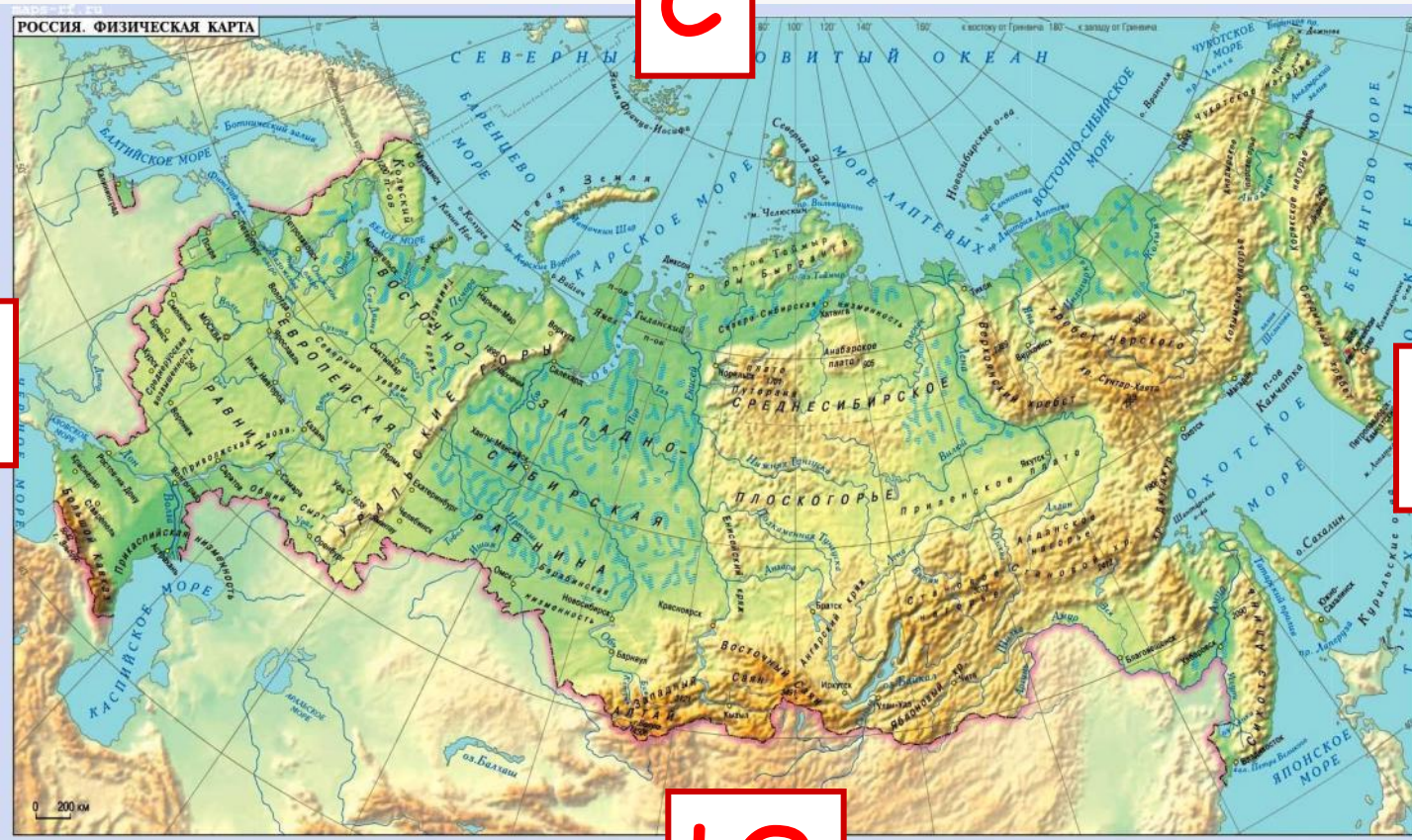
Стороны горизонта на карте.

С

З

В

Ю



Что означают на карте различные цвета?



Низменности и равнины обозначены зеленым цветом, возвышенности и болота — желтым, горы — красным и коричневым.

Условные обозначения



острова



столица



города



ледники



озёра и водохранилища



болота



граница полярных владений



каналы



Государственная граница РФ

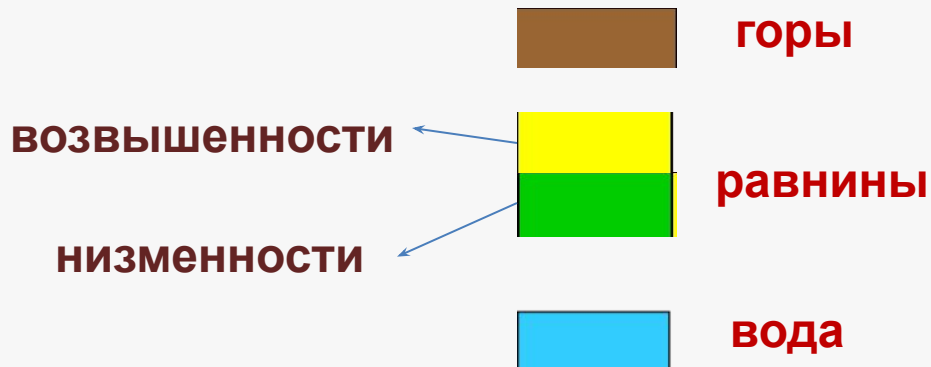
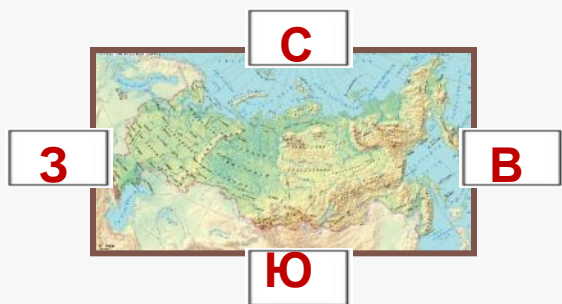


реки

Проверь себя

1) Карта – это уменьшенное изображение земной поверхности на плоскости с помощью условных знаков.

2) Условные обозначения



болота



реки



каналы



озёра



ледники



острова



граница



город



столица

Россия на карте



Тест

1. Что такое карта?

а) Чертёж местности.

б) Схема объектов.

в) Уменьшенное изображение земной поверхности на плоскости с помощью условных знаков.

Тест

2. Каким цветом на карте обозначены горы?

- а) зелёным**
- б) коричневым**
- в) жёлтым**

Тест

3. Как на карте обозначены реки?

а)



б)



в)



Тест

4. Какой равнины нет на карте России?

- а) Западно-Сибирской**
- б) Балтийской**
- в) Среднесибирского плоскогорья**
- г) Восточно - Европейской**

Тест

5. Выбери верное утверждение

а) Показывай только указкой.

б) Стой у карты слева.

в) Показывай не объект, а надпись.

Проверь себя

1	2	3	4	5
в	б	в	б	а

ПОДВЕДЁМ ИТОГИ:



Рефлексия:

- Сегодня на уроке я узнал...
- Мне понравилось...
- Мне было трудно...
- Самое интересное задание...
- Мне захотелось...

ИСТОЧНИКИ:

- <http://www.ozur.ru/taxonomy/term/38/0?page=2>
- <http://forum.materinstvo.ru/index.php?showtopic=692618&st=330>
- http://dic.academic.ru/dic.nsf/enc_geo/7323/
- <http://stavropol.olx.ru/iid-13293478>