

Занимательная математика

ИГРаем со смешариками



Автор:
учитель начальных классов
Ф МОУСОШ им. Н.Н.Володина с.
Большая Елань «ООШ
с. Надеждино»
Маскаева Елена Степановна

НАЧАТЬ ИГРУ

Играем со смешариками



Загадки о цифрах



Реши задачку



Ребусы



Угадай знак



Шарады



ВЫХОД

Загадки о цифрах



Я ТАК МИЛА, Я ТАК КРУГЛА.
Я СОСТОЮ ИЗ ДВУХ КРУЖОЧКОВ.
И Я ДОВОЛЬНА, ЧТО НАШЛА
СЕБЕ ТАКИХ, КАК ВЫ, ДРУЖОЧКОВ

ЦИФРА 8



Загадки о цифрах



НАМ ВЫ МОЖЕТЕ НЕ ВЕРИТЬ,
НО ПОПРОБУЙТЕ ПРОВЕРИТЬ:

ЭТА ЦИФРА — КОЧЕРГА.

У НЕЕ ОДНА НОГА

ЦИФРА 7



Загадки о цифрах



НУ, А ДАННЫЙ ИЗ ЗНАЧКОВ
СОСТОИТ ИЗ ДВУХ КРЮЧКОВ

ЦИФРА 3



Загадки о цифрах



ОНА ПОХОЖА НА ЗАМОЧЕК:
СВЕРХУ КРЮК, ВНИЗУ КРУЖОЧЕК

ЦИФРА 6



Загадки о цифрах



В ШКОЛЕ ЕСТЬ ТАКАЯ ПТИЦА:
ЕСЛИ СЯДЕТ НА СТРАНИЦУ,
ТО С ПОНИКШЕЙ ГОЛОВОЙ
ВОЗВРАЩАЮСЬ Я ДОМОЙ

ЦИФРА 2



Реши задачу



КАТЕ 4 ГОДА, А ТАНЕ 7 ЛЕТ. СКОЛЬКО ЛЕТ
СТАНЕТ ТАНЕ, КОГДА КАТЕ БУДЕТ 7 ЛЕТ?

Десять



Реши задачу



В КОРОБКЕ СИДЕЛО 8 КОТЯТ. СКОЛЬКО
КОРОБОК НУЖНО ЕЩЕ ВЗЯТЬ, ЧТОБЫ
РАССАДИТЬ ИХ ПО 2 В КАЖДУЮ?

Три



Реши задачу



У Димы было 4 апельсина. Он дал
четырем друзьям по 1 апельсину, а они
ему по половинке. У кого больше?

У Димы



Реши задачу



К ОСТАНОВКЕ ПОДЪЕХАЛИ: ТРОЛЛЕЙБУС,
ТРАМВАЙ И АВТОБУС. В КАКОМ ПОРЯДКЕ ОНИ
СТОЯТ, ЕСЛИ АВТОБУС – НЕ ПЕРВЫЙ, А
ТРАМВАЙ – НЕ ТРЕТИЙ И НЕ ПЕРВЫЙ?

Троллейбус, трамвай, автобус



Реши задачу



ДЛЯ ТАНЦА ДЕТИ СТАЛИ ПАРАМИ.
ОГЛЯДЕВШИСЬ, ИРА НАСЧИТАЛА 6 ПАР СЗАДИ
СЕБЯ И 5 – ВПЕРЕДИ. СКОЛЬКО ВСЕГО ДЕТЕЙ
ВЫШЛО ТАНЦЕВАТЬ?

Всего 24 ребенка



Ребусы



Минус



Ребусы



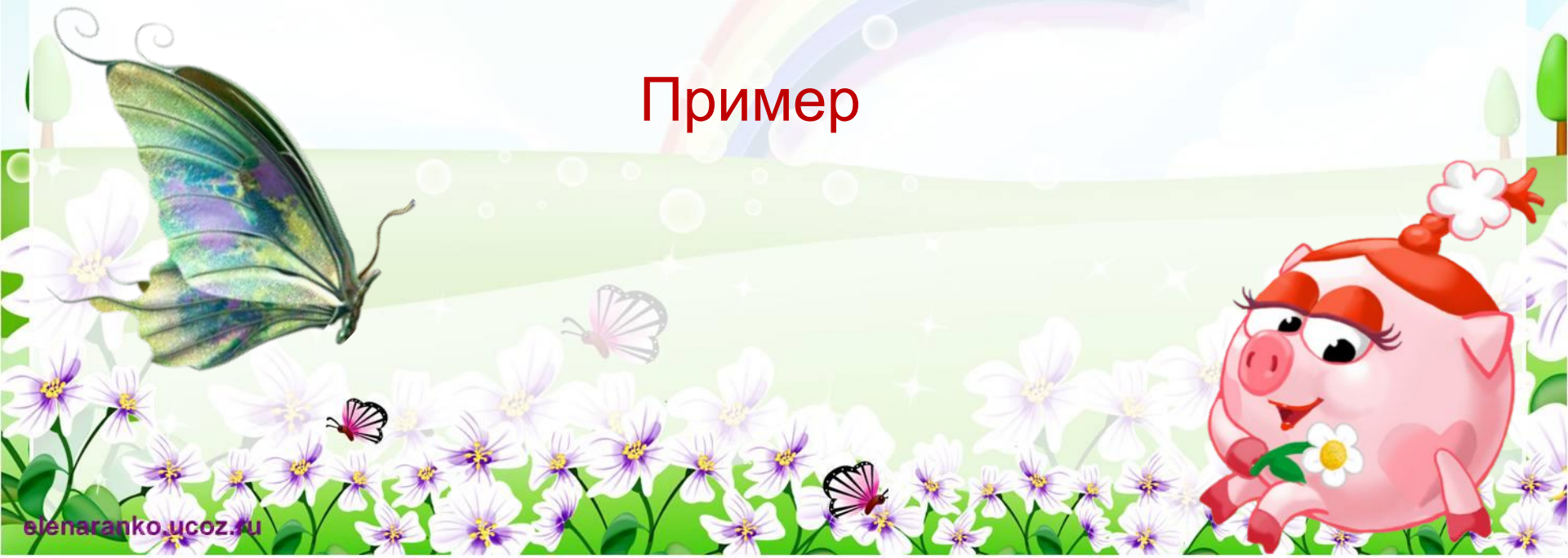
Число



Ребусы



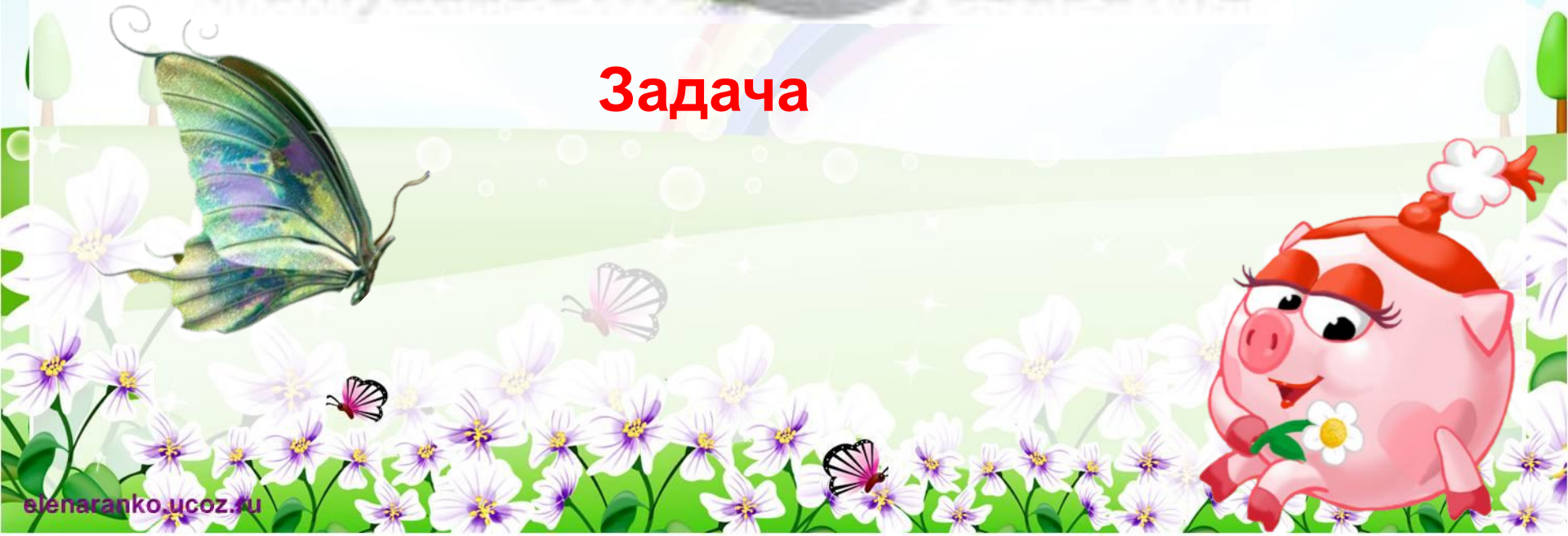
Пример



Ребусы



Задача



Ребусы

5
0



Квадрат



Угадай знак



$$5 ? 4 ? 3 ? 2 ? 1 = 1$$

$$5 - 4 + 3 - 2 - 1 = 1$$



Угадай знак



$$5 ? 4 ? 3 ? 2 ? 1 = 5$$

$$5 + 4 - 3 - 2 + 1 = 5$$

$$5 - 4 + 3 + 2 - 1 = 5$$



Угадай знак



$$5 ? 4 ? 3 ? 2 ? 1 = 7$$

$$5 + 4 - 3 + 2 - 1 = 7$$



Угадай знак



$$5 ? 4 ? 3 ? 2 ? 1 = 3$$

$$5 + 4 - 3 - 2 - 1 = 3$$



Угадай знак



$$5 ? 4 ? 3 ? 2 ? 1 = 3$$

$$5 + 4 - 3 - 2 - 1 = 3$$



Шарады



Число я меньше десяти.
Меня тебе легко найти.

Но если букве «Я» прикажешь рядом
встать,

Я всё: отец, и ты, и дедушка, и мать

Семь-семья



Шарады



С «Ш» – для счёта я нужна,
С «М» – обидчикам страшна!

Шесть – месть



Шарады



С «К» – фигура без углов,

С «Д» – дружить с тобой готов

Круг – друг



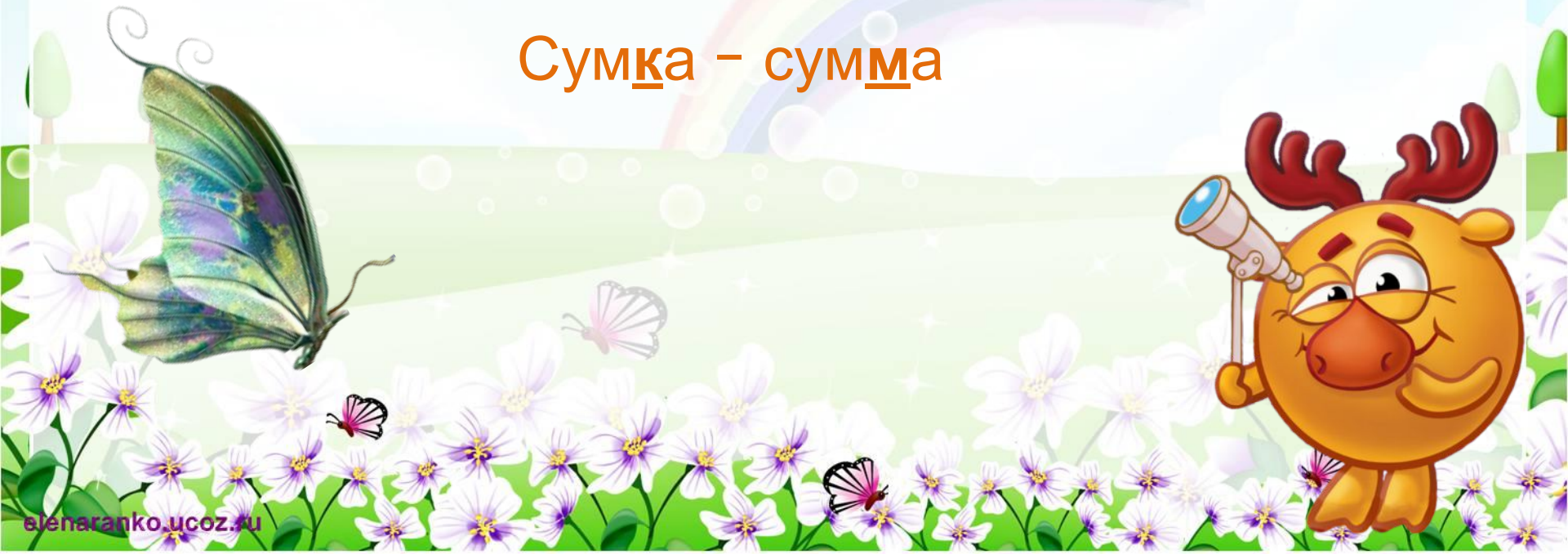
Шарады



С «К» – для продуктов годна,

С «М» – для сложенья нужна

Сумка – сумма



Шарады



Счастливой цифру ту считают,
При счете её применяют.
А «М» вот на «Т» поменяли —
И рыбы немало поймали

Семь – сеть



Использованные источники

1. Автор шаблона Ранько Елена Алексеевна - <http://elenaranko.ucoz.ru/>
2. Математические загадки»
<http://ped-kopilka.ru/vneklasnaja-rabota/viktoriny/viktoriny-matematicheskie-dlja-mladshih-shkolnikov.html>
- 3.«Реши задачку» http://shkolabuduschego.ru/viktorina/1-2-4-3-klass-po-matematike.html#_3
4. «Ребусы» <http://vremyazabav.ru/zanimatelno/rebusi/rebusi-slova/82-rebusi-po-matematike.html>
5. «Угадай знак»
http://samarapedsovet.ru/load/nachalnye_klassy/matematika/kvn_po_matematike_3_klass/47-1-0-70
- 6.«Шарады» http://www.zanimatika.narod.ru/Book8_1.htm

