


# ***УРОК МАТЕМАТИКИ***

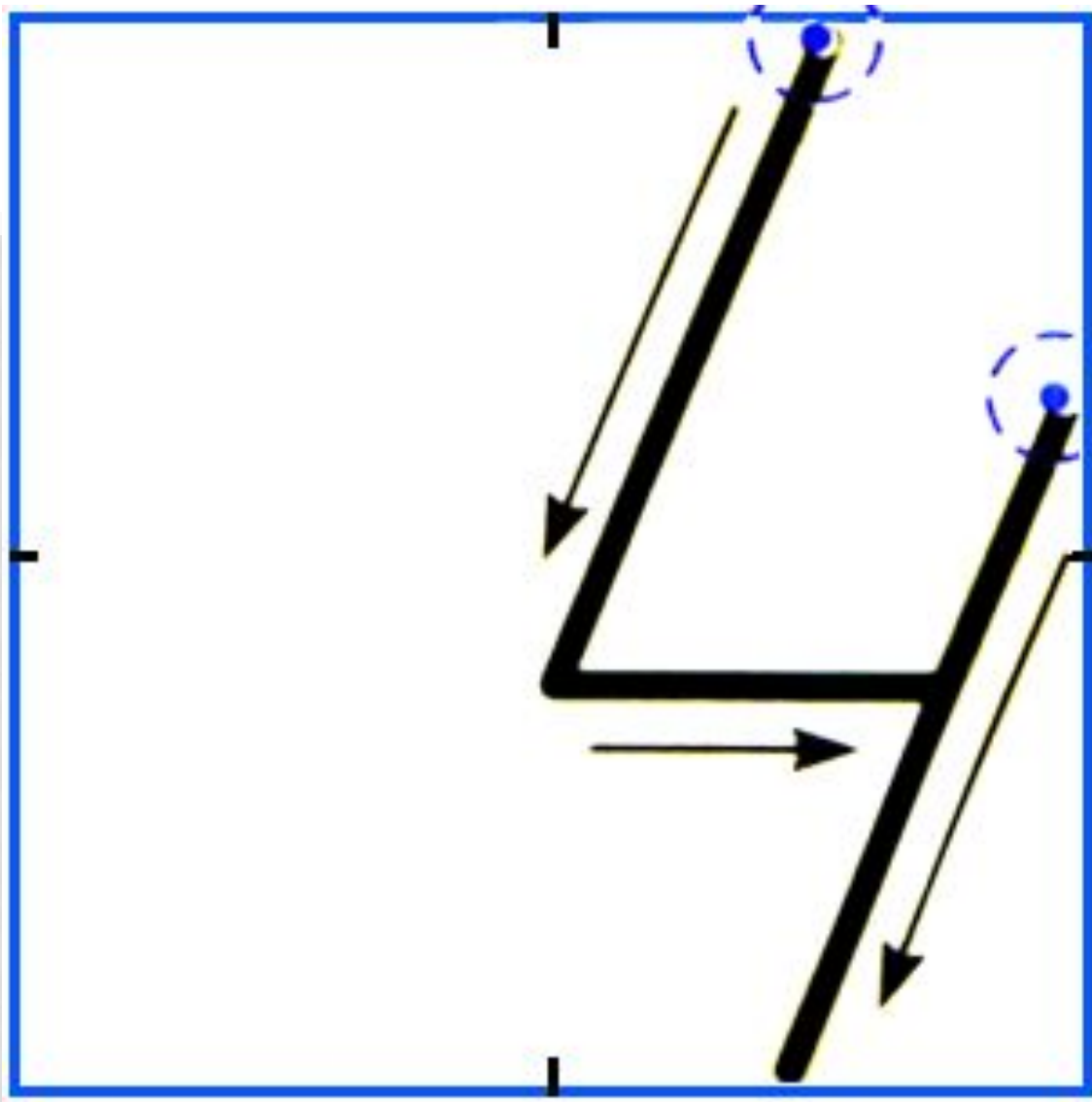
1 КЛАСС



# МИНУТКА ЧИСТОПИСАНИЯ

- **!!! Продолжите ряд!!!**
- **О Д Т Ч П ...**





• *Кто из участников «Весёлых гонок»  
набрал больше баллов?*



5

2



6

3



7

3

## С.27 №3

- Митя с папой удили рыбу. Митя поймал 4 рыбки, а папа – на 2 рыбки больше. Сколько рыбок поймал папа? Сколько всего рыбок поймали Митя и папа?

1)  $4+2=6$  (р.) поймал папа

2)  $4+6=10$  (р.) поймали Митя и папа


Ответ: 6 р., 10р.

## ПОВТОРИМ ПРАВИЛО!

- *Если из суммы вычесть одно из слагаемых, то получится другое слагаемое.*

## C.28 №1

- *1) в коробке 7 конфет, в вазочке 3 конфеты.  
Сколько всего конфет?*



$7+3=10$  (к.) всего  
Ответ: 10 к.



2) Самостоятельно в тетради!

**C.28 №2**

## С. 28 №5 УСТНО!

• №3.

• Вале 7 лет, а её брат на 3 года *старше*.  
Сколько лет Валиному брату?

• №4.

• Вите 8 лет, а Ваня на 2 года *моложе*.  
Сколько лет Ване?

# РЕФЛЕКСИЯ

