



СЧИТАЕМ УСТНО

1 класс

Обобщение способа вычитания двузначных и однозначных чисел без перехода в другой разряд


Автор презентации

Коровина Ирина Николаевна

учитель начальных классов

МБОУ «СОШ №9»

г.Сафоново Смоленской области



- Какое число изображено ?
- Уменьшите число 58 на 1, 2, 3, 4.

$$58 - 1 = 57$$

$$58 - 5 = 53$$

$$58 - 2 = 56$$

$$58 - 6 = 52$$

$$58 - 3 = 55$$

$$58 - 7 = 51$$

$$58 - 4 = 54$$

$$58 - 8 = 50$$

Какие другие числа можно вычесть из числа 58, чтобы в его записи изменилась только цифра в разряде единиц ?



Найди значения выражений

$$37 - 2 = 35$$

$$67 - 2 = 65$$

$$87 - 2 = 85$$

$$97 - 2 = 95$$

$$59 - 4 = 55$$

$$79 - 4 = 75$$

$$89 - 4 = 85$$

$$99 - 4 = 95$$

$$48 - 5 = 43$$

$$98 - 5 = 93$$

$$68 - 5 = 63$$

$$28 - 5 = 23$$

- Чем похожи равенства в каждом столбце?
- Чем отличаются?



< , > ИЛИ =

$$97 - 4 > 97 - 5$$

$$84 + 3 < 85 + 4$$

$$73 + 6 > 76 + 2$$

$$34 + 50 < 43 + 50$$

$$26 + 70 > 16 + 70$$

$$87 - 3 > 78 - 3$$

$$6 \text{ дм } 4 \text{ см} < 7 \text{ дм}$$

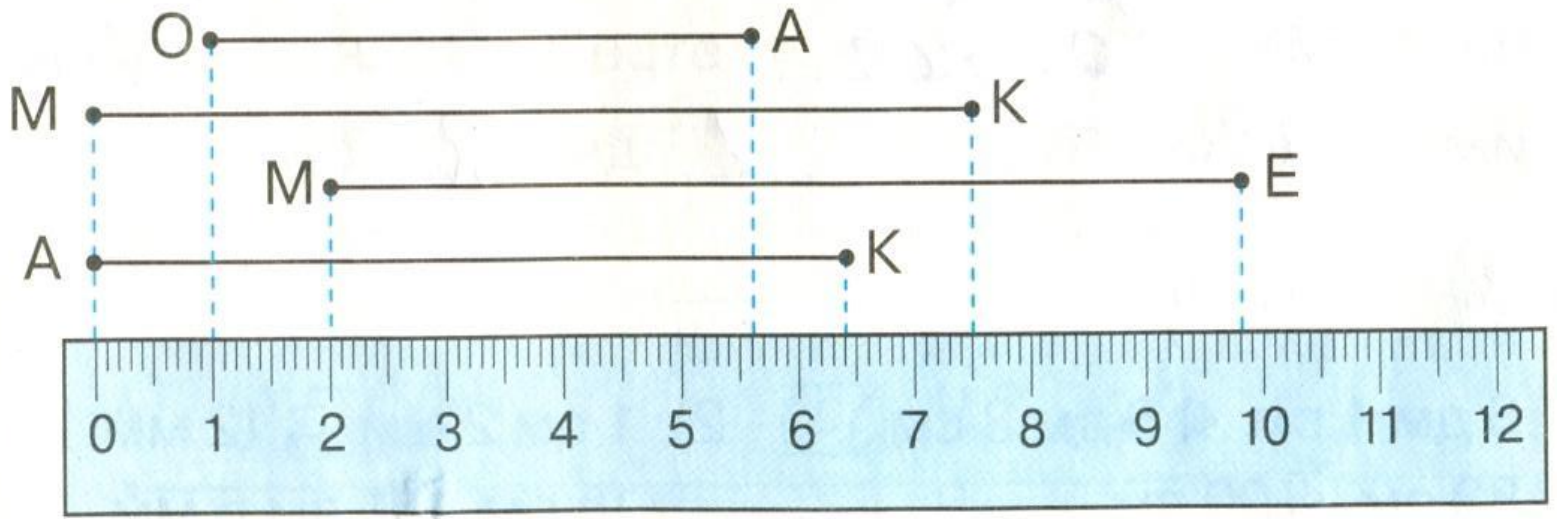
$$5 \text{ дм } 4 \text{ см} > 4 \text{ дм } 4$$

$$\text{см} <$$

$$36 \text{ см} \dots 4 \text{ дм}$$



Назови длину каждого отрезка

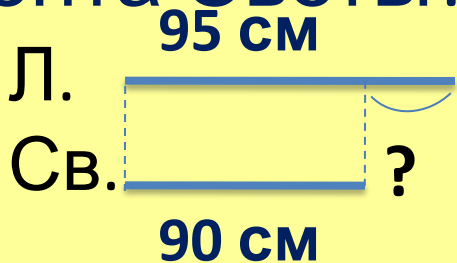


- OA = 46 мм;
- ME = 78 мм;
- AK = 64 мм;
- MK = 75 мм.



Реши задачу

У Ларисы лента **95 см**, а у Светы – **90 см**. На сколько сантиметров короче лента Светы?



Решение $95 - 90 = 5 \text{ (см)}$

Ответ: на **5 см** лента Светы короче.



учитель начальных классов
МБОУ «СОШ №9»
г.Сафоново Смоленской области

Ресурсы:

- Кубики <http://www.rewalls.com/download/12162/1600x1200>
- Автор шаблона Коровина Ирина Николаевна
- Н.Б.Истомина «Математика. 1 класс», Смоленск: Ассоциация XXI век, 2010г
- Н.Б.Истомина, З.Б.Редько «Математика. Рабочая тетрадь. 1 класс/часть2/», Смоленск: Ассоциация XXI век, 2013г.
- Н.Б.Истомина, Г.Г.Шмырёва «Математика. Контрольные работы. 1 класс», Смоленск: Ассоциация XXI век, 2013г.