

1 класс
второе
полугодие

УМК «Начальная школа XXI века»

Прибавление и вычитание чисел 7, 8, 9

Урок № 3



Учитель начальных классов
ГБОУ Школа №1222 имени маршала И.Х.Баграмяна г. Москвы
Луковкина Татьяна Сергеевна



Считаем устно

**Закрепляем состав
чисел 7, 8, 9.**



$$5 + 4 =$$

7

8

9



$$7 + 2 =$$

7

8

9



$$6 + 2 =$$

7

8

9



$$3 + 6 =$$

7

8

9



$$4 + 4 =$$

7

8

9



$$3 + 4 =$$

7

8

9



$$5 + 2 =$$

7

8

9



$$7 + 1 =$$

7

8

9



$$5 + 3 =$$

7

8

9



$$1 + 6 =$$

7

8

9

МОЛОДЦЫ!




11.  Рассмотрю таблицу. Расскажи, как с её помощью сложили числа 2 и 5.

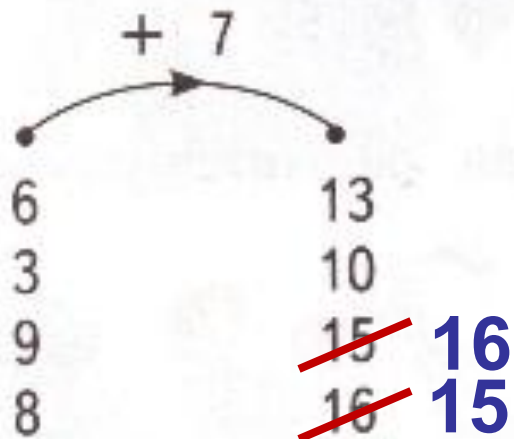
Таблица сложения

+	1	2	3	4	5	6	7	8	9
1	2	3	4	5	6	7	8	9	10
2	3	4	5	6	7	8	9	10	11
3	4	5	6	7	8	9	10	11	12
4	5	6	7	8	9	10	11	12	13
5	6	7	8	9	10	11	12	13	14
6	7	8	9	10	11	12	13	14	15
7	8	9	10	11	12	13	14	15	16
8	9	10	11	12	13	14	15	16	17
9	10	11	12	13	14	15	16	17	18

Найди в таблице результаты сложения чисел:
6 и 8, 7 и 4, 9 и 9, 8 и 7, 3 и 9, 7 и 7.

Работа по учебнику стр. 110

7. Что делает «машина»? Все ли результаты верные?



Самостоятельная работа в тетради стр. 74

7. Запиши результаты действий.

$15 - 5 = 10$	$9 + 5 = 14$	$14 - 6 = 8$
$15 - 10 = 5$	$5 + 9 = 14$	$9 + 3 = 12$
$8 + 6 = 14$	$13 - 6 = 7$	$4 + 8 = 12$
$8 - 6 = 2$	$12 - 12 = 0$	$8 - 4 = 4$

Оцени свою работу

Работа в тетради стр. 75

8.

На сколько 13 больше 5?

8

9

6

7

9.

Увеличь на 4 каждое из чисел.

7

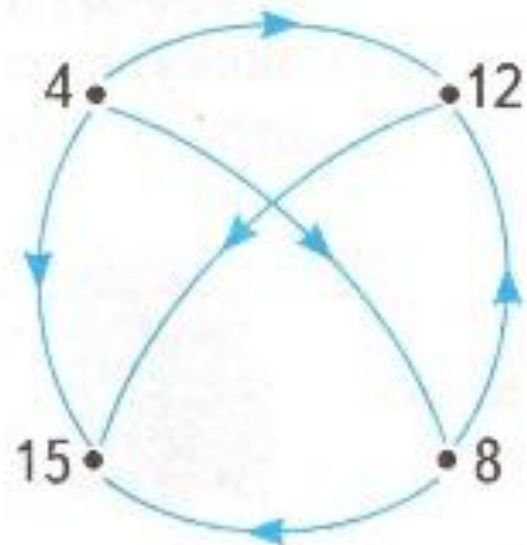
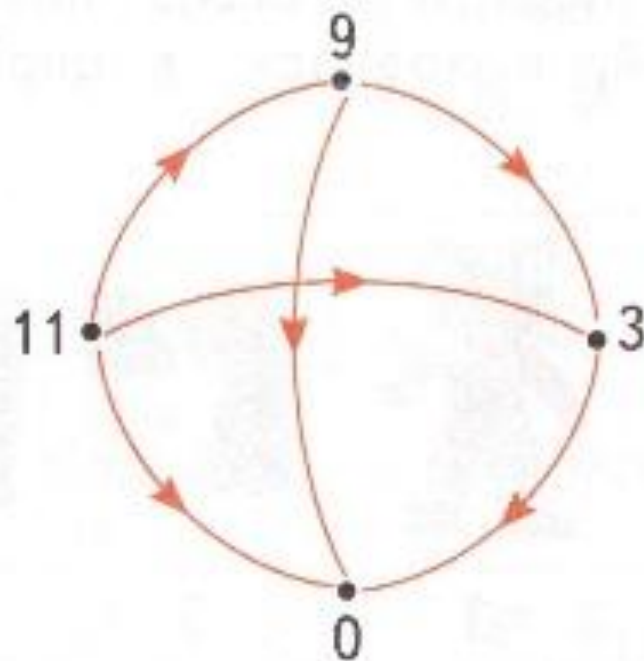
9

8

10

Работа по учебнику стр. 113

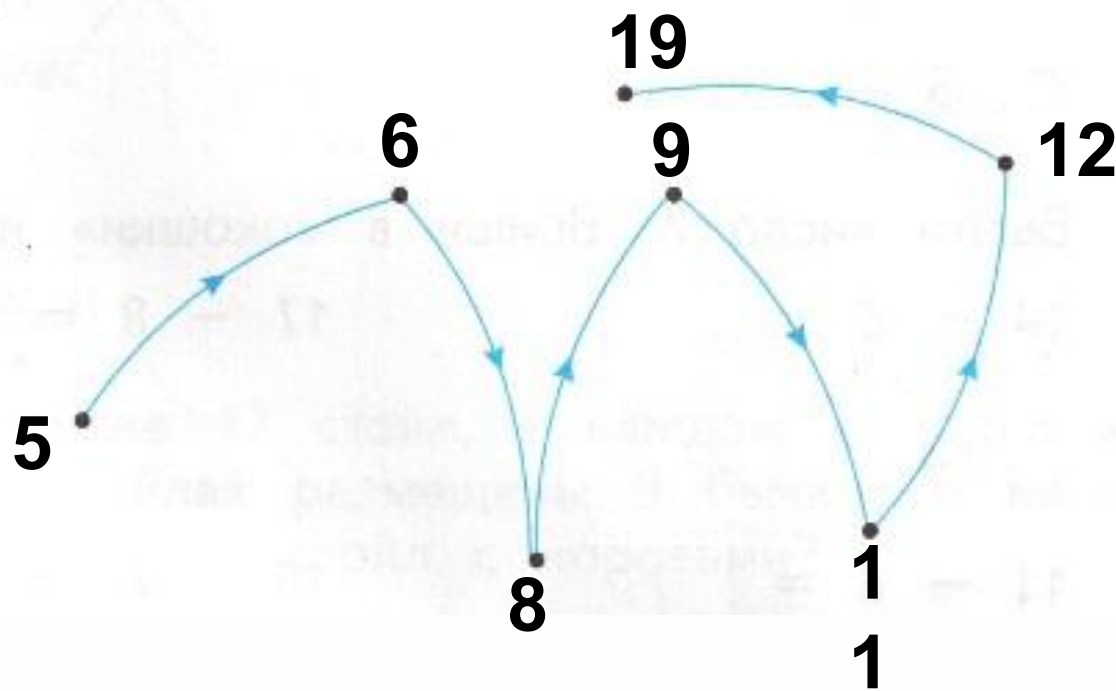
15. Составь все предложения о парах чисел.



Работа в тетради стр. 75

10.

Синяя стрелка заменяет слово «меньше»? Расставь рядом с точками числа: 8, 12, 6, 19, 9, 11, 5.



Работа в тетради стр. 75

11. Сколько букв в словах? Запиши.

Машина

Книга

Гриб

Мяч

Запиши эти числа в порядке увеличения.

12. В большой клетке 6 канареек, а в маленькой — 5. Из большой клетки пересадили в маленькую клетку одну канарейку.

Поровну ли канареек стало в клетках?

Да

Нет

Работа по учебнику стр. 111

9. Длина жёлтой ленты 8 дм, белая лента длиннее на 7 дм. Какой длины белая лента?

$$8+7=15(\text{дм})$$


Ответ: длина белой ленты 15 дм.

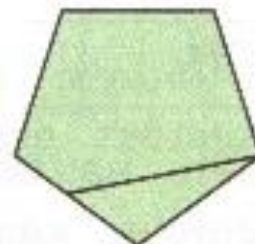
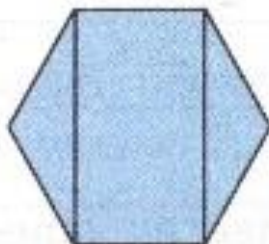
10. Кате 6 лет. Её брат Миша на 8 лет старше. Сколько лет Мише?

$$6+8=14(\text{лет})$$

Ответ: Мише 14 лет.


Работа по учебнику стр. 113

16.  Найдите на каждом рисунке два пятиугольника.








17. Измерь длину и ширину картинки.

11 см



5 см

19. В таблице содержится информация о том, сколько учеников первых классов поехали на экскурсию в музей, в зоопарк, в цирк, в театр, в кино.

Класс					
1 «А»	5	5	3	2	4
1 «Б»	4	10	—	1	5
1 «В»	—	—	10	3	3
1 «Г»	15	—	—	—	5

Ответь на вопросы.

Ученики какого класса приняли участие во всех мероприятиях?

Ученики каких классов не поехали в зоопарк? в цирк?

Сколько всего учеников поехали в цирк? в кино?

На сколько больше учеников поехали в цирк, чем в театр?

Сколько всего учеников из 1 «В» поехали в кино, театр и цирк?

Ученики какого класса были только на двух мероприятиях?

Сколько учеников из 1 «Б» были в музее и зоопарке? в театре и кино? в цирке и театре?

Были ли в зоопарке ученики 1 «В» класса?

Рефлексия урока



1

У меня всё
получилось!



2

Не всё получилось,
но я старался.



Не старался, **3**
Много не получилось

На уроке используется материал
учебных пособий УМК «Начальная школа XXI века»

**В.Н. Рудницкая Математика, 1 класс, учебник для учащихся общеобразовательных учреждений в 2 ч. Москва
Издательский Центр «Вентана – Граф», 2015 г. ; часть вторая
стр.113-114**

**Печатная тетрадь Н.В. Рудницкая «Математика.1 класс. № 3»,
Издание: 4-е изд., перераб. - М.: Вентана - Граф, 2015; с. 75**

Интернет - источники

Автор устного счёта «Состав чисел 7, 8, 9» (слайды 2-13)

Учитель начальных классов

МБОУ СОШ № 9 города Ковров

Проскурова Т.Н.

<http://nsportal.ru/nachalnaya-shkola/matematika/2013/10/06/prezentatsiya-sostav-chisel-7-8-9>

http://www.kyshtovgrad.ru/sites/default/files/u1975/moe_nastroenie.png - рефлексия урока