

УМК «Начальная школа XXI века»

Прибавление числа 4

*Учитель начальных классов
ГБОУ Школа №1222 имени маршала И.Х.Баграмяна г. Москвы
Луковкина Татьяна Сергеевна*



Считаем устно.

Закрепляем таблицу сложения числа 4

0	+	4	=	4	5	+	4	=	9
1	+	4	=	5	6	+	4	=	10
2	+	4	=	6	7	+	4	=	11
3	+	4	=	7	8	+	4	=	12
4	+	4	=	8	9	+	4	=	13



Работа по учебнику стр. 60

11. Назови ответы.

$5 - 3 = 2$

$6 + 3 = 9$

$8 + 2 = 10$

$7 + 0 = 7$

$10 - 3 = 7$

$6 - 3 = 3$

$11 - 2 = 9$

$7 - 0 = 7$

$9 + 2 = 11$

$10 - 2 = 8$

$5 + 1 = 6$

$9 + 3 = 12$

12. Расскажи, как узнать, на сколько:

7 больше 3,

6 больше 2,

4 меньше 9,

3 меньше 8.



Работа по учебнику стр. 61

16.  Сравни устно значения длины.

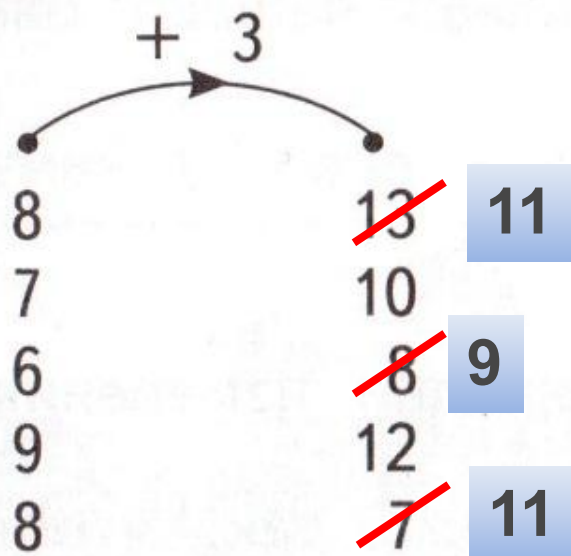
5 дм 7 см \leftarrow 6 дм

13 см \neq 1 дм 3 см

12 см \leftarrow 16 см

1 дм 4 см \leftarrow 15 см

17. Что делает «машина»? Найди и исправь ошибки.



Работа в тетради стр. 41

7. Запиши ответы.

$3 + 4 = 7$

$9 + 4 = 13$

$6 + 4 = 10$

$4 + 4 = 8$

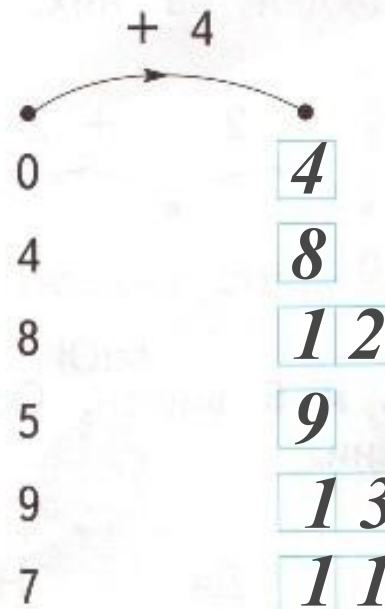
$8 + 4 = 12$

$1 + 4 = 5$

$5 + 4 = 9$

$7 + 4 = 11$

8. Запиши результаты работы «машины».



Работа в тетради стр. 40

5. В классе было 3 девочки и 2 мальчика. Вошли ещё 4 девочки и столько же мальчиков.

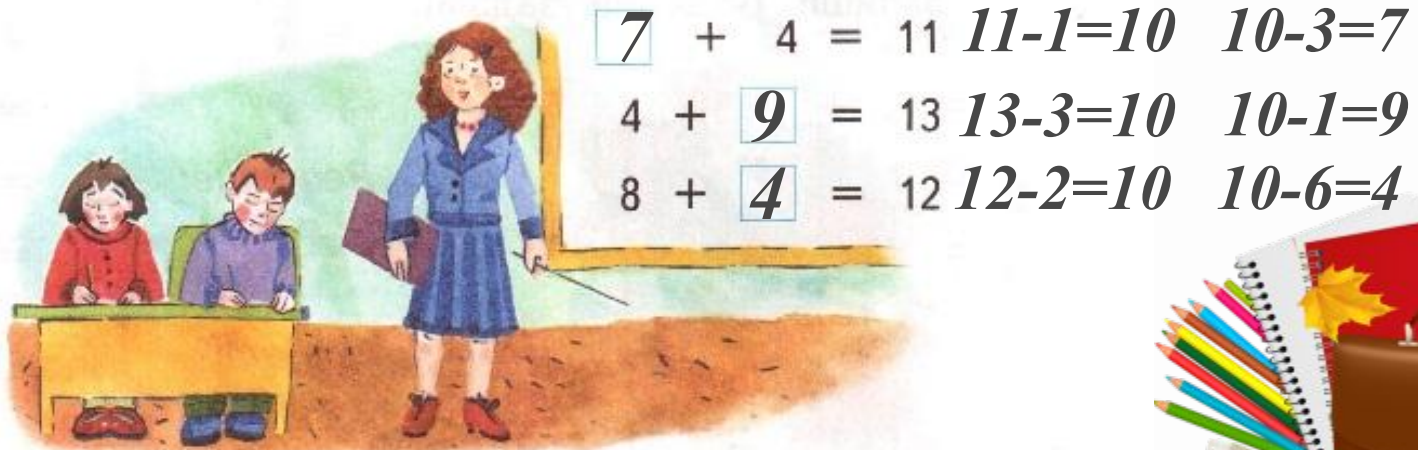
Сколько стало в классе девочек?

$$3 + 4 = 7 \text{ (дев.)}$$

Сколько стало мальчиков?

$$2 + 4 = 6 \text{ (мал.)}$$

6. ✨ Угадай числа и впиши их в «окошки».



Работа в тетради стр. 42


10. 

У папы 12 конфет. Каждому сыну он дал по 2 конфеты. Сколько у него сыновей?



Решение:

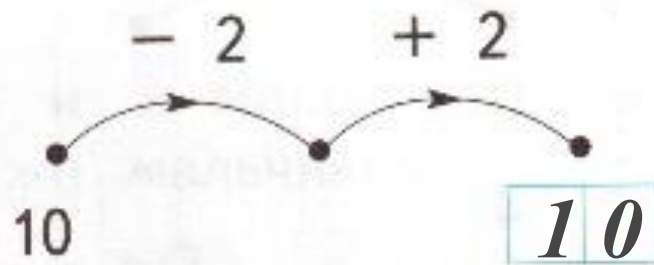
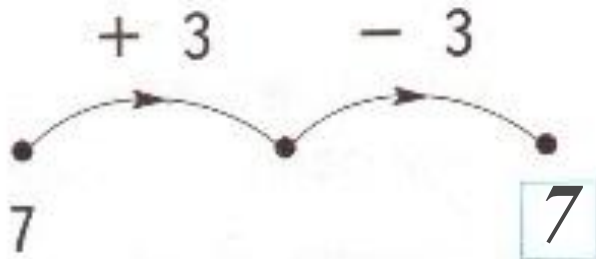
$$12 : 2 = 6 \text{ (сын.)}$$



Ответ: сыновей.

11. 

Винтик и Шпунтик соединили две «машины». Расскажи, как работает каждая из них. Впиши в «окошки» числа.



Работа в тетради стр. 42

12. В саду посадили 10 яблонь и 6 вишен. Осталось посадить 2 яблони и 3 вишни. Верны ли высказывания?

Яблонь посадили больше, чем вишен.

Да Нет

Осталось посадить 6 деревьев.

Да Нет

Для посадки привезли 12 яблонь.

Да Нет

Вишен привезли меньше, чем яблонь.

Да Нет



Работа в тетради стр. 42


13.

Что купила Маша, если она выбрала не синюю, не красную и не жёлтую игрушку?




Работа в тетради стр. 43


14. Выполни измерения и запиши результаты.



3 CM



7 CM



4 CM



Задание для самоподготовки в тетради стр. 43

15.

Покажи стрелками, кто кем хочет стать.

Юра



Вова



Коля



Женя



Моряк

Космонавт

Танкист

Солдат



Рефлексия

Как вы считаете, что
вам сегодня на уроке
удалось, а над чем ещё
надо поработать?

Что удалось...

Надо ещё поработать...



Интернет ресурсы

Автор шаблона для презентации

Фокина Лидия Петровна
учитель начальных классов МКОУ «СОШ ст. Евсино»
Искитимского района Новосибирской области (2014 г.)

Сайт <http://linda6035.ucoz.ru/>

<http://v.900igr.net:10/datas/russkij-jazyk/CHislitelnoe-urok/0014-014-Refleksija.jpg>- картинка рефлексии



**На уроке используется материал
учебных пособий УМК «Начальная школа XXI века»**

**В.Н. Рудницкая Математика, 1 класс, учебник для учащихся
общеобразовательных учреждений в 2 ч. Москва Издательский Центр
«Вентана – Граф», 2015 г. ; часть вторая стр. 60-61.**

**Печатная тетрадь Н.В. Рудницкая «Математика.1 класс. № 3»,
Издание: 4-е изд., перераб. - М.: Вентана - Граф, 2015; с. 40-42**

