

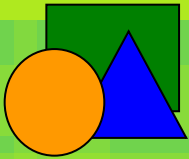
1 класс

второе
полугодие

УМК «Начальная школа XXI века»

Прибавление числа 6

*Учитель начальных классов
ГБОУ Школа №1222 имени маршала И.Х.Баграмяна г. Москвы
Луковкина Татьяна Сергеевна*



Считаем устно

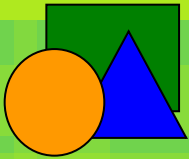
12

$$8+4$$

11

12

13



Считаем устно

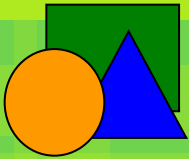
9

$$14 - 5$$

9

8

7



Считаем устно

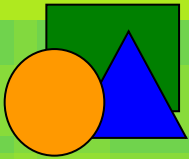
12

$$7+5$$

13

14

12



Считаем устно

13

$$9+4$$

13

14

12



Считаем устно

1

$$7 + 4$$

11

12

10



Считаем устно

8

$$11-3$$

7

8

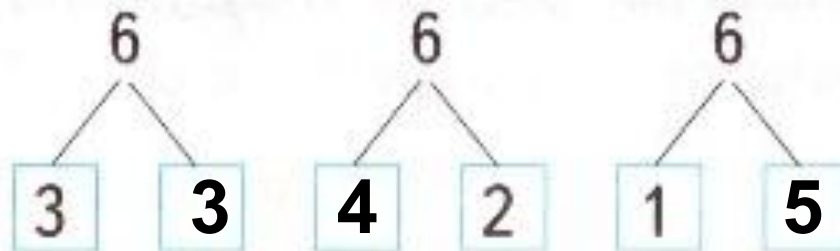
9

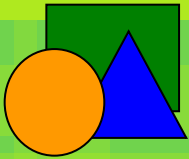
Работа в тетради стр. 53

1. Сумма каких чисел равна 6?

6	5	4	3	2	1
	1	2	3	4	5

2. Заполни «окошки» числами.





- Сколько нужно прибавить к числам

9, 8, 7, 6, 5, чтобы получить 10?

- Вычислите, используя приём сложения по частям:

$$5 + 6 = 11$$

Diagram showing the decomposition of 6 into 5 and 1. A blue line connects the 6 in the equation to a 5 and a 1 below it. The 5 and 1 are in red.

$$9 + 6 = 15$$

Diagram showing the decomposition of 6 into 1 and 5. A blue line connects the 6 in the equation to a 1 and a 5 below it. The 1 and 5 are in red.

$$8 + 6 = 14$$

Diagram showing the decomposition of 6 into 2 and 4. A blue line connects the 6 in the equation to a 2 and a 4 below it. The 2 and 4 are in red.

$$7 + 6 = 13$$

Diagram showing the decomposition of 6 into 3 and 3. A blue line connects the 6 in the equation to a 3 and a 3 below it. The 3 and 3 are in red.



Запомни таблицу сложения в учебнике на стр. 78

Запомни!

5	+	6	=	11
6	+	6	=	12
7	+	6	=	13
8	+	6	=	14
9	+	6	=	15



Работа в тетради стр. 53

3. Запиши ответы.

$$10 + 4 = 14$$

$$10 + 5 = 15$$

$$10 + 3 = 13$$

$$10 + 2 = 12$$

4. Составь и реши задачу с вопросом: «Сколько чашек на двух полках?»



Решение:


$$5 + 6 = 11 \text{ (чаш.)}$$

Ответ: 11 чашек.

Работа по учебнику стр. 76

6. Петя положил в портфель 6 тетрадей. Сколько тетрадей осталось положить? Сколько тетрадей будет в портфеле?

$$6+3=9 \text{ (тетр.)}$$




Ответ: в портфеле будет 9 тетрадей.

Работа по учебнику стр. 76

7.

Придумай и реши задачу на сложение.



Тюльпанов – 6 цв.	} ? цв.
Нарциссов – 4 цв.	

$$6 + 4 = 10 \text{ (цв.)}$$

Ответ: на клумбе 10 цветов.



Работа в тетради стр. 54

5. Выполни сложение.

$$8 + 6 = \boxed{14}$$

$$9 + 6 = \boxed{15}$$

$$6 + 6 = \boxed{12}$$

$$7 + 6 = \boxed{13}$$

$$6 + 9 = \boxed{15}$$

$$6 + 8 = \boxed{14}$$

$$6 + 7 = \boxed{13}$$

$$6 + 5 = \boxed{11}$$

6. Что неверно? Исправь ошибки.

$$7 - 3 = 4 \quad \text{○}$$

$$5 + 6 = 12 \quad \text{✗ } 1$$

$$7 + 4 = 11 \quad \text{○ } 1$$

$$12 - 5 = 6 \quad \text{✗ } 7$$

$$8 + 5 = 13 \quad \text{○}$$

$$10 - 5 = 5 \quad \text{○}$$

$$6 + 9 = 14 \quad \text{✗ } 15$$

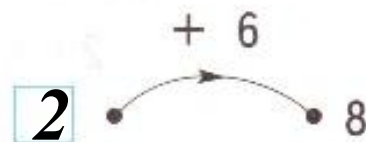
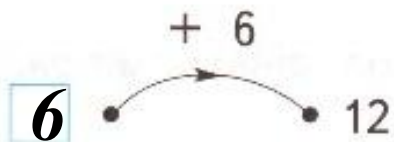
$$9 + 2 = 11 \quad \text{○}$$

$$6 + 8 = 13 \quad \text{✗ } 14$$

$$5 + 5 = 10 \quad \text{○}$$

Работа в тетради стр. 54

7. Догадайся, какие числа ввели в «машины». Впиши их в «окошки».



8. Как зовут кота?

$$\boxed{8 + 6} \rightarrow \text{Н}$$

$$\boxed{10 + 6} \rightarrow \text{С}$$

$$\boxed{12 - 5} \rightarrow \text{И}$$

$$\boxed{13 - 4} \rightarrow \text{У}$$




16 7 14 9 16
 $\boxed{с}$ $\boxed{и}$ $\boxed{н}$ $\boxed{у}$ $\boxed{с}$

Работа по учебнику стр. 77

9. Сравни суммы, не выполняя сложение.

$9 + 6 \neq 6 + 9$ $8 + 6 > 7 + 6$

10. После покупки шоколадки у Веры осталось 6 р. Сколько денег было у Веры?



$6 + 8 = 14$ (руб.)

Ответ: у Веры было 14 рублей.

Работа в тетради стр. 54

12.

Я съел  .

Остальные  я отдал Пете.

Сколько орехов у меня было?

Решение:

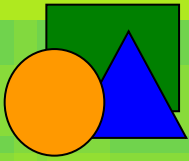
$$4 + 6 = 10 \text{ (ор.)}$$

Ответ: 10 орехов у меня было.

РЕФЛЕКСИЯ

- Что понравилось на уроке?
- Чему научились?
- Что было трудным?



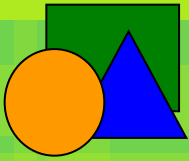


Интернет - ресурсы

Шаблон презентации взят с сайта

http://prezentazia.ucoz.ru/load/shablony/shkolnye/v_kletku/39-1-0-79

<http://bigslide.ru/images/24/23620/960/img6.jpg> - рефлексия на уроке



На уроке используется материал
учебных пособий УМК «Начальная школа XXI века»

В.Н. Рудницкая Математика, 1 класс, учебник для учащихся общеобразовательных учреждений в 2 ч. Москва Издательский Центр «Вентана – Граф», 2015 г. ; часть вторая стр. 75-77.

**Печатная тетрадь Н.В. Рудницкая «Математика.1 класс. № 3»,
Издание: 4-е изд., перераб. - М.: Вентана - Граф, 2015; с. 53-55**