

Прибавление и вычитание числа 1

1
второе
класс
полугод
ие



УМК «Начальная школа XXI века»

Считаем

УСТНО

$10 + 5 =$

15

$13 - 3 =$

10

$7 + 10 =$

17

$14 - 10 =$

4

$12 - 1 =$

11

$15 + 1 =$

16

$20 - 1 =$

19

$16 + 1 =$

17

$14 + 0 =$

14

$17 - 17 =$

0

$19 - 0 =$

19

$0 + 13 =$

13

$20 - 20 =$

0

$15 - 0 =$

15

Работа по учебнику

стр. 31

2. Назови число, следующее при счёте за числом: 3, 7, 9, 10, 13, 18.
3. Какое число называют при счёте перед числом: 4, 6, 8, 10, 14, 17?
4. Как можно прибавлять и вычитать число 1?



Чтобы к числу прибавить 1, можно назвать следующее за ним при счёте число.
Чтобы из числа вычесть 1, можно назвать предыдущее при счёте число.

Смотрим Интернет урок

Нумерационные случаи сложения и вычитания в пределах 10 (3:54 мин)

http://interneturok.ru/ru/school/matematika/1-klass/undefined-0/numeratsionnye-sluchai-i-slozheniya-i-vychitaniya-v-predelah-10?chapter_id=3064&book_id=40

На данном уроке учащиеся повторят счет от 1 до 10, понаблюдают, как изменяются числа на числовом луче слева направо. Вместе с лягушонком дети сформулируют правило для сложения и вычитания единицы, а также решат несколько интересных примеров на данную тему.

Работа по учебнику

стр. 31

5. Объясни, как ты выполнишь действия. Назови результаты.

$$6 + 1 = 7 \quad 14 + 1 = 15 \quad 9 - 1 = 8 \quad 15 - 1 = 14$$

$$9 + 1 = 10 \quad 18 + 1 = 19 \quad 7 - 1 = 6 \quad 19 - 1 = 18$$

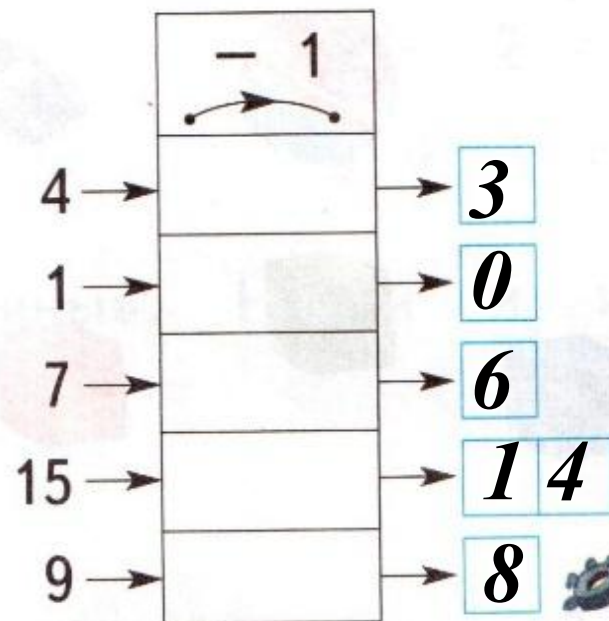
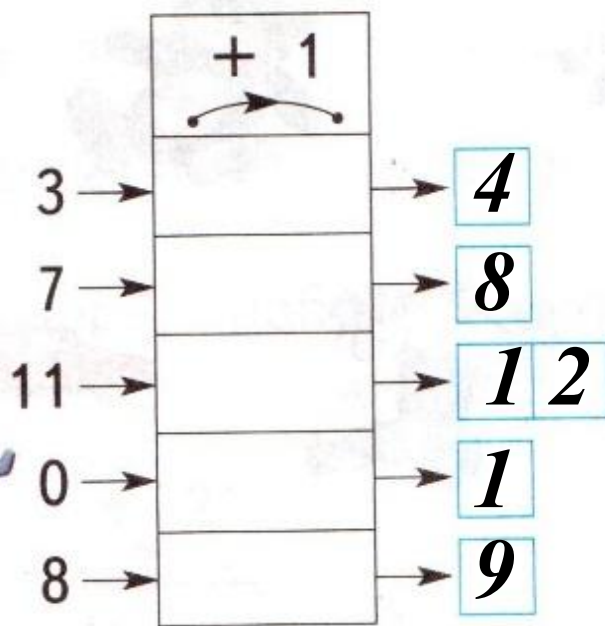
6. Прочитай записи.

$$8 + 1 = 9 \quad 7 - 1 = 6$$

Работа в тетради стр.

23

1. Что делает каждая «машина»? Запиши результаты вычислений.



Работа в тетради стр. 23

2. Запиши ответы.

$3 + 1 = 4$

$16 + 1 = 17$

$4 - 1 = 3$

$4 + 1 = 5$

$0 + 1 = 1$

$8 - 1 = 7$

$7 + 1 = 8$

$10 - 1 = 9$

$1 - 1 = 0$

$5 + 1 = 6$

$7 - 1 = 6$

$19 - 1 = 18$



Работа по учебнику

Число, которое получается при сложении, называют словом **сумма**.

Число, которое получается при вычитании, называют словом **разность**.

7. Назови сумму чисел.

$$8 \text{ и } 1 = 9 \quad 11 \text{ и } 1 = 12 \quad 5 \text{ и } 1 = 6 \quad 17 \text{ и } 1 = 18$$
$$3 \text{ и } 1 = 4 \quad 4 \text{ и } 1 = 5 \quad 6 \text{ и } 1 = 7 \quad 0 \text{ и } 1 = 1$$

8. Назови разность чисел.

$$7 \text{ и } 1 = 6 \quad 2 \text{ и } 1 = 1 \quad 1 \text{ и } 1 = 0 \quad 10 \text{ и } 1 = 9$$
$$9 \text{ и } 1 = 8 \quad 5 \text{ и } 1 = 4 \quad 18 \text{ и } 1 = 17 \quad 16 \text{ и } 1 = 15$$

Работа по учебнику

9. Составь задачи по рисункам и реши их.
стр. 32



$$4 + 1 = 5$$

(цв.)



$$1 + 3 = 4$$

(тар.)



$$8 - 1 = 7$$

(шар.)



$$9 - 1 = 8$$

(пир.)

Запомни!

$0 + 1 = 1$	$5 + 1 = 6$
$1 + 1 = 2$	$6 + 1 = 7$
$2 + 1 = 3$	$7 + 1 = 8$
$3 + 1 = 4$	$8 + 1 = 9$
$4 + 1 = 5$	$9 + 1 = 10$



$1 - 1 = 0$	$6 - 1 = 5$
$2 - 1 = 1$	$7 - 1 = 6$
$3 - 1 = 2$	$8 - 1 = 7$
$4 - 1 = 3$	$9 - 1 = 8$
$5 - 1 = 4$	$10 - 1 = 9$



Работа в тетради стр.

23

ВСПОМИНАЕМ ПРОЙДЕННОЕ

3.

Заполни пропуски.

$$10 + 9 = \boxed{19}$$

$$10 + \boxed{7} = 17$$

$$\boxed{10} + 2 = 12$$

$$10 + \boxed{0} = 10$$

$$6 + \boxed{10} = 16$$

$$3 + \boxed{10} = 13$$

$$8 + 10 = \boxed{18}$$

$$\boxed{9} + 10 = 19$$

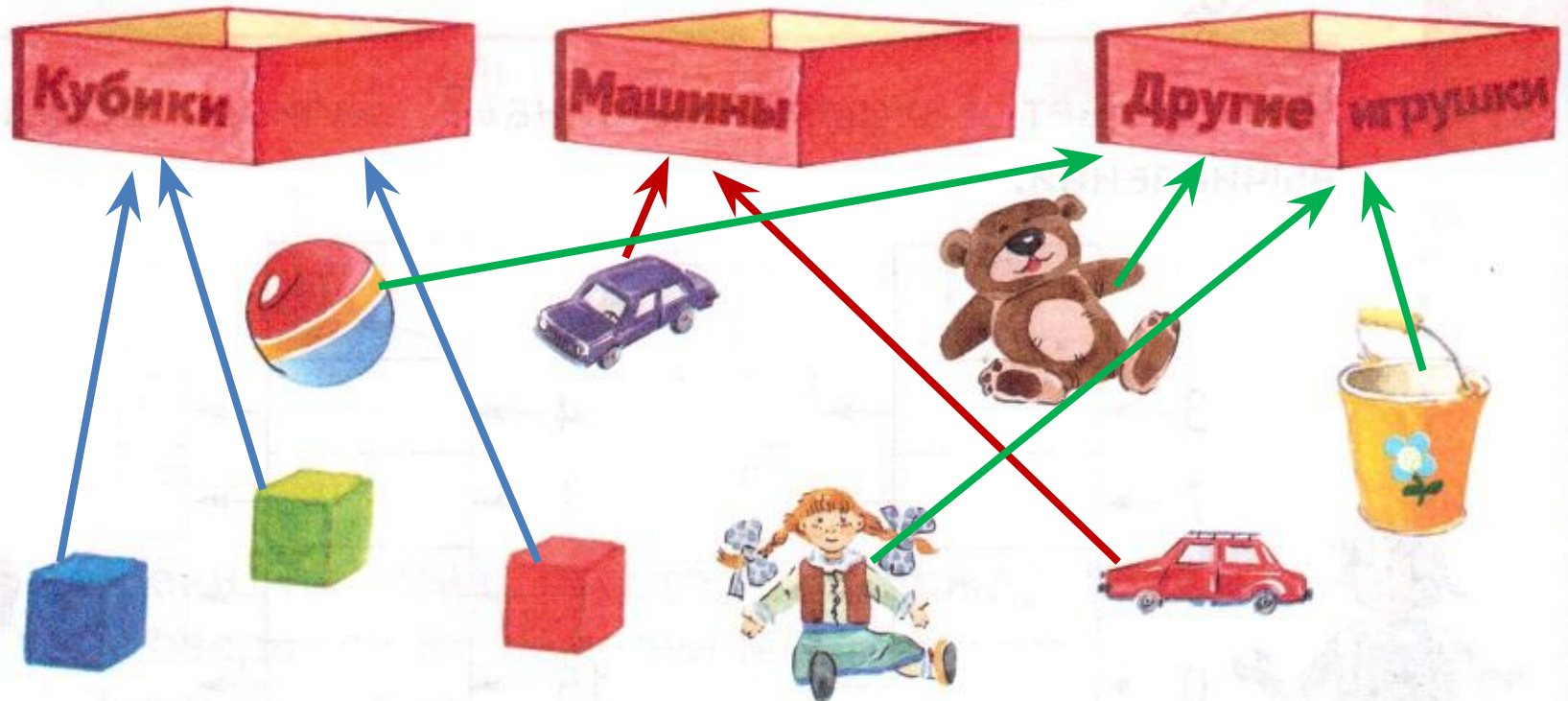


Работа в тетради стр.

24

4.

Покажи стрелками, в какой ящик нужно положить каждую из игрушек.



Работа по учебнику

стр. 33

- 11.** Около дома посадили 10 рябин и 4 черёмухи.
Сколько всего деревьев посадили?

$$10 + 4 = 14 \text{ (дер.)}$$

**Ответ: всего посадили 14
деревьев.**



Работа по учебнику

15.

Прочитай и реши задачу.



$$2 + 0 = 2$$

(гр.)

Ответ: у мальчика и девочки 2 гриба.



Задания для самоподготовки в тетради стр. 24

6. Запиши числа 12, 15, 13, 19, 11, 20, 14 в порядке уменьшения.

--	--	--	--	--	--	--	--

7. Сколько чисел Вова пропустил при счёте?
10, 11, 12, 14, 16, 17, 20

Одно Два Три Четыре



Рефлексия



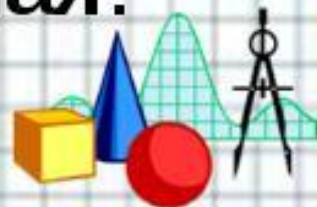
Я всё понял на уроке и могу
объяснить товарищу.



Я усвоил тему, но объяснить
не могу.



Эта тема для меня трудная.



Интернет

Шаблон презентации ресурсы

<http://nachalo4ka.ru/>

<https://yadi.sk/d/jMRZUiEcMkmoM>

<http://mypresentation.ru/documents/a1797ef2406d4124f18256dc2140ef01/img13.jpg> -

рефлексия урока

**На уроке используется материал
учебных пособий УМК «Начальная школа XXI века»**

**В.Н. Рудницкая Математика, 1 класс, учебник для учащихся
общеобразовательных учреждений в 2 ч. Москва Издательский
Центр «Вентана – Граф», 2015 г. ; часть вторая стр. 31-33, 35**

**Печатная тетрадь Н.В. Рудницкая «Математика.1 класс. № 3»,
Издание: 4-е изд., перераб. - М.: Вентана - Граф, 2015; с. 23-24**

