



1

В каких из этих сооружений использована стоечно-балочная конструкция?

1



2



3



4



1



2



2

3



**Определите, что перед вами:
кромлех, дольмен или менгир.**

4



5



3


**Почему можно
и почему нельзя
назвать эти сооружения
кромlechами?**



4

Ответьте на следующие вопросы:

1. Какое из сооружений формирует более закрытое пространство?
2. Какие фигуры напоминают внутренние пространства этих сооружений?



1

2

3. В каком сооружении переход из внешнего во внутреннее пространство специально оформлен?



5

Какими
приемами
пользовался
первобытный
художник

1



2



для передачи
формы
животного?

1

6

Какими
приемами
пользовался

первобытный художник
для передачи
объема животных?

2

