




Путешествие

3

День
рождения


Королева Ирина
Николаевна
учитель начальных
классов
МКОУ СОШ №2
г.Нефтекумск

Путешествие 3 ДЕНЬ РОЖДЕНИЯ



№1 Задача

Для приготовления 6 л шоколадного коктейля нужно 2 пачки какао. Сколько литров шоколадного коктейля получится из 3 таких же пачек какао?



№2 Задача

Сколько пачек какао нужно для приготовления такого коктейля для 15 гостей, если для каждого гостя нужно приготовить 2 литра коктейля?



№3 Задача

Есть 45 грецких орехов. Пятая часть этого количества орехов нужна для украшения именинного пирога и ещё несколько орехов нужно для приготовления коржей и начинки. Хватит ли 45 орехов для приготовления такого пирога, если для теста и начинки нужно 40 орехов?




№4 Задача

Есть три воздушных шарика. Это двадцатая часть тех шаров, которые нужны для игры «Попробуй проколи». Сколько шаров нужно ещё купить, чтобы устроить эту игру?



№5 Задача

Гости разделились на две команды: команду мальчиков и команду девочек. В одной команде 6 человек, а в другой 9. Каждый гость придумал к празднику одинаковое количество игр. Команда из 6 человек придумала на 12 игр меньше. Сколько игр могли придумать девочки?



6 Праздник в день рождения Алисы Селезнёвой продолжался 6 часов. Это время (целое) на рисунке изображено в виде круга. Расскажите по рисункам, какую часть этого времени гости танцевали, играли, угощались. Красным цветом показана та часть времени, которую Алиса и её гости провели за игрой. Синим цветом – та часть времени, которая была отдана танцам. Жёлтым цветом – угощению.



- Сколько часов гости Алисы танцевали? Сколько часов они играли?
- Какой план развлечений вы бы придумали для своего праздника?



№ 7 Задача

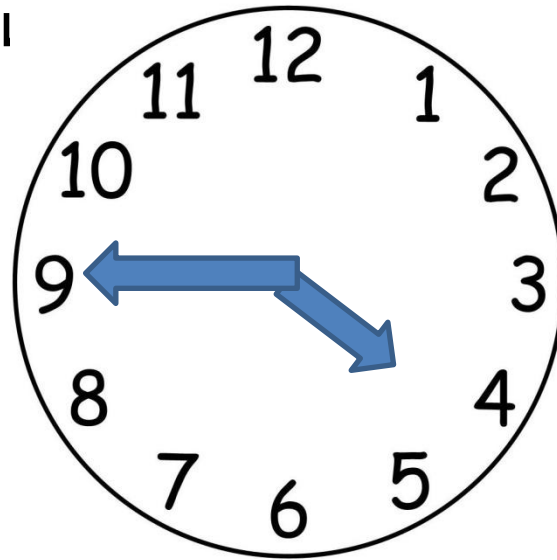
На подготовку к празднику Алиса затратила 3 недели. Сколько это суток? Сколько времени нужно вам на подготовку к празднику?

Пн	Вт	Ср	Чт	Пт	Сб	Вс
				1	2	3
4	5	6	7	8	9	10
11	12	13	14	15	16	17
18	19	20	21	22	23	24
25	26	27	28	29	30	




№ 8 Задача

Для того чтобы накрыть стол, вам нужно полчаса, четверть часа нужна, чтобы проверить, всё ли готово для игр, и столько же времени, чтобы надеть свой праздничный наряд. Хватит ли на всё это времени, если праздник должен начаться в 18 часов, а на часах – без четверти



9 Алиса показала своим гостям математический фокус. Она попросила их задумать двузначное число, у которого число десятков на 2 больше числа единиц, вычесть из него двузначное число, которое записывается теми же цифрами, но в обратном порядке, и разделить полученную разность на 9. Какое число должно получиться в результате?



ИСТОЧНИК

<http://okartinkah.ru/img/kartinki-pozdravleniya-s-dnem-rozhdeniya-detskie-694/kartinki-pozdravleniya-s-dnem-rozhdeniya-detskie-47.jpg> - 1 слайд

http://ic.pics.livejournal.com/seregalab/67990590/6355/6355_600.jpg - Винни Пух

http://d.sebinhaber.com/gallery/38_9.jpg - орехи

http://images.slobber.ru/tmp/yiti1vze.c2b_272_224.jpg - шары

http://fullref.ru/files/27/8ab52e9bd9e3e46314323b71bc3b08b8.html_files/1.png - мальчик и девочка

https://yt3.ggpht.com/-AbRGhKdhq8k/AAAAAAAAAAI/AAAAAAAAAAA/_hA-hOPYdzw/s900-c-k-no/photo.jpg - часы

