

Окружающий мир

2 класс

УМК «Школа России»

**Автор работы:
учитель начальных
классов
МОУ «СОШ ст. Евсино»
Фокина Лидия Петровна
2011 год**



Тест по теме «Путешествие по Оке»



Инструкция:

1. Прочитай внимательно вопрос.
2. Прочитай внимательно все ответы.
Помни, что ответов может быть несколько.
3. Выбери геометрическую фигуру (или фигуры) , , , соответствующую вашему ответу.
4. Нарисуй на своём контрольном листе



1. В какую реку впадает Ока?

- в Волгу
- в Обь
- в Енисей



3. Какой город на Оке самый большой?

△ Нижний Новгород

□ Рязань

○ Калуга



4. В каком городе на Оке есть Кремль?

- △ в Орле
- в Пущино
- в Коломне



5. Какой город разделён Окой на две части?

- △ Рязань
- Нижний Новгород
- Коломна



6. В каком городе находится дом-музей К. Э. Циолковского?

- в Коломне
- в Муроме
- в Калуге



7. Какой город называют «городом художников»?

- Рязань
- Тарусу
- Серпухов



8. Рядом с каким городом расположен Приокско-Террасный заповедник?

- △ с Орлом
- с Серпуховом
- с Муромом



9. Какого зверя разводят в Приокско-Террасном заповеднике?



тигра



медведя




зубра


располагается Горьковский автомобильный завод - ГАЗ?



в Рязани




в Нижнем Новгороде



в Калуге



Ключ к ответам



Используемые источники:

Тихомирова Е. М. Тесты по предмету «Окружающий мир»: 2 класс. М.: Издательство «Экзамен», 2007

<http://jiuca.ru/Cards/Bear.jpg>

<http://daudia.free.fr/tigregif.gif>

<http://bvi.rusf.ru/taksa/i0001/0001698b.jpg>

<http://i050.radikal.ru/0803/c8/99d34cffe4ff.png>

Автор работы:
Фокина Лидия Петровна
FokinaLida.75@mail.ru

