

Урок математики «Путешествие в Африку»



Открытое занятие для
первоклассников и их родителей
составила учитель высшей
категории школы № 118

г.Санкт-Петербурга

Ильина Л. Н.

АФРИКА



Живут там обезьяны,
Слоны, гиппопотамы.
Львы, зебры и
жирафики
Гуляют в жаркой...



Здравствуйте, ребята! Мы тоже ходим в школу. Нам дали примеры, но мы никак не можем их решить. Не смогли бы вы нам помочь?

$$5 + 1 = 6$$

$$6 - 3 = 3$$

$$7 - 3 = 4$$

$$7 + 1 = 8$$

$$4 + 3 = 7$$


$$3 + 2 = 5$$



**Привет мальчишки и
девчонки!**

**У меня для вас тоже есть
задание:**


**ЗАПОМНИТЕ
РАСПОЛОЖЕНИЕ ФИГУР.**



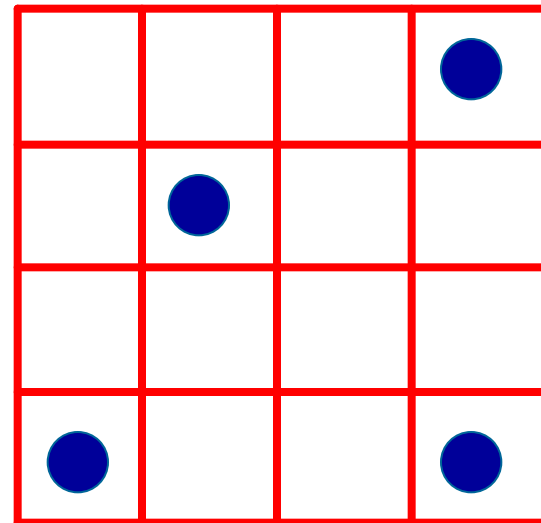
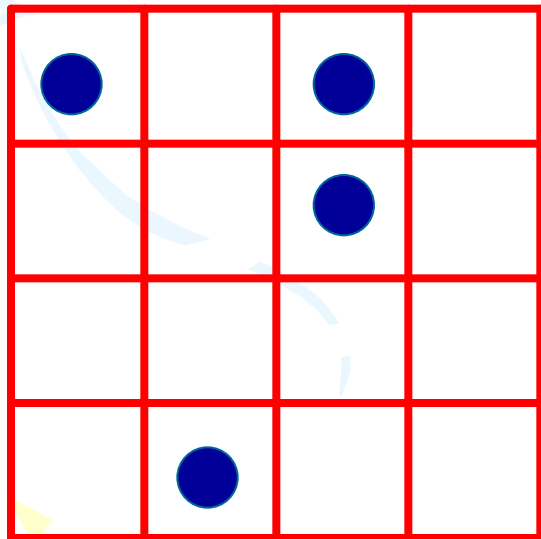


Теперь нужно ПОВТОРИТЬ
РАСПОЛОЖЕНИЕ ФИГУР с
помощью волшебного
карандаша. Я не смог.
Вы мне поможете, ребята?

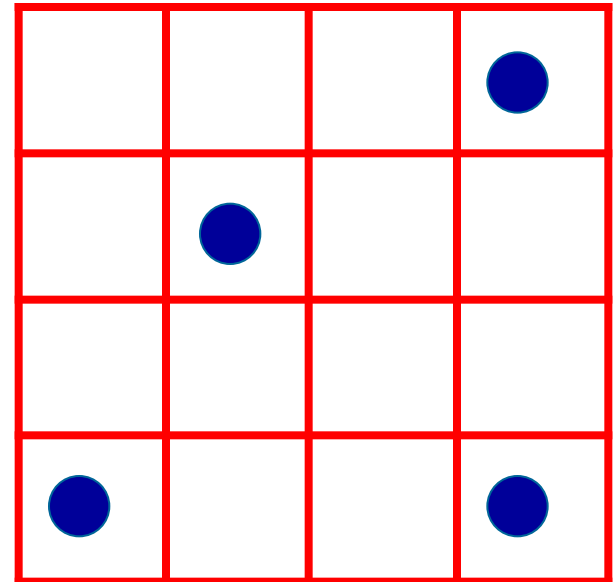
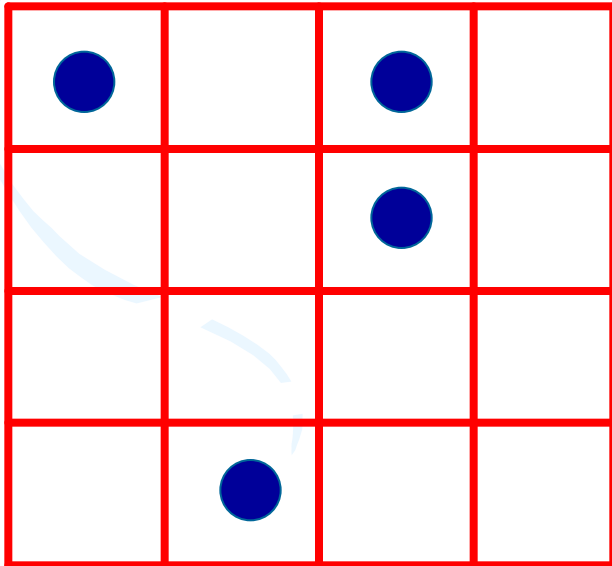
**Восстановите
последовательность.**



Здравствуйтесь ребята!
И у меня для вас есть
задание:
**ПОСМТРИТЕ ВНИМАТЕЛЬНО
И ЗАПОМНИТЕ
РАСПОЛОЖЕНИЕ ТОЧЕК.**






**Давайте
проверим!**



Задачи от Совы

Я рисую кошкин дом:
Три окошка, дверь с
крыльцом.
Наверху ещё окно,
чтобы
Не было темно.
Посчитай окошки
в домике у кошки!





Задачка про ёжика

Ёжик по грибы пошёл

10 рыжиков нашёл

8 положил в корзинку

Остальные же на спинку

Сколько рыжиков несёшь

На своих иголках ёж?

$$10 - 8 = 2(\text{рыжика})$$




?



Физминутка







Сколько точек в этом круге, столько раз поднимем руки.



Сколько бабочек весёлых, столько сделаем поклонов.



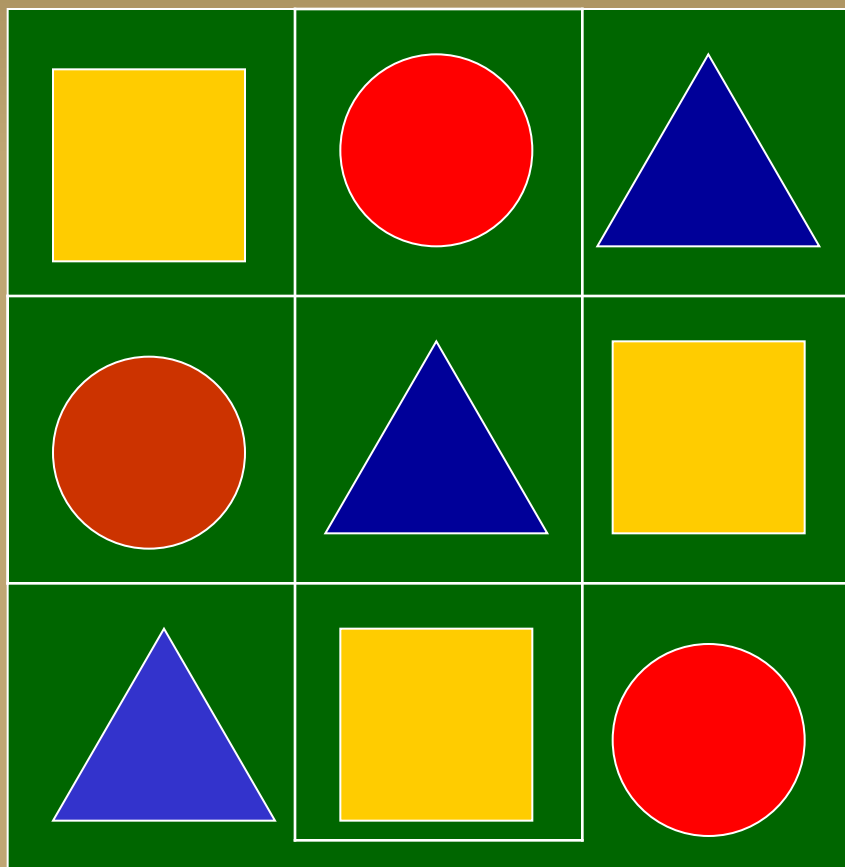
Сколько здесь кружков, столько сделайте прыжков.



Дружно страусов считаем, столько вместе приседаем.

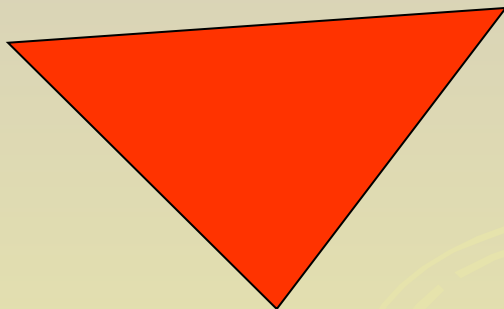

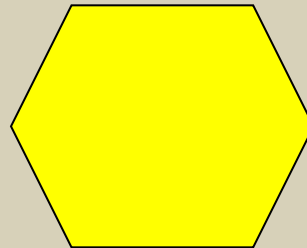


Найдите закономерность в
размещении фигур и
заполните пустые клетки



**Здравствуйте, детишки,
ученики - ребяташки!**

**Помогите мне, пожалуйста.
Нужно ПОСЧИТАТЬ – ИЗ СКОЛЬКИХ
ОТРЕЗКОВ СОСТОИТ КАЖДАЯ ФИГУРА.**




Задачки – шутки от дядюшки Страуса



Когда цапля стоит на одной ноге, то она весит 3 кг. Сколько будет весить цапля, если встанет на две ноги?

В вазе - 3 тюльпана и 7 нарциссов. Сколько тюльпанов в вазе?





**Вот и закончился наш
волшебный урок...**

**Давайте вспомним, что вам
понравилось?
Что запомнили?
Чему вы научились?**



Спасибо!



Используемые источники:

- 1. Интернет ресурсы
- 2. Физминутка «Лето» Галкина Инна Анатольевна
- 3. Анимационные картинки
<http://miranimashek.com/photo/40-3-0-0-2>
- <http://animashky.ru/index/0-11?34>
- http://animo2.ucoz.ru/photo/animacii_malogo_razmera/animacii_zhivotnykh/1-2-0-0-2
- 4. Музыка Чунга-Чанга
<http://www.zausev.net/pages/191/19180.shtml>