



**3 класс
УМК
любой**

Решаем задачи

Задачи на увеличение и
уменьшение числа в несколько раз

Часть 2

**Составитель: Печенкина
С.В.
МКОУ «СОШ №44»
г. Миасс
2015г.**



Выбери задачу

1

2

3

4

5

6

7

8

9

10

11

12

13

14

15



Задача

Во дворе¹
стояло 15
легковых
машин, а
грузовых – в 3
ра

решение

машин.

Сколько
грузовых
машин
стояло во
дворе?



Задача

В коробке²
было 3 куска
зелёного
мела, а белого
– в 5 раз

Сколько
кусков
белого мела
было в



б
решение
кусков.

Задача

Во ³одном
классе 18
комнатных
растений, а в
другом – в 3
ра
решение
растении.

Сколько
комнатных
растений в
другом
классе?



Задача

У школы⁴
росло 5 елей,
а берёз – в 4
раза больше.

Сколько
берёз росло
около
школы?

решение


берёз.



Задача

У Юры ⁵24
фломастера, а
ручек – в 3
раза меньше.

Сколько
ручек у Юры?



решение

ручек.



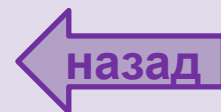
Задача

На одной
клумбе 15
цветов, а на
другой – в 2
раза больше.

решение

цветов.

Сколько
цветов на
другой
клумбе?



Задача

В ⁷первый день турист прошёл 20 км, а во второй – в 2 раза меньше.

Сколько километров прошёл турист во второй день?

решение

километров.



← назад

→ далее

Задача


В пер⁸вый
день Аня
прочитала 36
страниц, а во
второй – в 2

р

решение

страниц.

Сколько
страниц Аня
прочитала во
второй день?



Задача

У Вити ⁹4
солдатика, а у
Саши – в 2
раза больше.

Сколько
солдатиков
у Саши?

решение

солдатиков.



Задача

10
Ребята

вырастили 48
красных роз, а
жёлтых – в 6
раз меньше.

решение

Сколько
жёлтых роз
вырастили
ребята?



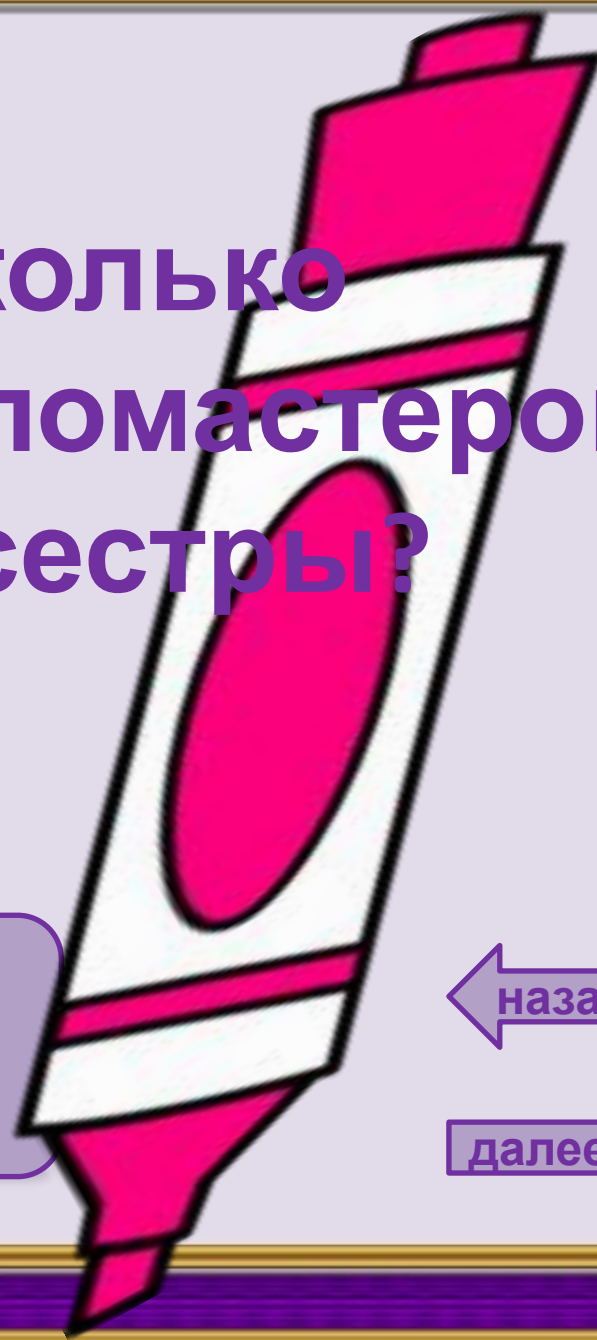
Задача

У брата ¹¹9
фломастеров,
а сестры – в 3
раза больше.

Сколько
фломастеров
у сестры?

решение

фломастеров.



Задача

В одном ¹² ящике было 40 кг груш, а в другом – в 5 раз меньше.

решение

килограммов.

Сколько килограммов груш было в другом ящике?



зад

далее

Задача

К кормушке¹³
прилетело 36
синиц, а
поползней – в
9 раз меньше

Сколько
поползней
прилетело к
кормушке?

решение

поползня.



назад

далее

Задача

Арбуз¹⁴ весит
12кг, а дыня –
в 2 раза
меньше.

Сколько
весит дыня?



решение

килограммов.

← назад

→ далее

Задача

Ива ¹⁵ живёт 100
лет, а дуб – в
4 раза
больше.

Сколько лет
живёт дуб?

решение





Интернет-

ИСТОЧНИКИ:

- http://best-iconki.ru/downloads/P1G/255/technology_0024.png
- http://t3.gstatic.com/images?q=tbn:ANd9GcThGbGoDHj3d5CybCCcNoV31Eh_eM3GN369XEF3okVi7WAKqriWHRsYw2sp
- http://freedizain.ru/images/design/3d_grafika/3d_grafika_3d_modeli_vysoko_detalizirovannyx_modelej_komnatnyx_rastenij.jpg
- <http://ramki-vsem.ru/png/cliparts11.png>
- <https://fotki.yandex.ru/next/users/elena-soloveika/album/280071/view/588148?page=3>
- <http://papus666.narod.ru/clipart/tc/tsvet/roz/tcvet75.png>
- http://art-saloon.ru/big/item_5522.jpg
- <http://foto-ramki.com/predmet/knigi3.png>
- <http://papus666.narod.ru/clipart/i/igr/igru05.png>
- <http://i013.radikal.ru/0805/73/5bc6022f8d45.png>
- <http://images.clipartpanda.com/markers-clipart-pink-color-marker-md.png>
- <http://www.zooclub.ru/attach/fotogal/clip/birds/277.jpg>http://img-fotki.yandex.ru/get/9494/981986.8f/0_909e9_71760091_orig
- <http://s1.pic4you.ru/allimage/y2013/01-09/12216/2940496.png>
- http://easyen.ru/load/metodika/k_prezentacijam/kollekcija_ramok_dlja_sozdaniija_prezentacij/277-1-0-21925 рамка для оформления

«2500 задач по математике» О.В.Узорова, Е.А.Нефёдова