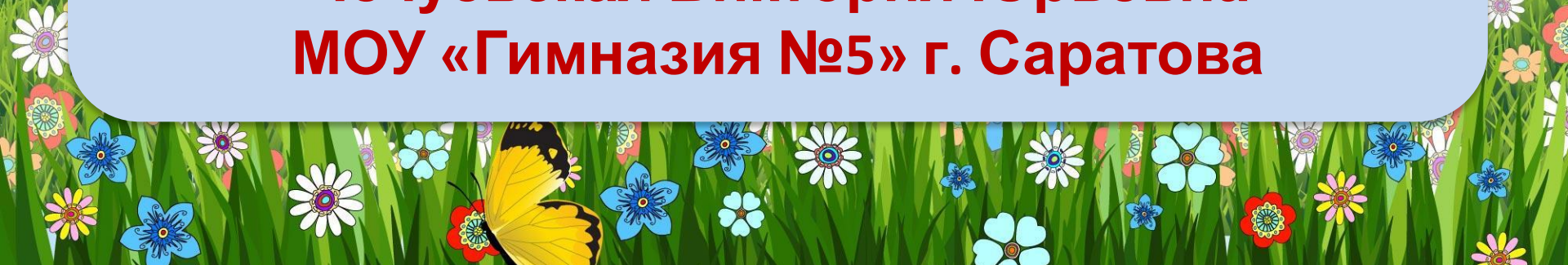




**Решение простых задач  
(математика 1 класс)  
Автор работы  
Чечуевская Виктория Юрьевна  
МОУ «Гимназия №5» г. Саратова**





**Ребята!**

**Помогите пчелкам наполнить соты  
мёдом.**



**Решайте задачи и выбирайте правильный  
ответ. Если ответ верный, цифра исчезнет.  
Кликайте по бочонку с медом и решайте  
новую задачу. Удачи!**



У Саши в альбоме 8 открыток, а у Коли - на 5 открыток меньше. Сколько открыток лежит в альбоме у Коли ?



На полке лежало 10 журналов. Миша взял почитать 3 журнала. Сколько журналов осталось лежать на полке?




Мама купила в магазине 5 пирожков. Папа тоже купил пирожки, но на 3 штуки больше, чем мама. Сколько пирожков купил папа?



**Хоккейный матч закончился со счетом 5:4.  
Сколько всего шайб было заброшено в  
матче?**



Во дворе стояло 9 машин. Утром 5 машин уехали. Сколько машин осталось стоять во дворе?



В кружке занимаются 8 мальчиков и несколько девочек. Девочек на 2 человека больше, чем мальчиков. Сколько девочек занимается в кружке?






В кафе привезли 9 тортов, в первый день продали 7 тортов. Сколько тортов осталось в кафе для продажи на второй день?



За обедом папа съел 9 пирожков, а Оля съела на 3 пирожка меньше, чем папа.  
Сколько пирожков съела Оля?



На кухне стояли 9 стульев. 8 стульев унесли в чулан. Сколько стульев осталось на кухне?



5

1




Мише 9 лет, брат моложе Миши на 4 года?  
Сколько лет младшему брату?



5



# МОЛОДЦЫ!!!



[http://img1.liveinternet.ru/images/attach/c/8/101/679/101679403\\_0\\_88134\\_f920f176\\_L.png](http://img1.liveinternet.ru/images/attach/c/8/101/679/101679403_0_88134_f920f176_L.png) - пчелка с букетом  
[http://zvezdochka16.ds-rf.ru/wp-content/uploads/2014/10/0\\_76364\\_9388f4fe\\_L.png](http://zvezdochka16.ds-rf.ru/wp-content/uploads/2014/10/0_76364_9388f4fe_L.png) - пчёлка с ведром  
[http://pandia.ru/text/78/236/images/image001\\_210.jpg](http://pandia.ru/text/78/236/images/image001_210.jpg) - пчёлки под солнышком  
<http://agro-ukraine.com/imgs/board/34/476734-3.jpg> - баночка с медом  
<http://www.dom-radugi.com/wp-content/uploads/2013/01/backfones-5.jpg> - фон  
<http://kakpravilno.info/images/080544e51ef8c849.jpg> - управляющая кнопка  
<http://mathematics-tests.com/matematika-1-klass/olimpiady-diktanty-kartochki/kartochki-3-4-chetverty> - задачи 1 класс

Работа выполнена на основе видео урока Н.Н.Покровковой «Создание презентаций с применением технологического приёма «Соты»

