

# Математика

## Повторение пройденного



**3 класс**




# Устный счет

$$(8+4) \times 5 = \square$$

$$(20+16) : 4 = \square$$

$$(36+16) : 4 + 20 = \square$$





# УСТН

1. Рабочий день у строителей закончился в 5 часов дня. Обеденный перерыв был 4 часа назад. В котором часу был перерыв?

2. Сколько времени длятся сутки?

3. Когда сутки короче: зимой или летом?



Мама купила 3 ручки. Одна ручка стоит 5 рублей, Сколько денег мама заплатила за покупку?

**15рублей**

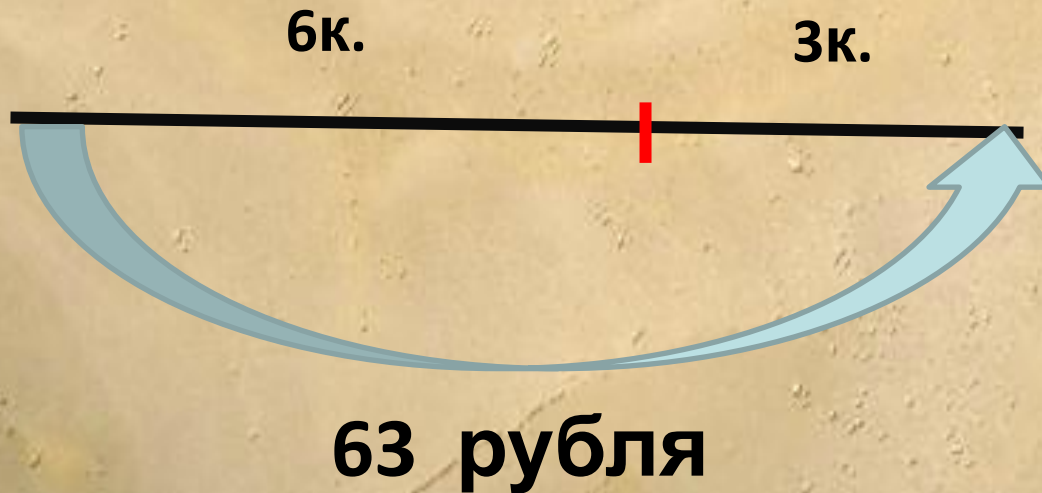
Таня купила 3 ручки по 5 рублей за каждую и 1 тетрадь за 2 рубля. Сколько стоит вся покупка?

**17рублей**

У Вани было 87 рублей. Он купил 3 ручки и 1 тетрадь. Цена одной ручки 5 рублей. Цена одной тетради 2 рубля. Сколько денег осталось у Вани?

**70рублей**

**Брат купил 6 конфет, а сестра -3 такие же конфеты. Сколько стоит одна конфета, если все конфеты стоят 63 рубля?**

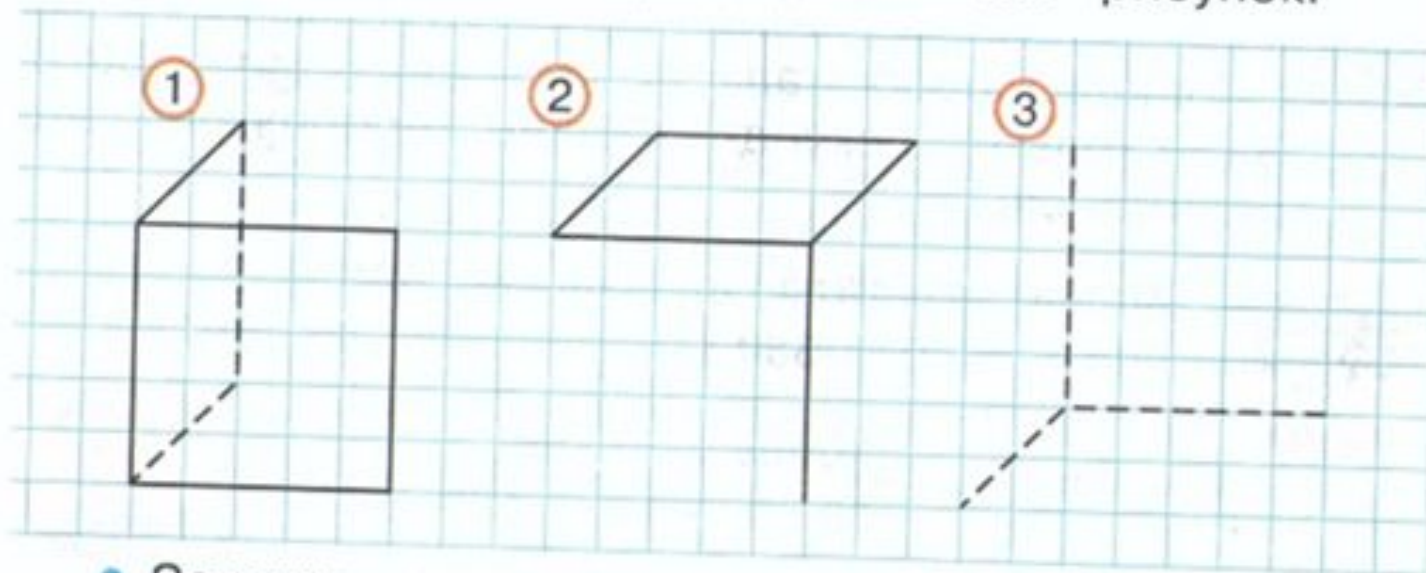


**Сколько денег заплатил брат  
Сколько денег заплатила сестра?**



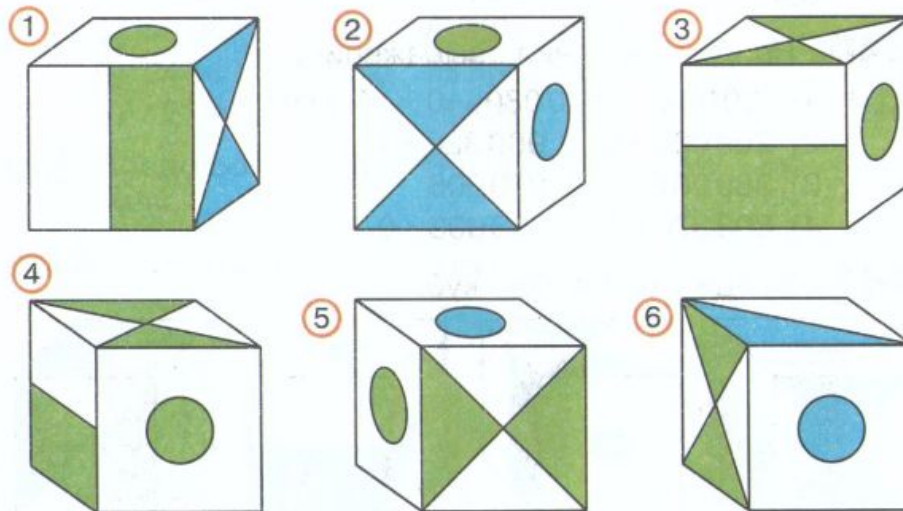

# Геометрический материал

**354.** Выполни в тетради такой же рисунок.



- Закончи рисунок так, чтобы получился куб.

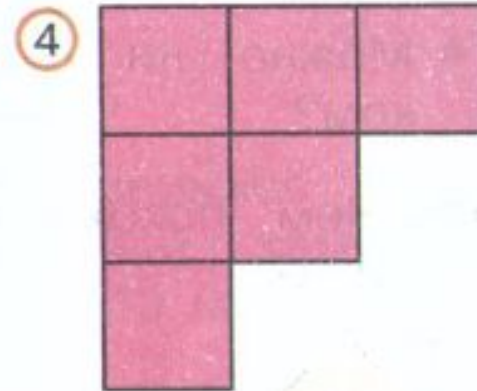
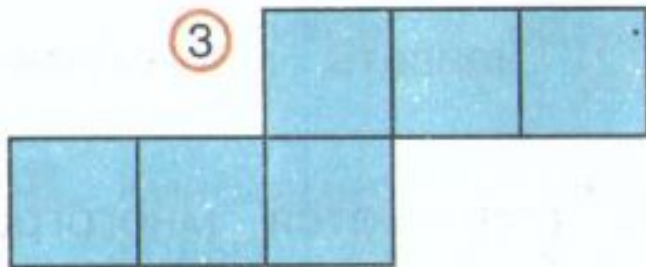
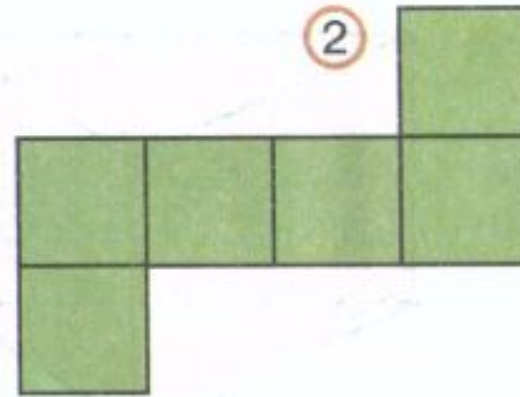
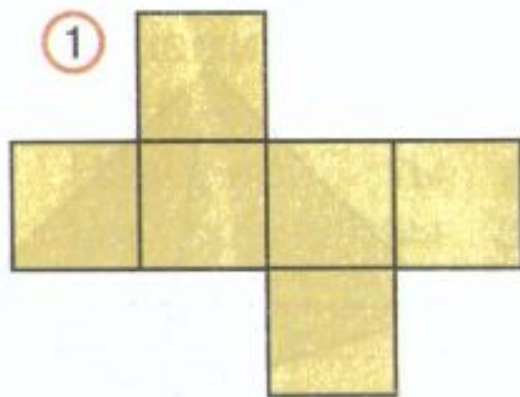
**342\***. Выбери куб, который нельзя сделать из данной развёртки.



• Проверь свой ответ.

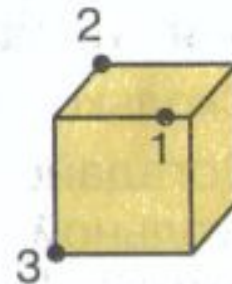
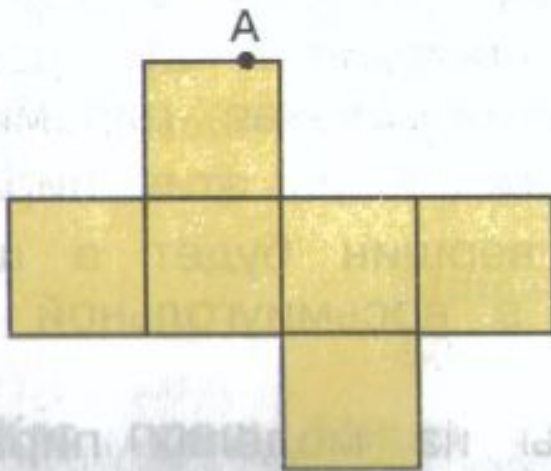


**343.** Какие из этих фигур могут быть развёрткой куба?



- Проверь свой ответ. Нарисуй на листе бумаги в клетку каждую развёртку и вырежи её. Сверни из неё куб, не делая никаких дополнительных разрезов.

**344.** На развёртке куба дана точка А. Найди эту точку на изображении куба.







Мне было легко...

Я пока затрудняюсь...

Я понял, мне необходимо поработать над темой...



<http://www.myshared.ru/slide/492585/>

<http://nsportal.ru/nachalnaya-shkola>

<http://mat-zadachi.ru/>

[http://15skola15.ucoz.ru/publ/kontrolnye\\_razbity\\_po\\_matematike\\_3\\_klass/1-1-0-11](http://15skola15.ucoz.ru/publ/kontrolnye_razbity_po_matematike_3_klass/1-1-0-11)

<http://yandex.ru/clck/jsredir?from=yandex.ru%3Byandsearch%3Bweb%3B%3B%2Fweb%2Fitem%2Ftitle%2Cpos%2Cp26%2Csource%2Cweb%2Cpre%2Csitelinks&t>