


Урок математики во 2 классе


**Тема: «Решение задач»
(умножение)**

Автор: учитель начальных
классов ГБОУ ЦО №1456
Аксенова Ольга Борисовна

ЗООПАРК







$$+ 8 =$$



$$50 -$$



$$= 37$$




$$- 29 =$$






+



= 37



·

5

=




47

-



= 12






$$4+4+4=12$$

$$3+3+3+3=12$$

ИЛИ

$$4 \cdot 3=12$$

$$3 \cdot 4=12$$



$$8 \cdot 3$$

$$8 + 8 + 8 = 8 \cdot 3$$

$$9 \cdot 4$$

$$9 \cdot 5 > 9 + 9 + 9 + 9$$

$$7 \cdot 8 = 8 \cdot 7$$

$$0$$

$$1$$

$$35 \cdot 0 < 35 \cdot 1$$

Ходит длинный, пасть с клыками, ноги кажутся столбами,
Как гора, огромен он. Ты узнал, кто это?...



Вот вам задача.

Каждому слону в зоопарке дают в день 2 ведра картофеля. Сколько ведер картофеля получат 3 слона?

Сделаем рисунок.



$$2 \cdot 3 = 6 \text{ (в.)}$$

Ответ: 6 вёдер картофеля.



Одна обезьяна съедает в день 9 бананов, другая - 11 бананов. Сколько бананов съедают эти обезьяны за 2 дня?



20 m



6 m

$$P = ? \quad P = a \cdot 2 + b \cdot 2 \quad P = (a + b) \cdot 2$$

