

Луч и его обозначение



на рисунке изображен луч.

Точка **A** – начало луча.

Буква **B** может обозначать любую точку на этом луче.


Конца у луча нет.

Направление луча

Сверху вниз

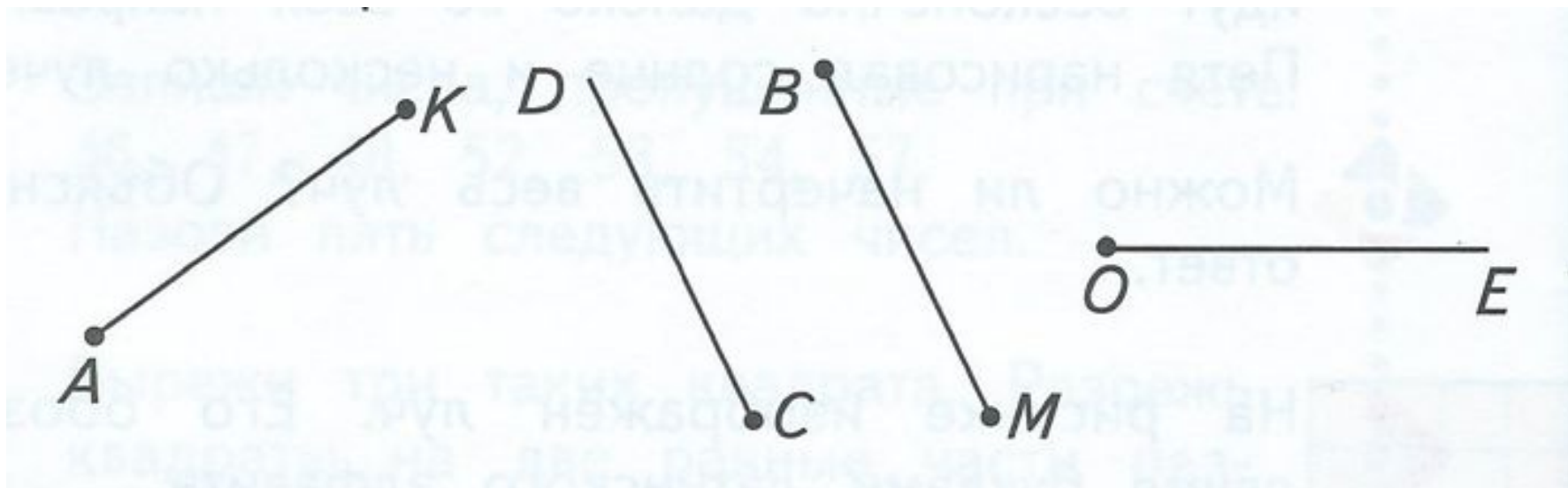
Справа налево

Слева направо



Луч и отрезок

□ Найди на рисунке лучи и назови их.



Сколько шагов по числовому лучу сделала ворона, ласточка?



-

-

-

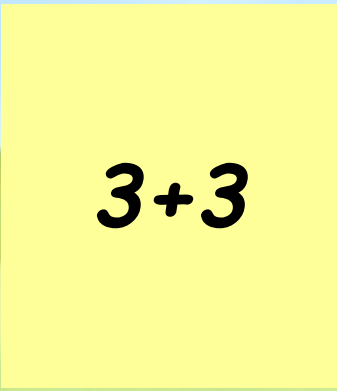


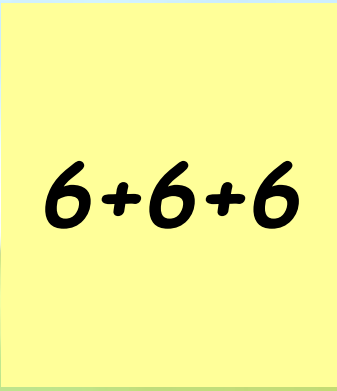
0 1 2 3 4 5 6

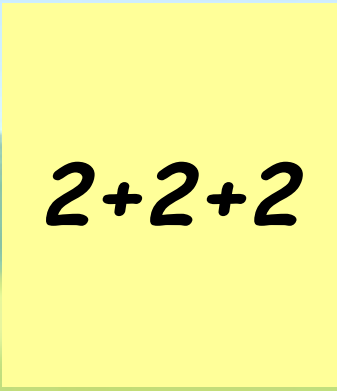
Сколько шагов нужно сделать сове, чтобы догнать ворону?

Сколько шагов нужно сделать вороне, чтобы догнать ласточку?

№1 **6 в виде суммы трех одинаковых слагаемых**


$$3+3$$


$$6+6+6$$


$$2+2+2$$

№2 Представьте 6 в виде суммы двух
одинаковых слагаемых

$$6 + 3$$

$$3+3$$

$$2+2+2$$

№3 Представьте 6 в виде суммы 6
одинаковых слагаемых

$$1 + 1 + 1 + 1 + 1 + 1$$

$$3 + 3$$

$$2 + 2 + 2$$

№4 10 в виде суммы двух одинаковых слагаемых

$$4+6$$

$$10+10$$

$$5+5$$

1 вариант

№1

$$2+2+2+2+2+2$$

$$4+4+4$$

$$6+6$$

№2

5

2 вариант

№1

$$3+3+3+3+3+3$$

$$5+5+5$$

$$9+9$$

№2

3



- До

СВИДАНІЯ