

«Считаем со Смешариками» Математика

3 класс



Начать тест

**Берестовская Наталья Александровна
учитель начальных классов МБОУ СОШ № 61**

Результат теста



Верно: 0

Ошибки: 0

Отметка: 0

Время: 0 мин. 25 сек.

[ещё](#)

Найди значение выражения

$$8 \cdot 9 - 12 : 4$$

75

68

69



**Выбери правильное
название фигуры:**



отрезок

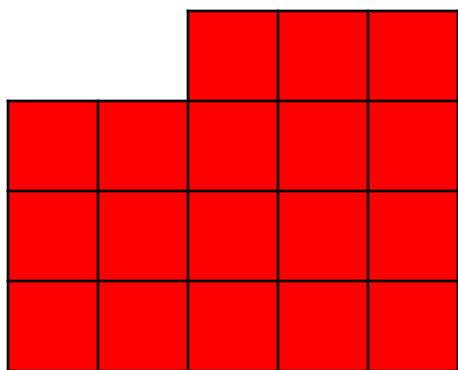
к

прямая


луч



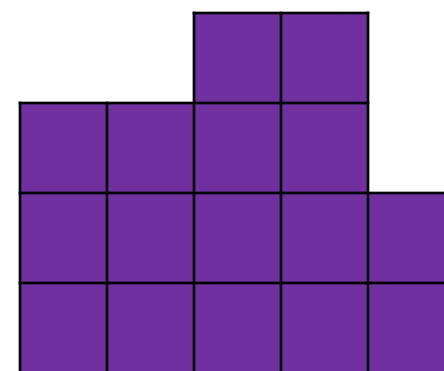
Какая фигура имеет большую площадь?



1

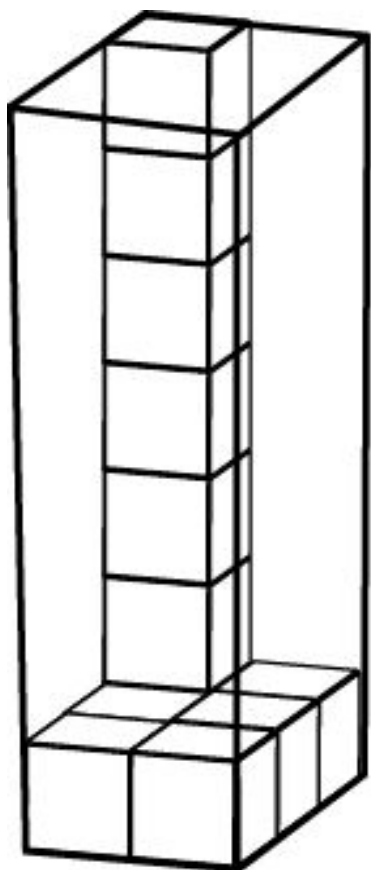


2



3

**Какое количество кубиков
МОЖНО ПОМЕСТИТЬ В ЭТУ
коробку?**



48

42

36



Найди значение выражения

$$72:8+4 \cdot 4=$$

24

25

26



Укажи самое большое
число.

689

986

869




Какое из следующих
выражений соответствует
условию:

К частному чисел 126 и 3
прибавить произведение
чисел 17 и 4.

$$126 \cdot 3 + 17 \cdot 4$$

$$126 : 3 + (17 - 4)$$


$$126 : 3 + 17 \cdot 4$$



На каком рисунке стрелки часов образуют тупой угол?



1



2



3

Сравни и выбери ответ:

1 ч 10 мин * *80 мин*

1 ч 10 мин > 80 мин

1 ч 10 мин = 80 мин

1 ч 10 мин < 80 мин



В магазине канцтоваров купили блокнот и альбом. Блокнот стоил 16 рублей, а альбом в 3 раза дороже. Сколько стоила вся покупка?

62 рубля

64 рубля

65
рублей



Даша записала сумму
разрядных слагаемых
некоторого числа так: 2000

$+600 + 7$

Какое это число?

2067

2670

2607



Найди значение выражения

$$(120 + 42) : 6 - 6$$

22

28

21



ИСТОЧНИКИ:

- <http://images.google.ru/> ;
- www.lenagold.ru;
- http://www.nachalka.com/test_shablon;
- Н.Г .Белицкая, А.О. Орг,
Школьные олимпиады,
М, Айрис-пресс, 2008 г.;
- М. И. Башмаков, М. Г.
Нефёдова учебник
«Математика», 3 класс,
АСТ-Астрель, Москва 2010
год.

Посмотри
отметку

