



4 класс  
УМК любой

# Считай устно

Счёт в пределах 1000

Часть 6



Составитель: Печенкина  
С.В.  
МКОУ «СОШ №44»  
г. Миасс  
2015г.





1

2

3

4

5

6

7

8

9

10

**Выбирай задание, а  
если хочешь,  
выполняй по  
порядку.**






**Число 640  
уменьши на  
частное чисел  
360 и 9.**

Вернись к  
полю с  
заданиями

Выполни  
далее




CLOSE

На сколько 560  
больше 20?

Вернись к  
полю с  
заданиями

Выполни  
дальше



CLOSE

В празднике  
приняли участие  
1080 человек. Их  
разделили в  
группы по 120  
человек. Сколько  
групп получилось?

Вернись к  
полю с  
заданиями

Выполни  
далее



CLOSE

Найди одну  
третью часть  
от числа 120.

Вернись к  
полю с  
заданиями

Выполни  
дальше






**Разложили 152 кг  
абрикосов в 8  
корзин поровну.  
Продали 5 корзин с  
абрикосами.  
Сколько  
килограммов  
абрикосов  
осталось?**

**Вернись к  
полю с  
заданиями**

**Выполни  
дальше**






**Какую долю  
километра  
составляют  
100м?**

**Вернись к  
полю с  
заданиями**

**Выполни  
дальше**






CLOSE

Во сколько  
раз 580  
больше 29?

Вернись к  
полю с  
заданиями

Выполни  
дальше




CLOSE

На сколько  
надо  
увеличить 370,  
чтобы  
получить 530?

Вернись к  
полю с  
заданиями

Выполни  
дальше




CLOSE

Какое число в  
140 раз  
меньше 700?

Вернись к  
полю с  
заданиями

Выполни  
дальше



CLOSE

Сложи 633 и  
пятую часть  
от 70.

Можешь  
проверить  
свои  
вычисления





1. 600
2. 540
3. 9
4. 40
5. 57
6. 10
7. 20
8. 160
9. 5
10. 647





# Интернет-источники:

[http://img-fotki.yandex.ru/get/5906/39663434.cb/0\\_6ea7a\\_eca9350\\_L.jpg](http://img-fotki.yandex.ru/get/5906/39663434.cb/0_6ea7a_eca9350_L.jpg) ЕНОТ

<http://us.cdn3.123rf.com/168nwm/sarahdesign/sarahdesign1506/sarahdesign150606011/41567141-.jpg> КНОПКА «ЗАКРЫТЬ»

[http://www.clipartfree.net/vector/large/blue\\_button\\_Vector\\_Clipart.png](http://www.clipartfree.net/vector/large/blue_button_Vector_Clipart.png) КНОПКА

Автор шаблона:

Фокина Лидия Петровна  
учитель начальных классов  
МКОУ «СОШ ст. Евсино»  
Искитимского района  
Новосибирской области

Сайт

<http://linda6035.ucoz.ru/>