



Склад числа 8

**Два кільця без кінця,
У середині – без цвяха.
Якщо я перевернусь,
То ніяк я
не змінюсь.**



Склад числа 8

2

6

3

5

1

7

4

4



Задачі

У Оксаночки в руці
Є чотири олівці,
А в її подружки Віри
Ось погляньте : теж чотири.
Полічіть – но всі оці
Кольорові олівці .

$$4 + 4 = 8$$



Господиня надоїла від корови вранці 3 літри молока, а ввечері 5 літрів. Скільки всього молока надоїла господиня ?

$$3 + 5 = 8$$




На дереві сиділо 8
горобців. 5 пташок
полетіло. Скільки пташок
залишилося на дереві?



$$8 - 5 = 3$$



На дроті сиділо 6
ластівок. До них приле-
тіло ще 2. Скільки
ластівок стало?

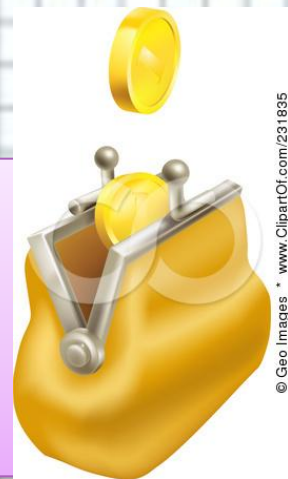


$$6 + 2 = 8$$



У Максима було 8
гривень. 2 гривні він
витратив на цукерки.
Скільки грошей у нього
залишилося?

$$8 - 2 = 6$$



© Geo Images * www.ClipartOf.com/231835



Приклади

$$7 + 1 = 8$$

$$8 - 1 = 7$$

$$6 + 2 = 8$$



$$8 - 2 = 6$$

$$5 + 3 = 8$$

$$8 - 3 = 5$$

$$4 + 4 = 8$$

$$8 - 4 = 4$$



$$3 + 5 = 8$$

$$8 - 5 = 3$$

$$2 + 6 = 8$$

$$8 - 6 = 2$$

$$1 + 7 = 8$$

$$8 - 7 = 1$$




Для створення презентації використані ресурси інтернету



http://i.allday.ru/uploads/posts/2009-08/thumbs/1250058141_12.jpg



http://www.ccboe.net/Teachers/Durham_Sharon/images/918F9422010B4BB0B160956D6B9D4E34.JPG



<http://www.utkonos.ru/images/it/027/008/006/1238197P.jpg>

<http://www.caringbahlearningcentre.com.au/assets/images/calc.JPG>

