

$4+15=19$



Сложение и вычитание чисел в пределах 20. Закрепление.

Презентацию выполнила Сурова Надежда
Викторовна учитель начальных классов



$5+9=16$



$2 \times 4 = 8$



$4+15=19$



Вот и прозвенел звонок.
Начинается урок.
Очень тихо вы садитесь
И работать не ленитесь.



Rain Cloud Stencil
www.spraypaintstencils.com




$5+9=16$



$4+15=19$



Приглашение.



«Дорогие ребята!
Приглашаю Вас на мой
день рождения,
который будет в



.»

ALLDAY.RU



$5+9=16$



$4+15=19$



5, ница



$5+9=16$



$4+15=19$



$5+9=16$



4+




| 9 | |
|---|---|
| | 1 |
| 7 | |
| | 3 |
| 5 | |



| 10 | |
|----|---|
| 9 | |
| | 2 |
| 7 | |
| | 4 |
| 5 | |

 [Увеличить](#)

 $4+15=19$


15 18 **20** 3 **14** 16

Увеличьте 3 на 10.

13

 $5+9=16$ 

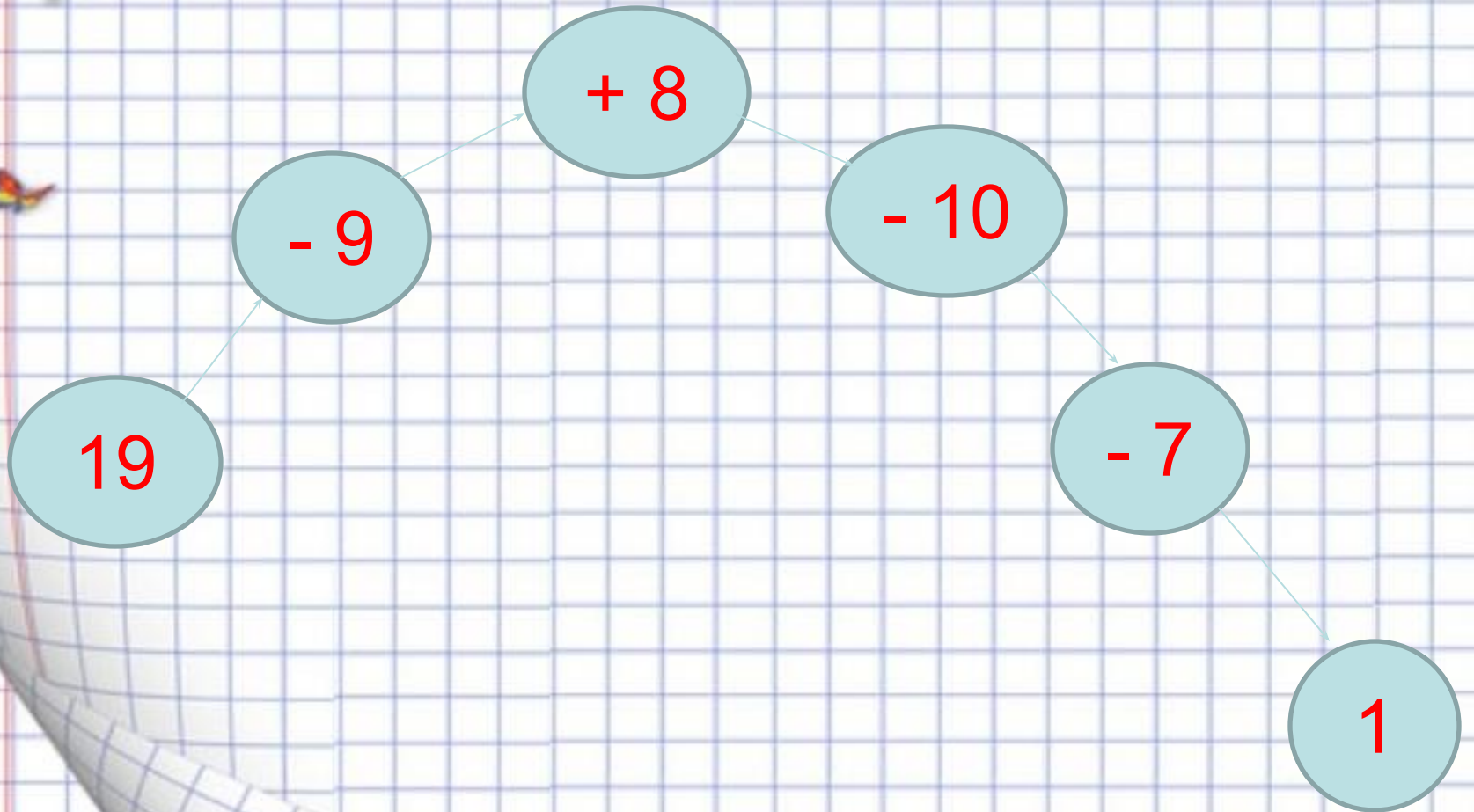
$4+15=19$



$5+9=16$



$4+15=19$



$5+9=16$



$4+15=19$



Зверям-7

Птицам-?,на 3 меньше

?



Мышь из М/ф. "Лесопольд"::Челны. Flash/Дизайн::
Открытки: www.design.chelni.ru/ecards.php

$5+9=16$



$4+15=19$


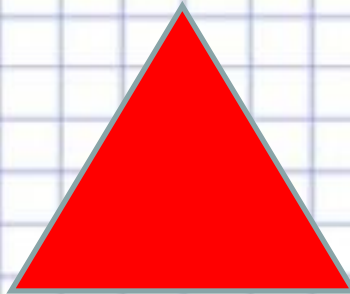
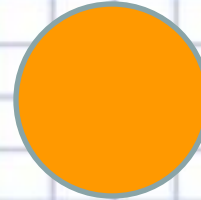


Сорока торопилась на день рождения к Леопольду и чихнула 4 раза, а во время поздравления ещё 2 раза. Сколько раз чихнула сорока?



$5+9=16$

$4+15=19$

Выбери фигуру





*Ребята, давайте
жить дружно!*

4+15=19



СПАСИБО!

