

Сложение и вычитание трёхзначных чисел

Орлова Галина Александровна
учитель начальных классов МОУ СОШ№1 г.
Данилова Ярославской области

2010 г





Домашнее задание
№ 269,274 (стр.62)



**Запиши число,
которое на 2 десятка больше**

225

600

308

471

708

780

Проверяем.

245

620

328

491

728

800

**Запиши числа
в порядке возрастания**

440

609

853

725

210

201

906

358

У мамы было 1000 рублей. За покупки надо заплатить 300 рублей. На сколько рублей меньше денег осталось?
Среднее арифметическое из чисел 1, 2, 3, 4, 5, 6, 7, 8, 9, 10, 11, 12, 13, 14, 15, 16, 17, 18, 19, 20, 21, 22, 23, 24, 25, 26, 27, 28, 29, 30, 31, 32, 33, 34, 35, 36, 37, 38, 39, 40, 41, 42, 43, 44, 45, 46, 47, 48, 49, 50, 51, 52, 53, 54, 55, 56, 57, 58, 59, 60, 61, 62, 63, 64, 65, 66, 67, 68, 69, 70, 71, 72, 73, 74, 75, 76, 77, 78, 79, 80, 81, 82, 83, 84, 85, 86, 87, 88, 89, 90, 91, 92, 93, 94, 95, 96, 97, 98, 99, 100.
Сколько часов занимает сон?
на 1 костюм?



СРАВНИ ЧИСЛА

$640 < 640$

$834 < 843$

$305 < 530$

$930 > 309$

$770 > 707$

$515 > 155$



Решаем задачу № 271



Задача № 271

1) $56:7=8$ (п.) - пеликанов

2) $12+8=20$ (п.) - фламинго и пеликанов

3) $56-20=36$ (п.)





2 способ.

1) $56:7=8$ (п.) - пеликанов

2) $56-8=48$ (п.) - фламинго и лебедей

3) $48-12=36$ (п.)

Ответ: 36 лебедей в зоопарке.



Тест

1. Найдите число, которое меньше 7 сотен на 1

а) 600

б) 699

в) 690

2. Найдите верное неравенство.

а) $815 < 851$

б) $581 < 518$

в) $185 < 158$

3. Сколько надо прибавить к числу 800, чтобы получилось 870?

а) 7

б) 70

в) 700

4. Если 700 увеличить на 250, то получится:

а) 750

б) 725

в) 950

5. Если уменьшить 300 на 125, то получится:

а) 325

б) 175

в) 275

Правильные ответы

1. б

2. а

3. б

4. в

5. б

Занимательная рамка

42	30	18
20	90	40
28	30	32



Решаем задачу № 273



Задача № 273

1) $82 - 4 = 78$ (км) - пройдёт 2 поезда

2) $82 + 78 = 160$ (км)

$82 + (82 - 4) = 160$ (км)

$(82 - 4) + 82 = 160$ (км)

Ответ: 160 километров расстояние между поездами



Запиши выражения столбиком и реши

1 вариант

$$395 + 143$$

$$726 + 159$$

$$324 - 163$$

$$672 - 237$$

2 вариант

$$567 + 323$$

$$276 + 692$$

$$812 - 409$$

$$875 - 539$$

333			478
		864	748
888			
111			487
674	999		784
555			374



Ссылки:

<http://www.proshkolu.ru/user/sergeywaz/> - рабочее поле

http://luchiki.ucoz.ru/load/ehlektronnye_fizminutki_dlja_glaz/15-1-0-77 - физкультминутка

<http://kizhi.karelia.ru/education/collections/risunki-lodok/130#lnk>
- рисунок парусника

<http://www.3vuki.ru/fo/download.php?file=736f75ce40b826909956164fd1c7931b> - шум моря