

**Случаи
вычитания 11-**

Урок № 109

УСТНЫЙ СЧЁТ



Запиши ответы в тетрадь.



A flower-shaped diagram with a central stem and two leaves. The stem is a vertical line with a small circle at the top. The flower has six petals arranged in two rows of three. The top row contains the numbers 1, 8, and 9. The middle row contains the number 5 on the left, a plus sign (+) in the center, a minus sign (-) on the right, and the number 12 on the far right. The bottom row contains the numbers 1, 7, and 6. There is a small number 1 written vertically to the left of the 5, and another small number 1 written vertically below the 1 in the bottom row.



В ящике **15** кг яблок, а в корзине на **10** кг меньше.
Сколько кг яблок в корзине?

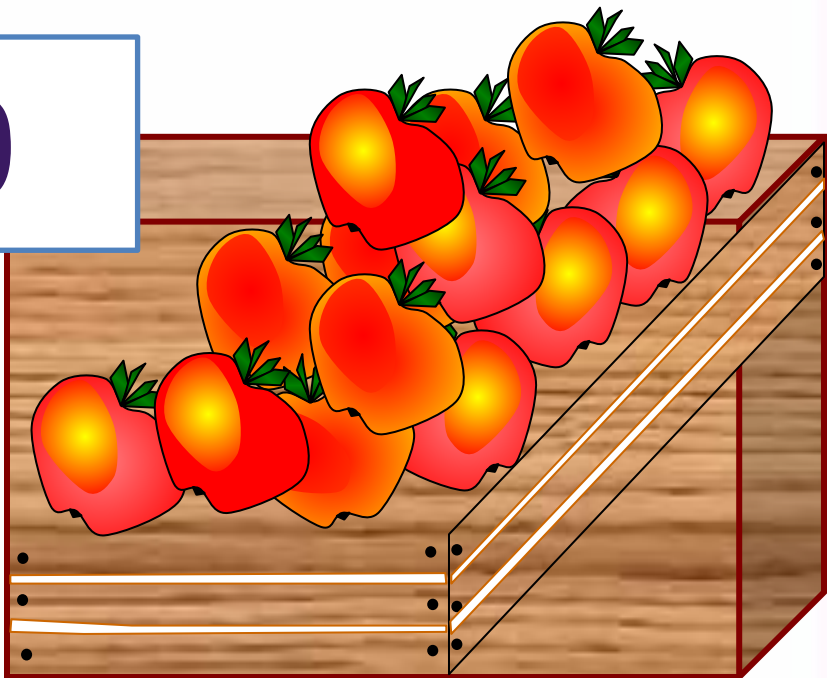

5

$$15 - 10 = 5$$


КГ Сколько всего кг яблок в ящике и корзине
вместе?



$$15 + 5 = 20$$



После того как Петя решил 6 примеров, ему осталось решить 9. Сколько примеров нужно решить Пете ?




15

$$9 + 6 = 15$$



3 девочки нарисовали двух кошек и зайца. Что рисовала Ася, если Катя с Асей и Лена с Асей рисовали разное?



**Ася -
зайца.**



РАБОТА ПО УЧЕБНИКУ




Стр. 82

Объясни, как из числа 11 вычесть 4.

▶

11	
2	
3	
4	
5	



$$\begin{array}{r} 11 - 4 \\ \hline 11 - 1 - 3 \end{array}$$

Вычисли и запомни.

$11 - 2$	$11 - 3$	$11 - 4$	$11 - 5$
$11 - 9$	$11 - 8$	$11 - 7$	$11 - 6$

НОВЫЙ МАТЕРИАЛ



Состав числа

11

9

8

7

6

11

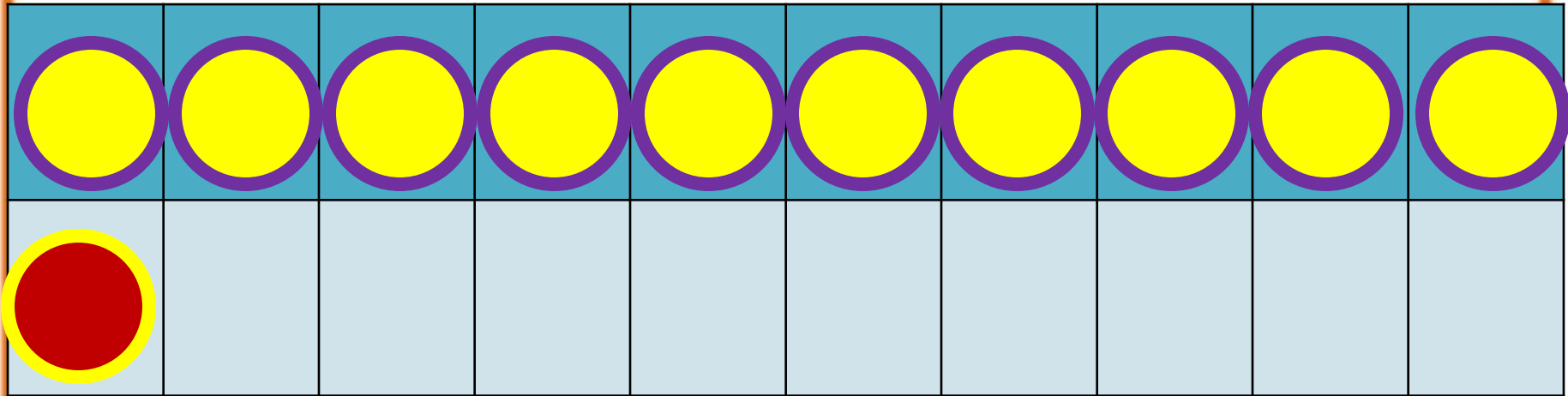
2

3

4

5

1



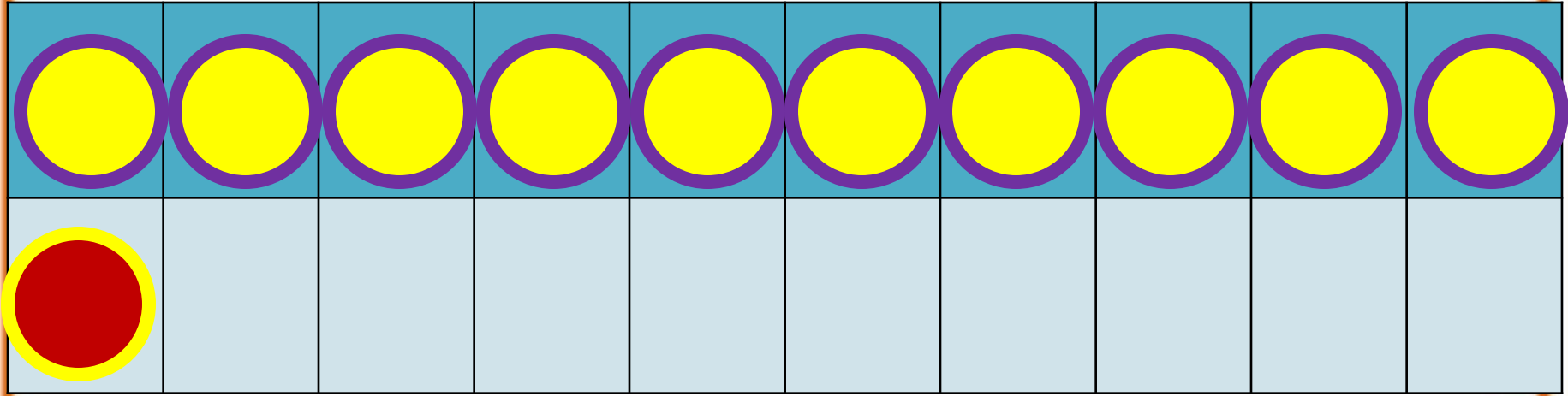
2



способ

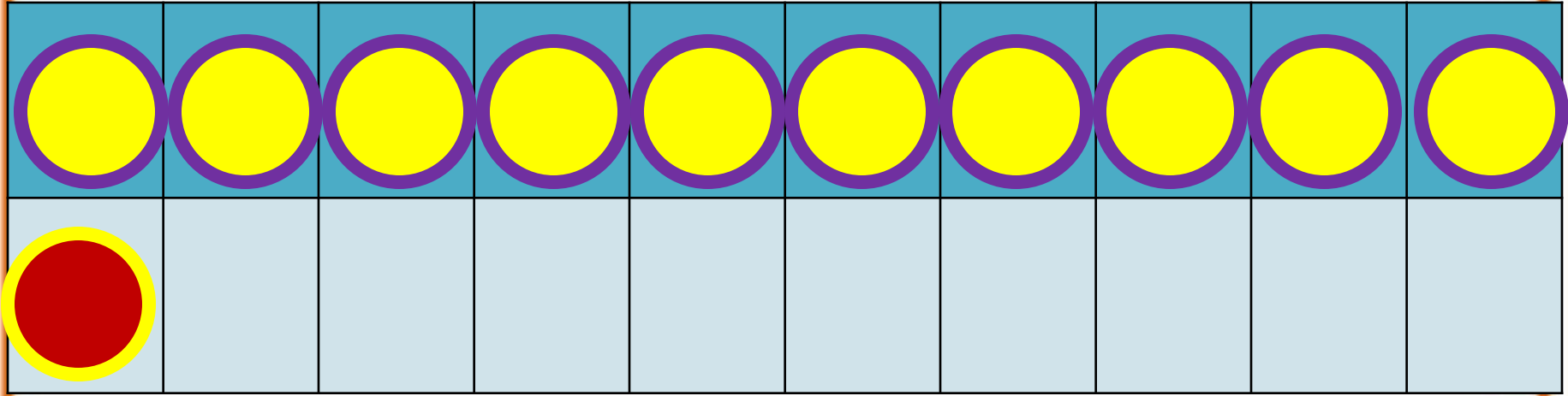
$$11 - 2$$

$$11 - 1 - 1$$



$$11 - 3$$


$$11 - 1 - 2$$



$$11 - 4$$

$$11 - 1 - 3$$

РАБОТА ПО УЧЕБНИКУ



Запомни!

$$11 - 2 = 9$$

$$11 - 3 = 8$$

$$11 - 4 = 7$$

$$11 - 5 = 6$$

$$11 - 6 = 5$$

$$11 - 7 = 4$$

$$11 - 8 = 3$$

$$11 - 9 = 2$$

1. Объясни разные способы решения.

$$11 - 5 = 6$$



$$11 - 5 = 6$$



2. $12 - 2 + 4$

$13 - 3 - 2$

$10 + 5 - 1$

$12 - 2 + 5$

$14 - 4 - 5$

$17 - 7 + 6$

$12 - 2 + 7$

$16 - 6 - 3$

$10 - 8 + 8$

3. Сделай рисунки к задачам и реши их.

1) Петя нарисовал 6 больших квадратов и 4 маленьких. Он раскрасил 7 квадратов. Сколько квадратов осталось нераскрашенными?

2) Саша принёс 6 морковок, а Оля — 4. Они отдали кроликам 8 морковок. Сколько морковок осталось?

4. Ребята посадили по 10 горошин. У Коли не дали ростки 3 горошины, а у Миши — 4. Сколько горошин дали ростки у каждого из этих мальчиков?


5. Из коробки взяли 6 кубиков. Сколько кубиков надо положить в коробку, чтобы в ней стало на 3 кубика больше, чем было сначала?

▶ $11 - 7 = \square$

$11 - 3 = \square$


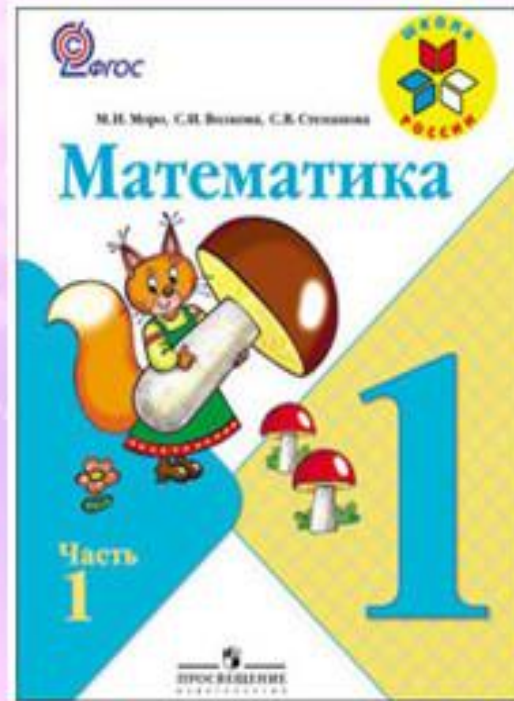
$11 - 6 = \square$

РАБОТА В ТЕТРАДИ



Стр. 42 (1,2)

ЗАДАНИЯ НА СМЕКАЛКУ



Стр. 42 (1и2)

Стоит в поле дуб. На дубе **три** ветки, на каждой ветке по **три** яблока. Сколько всего яблок?



**На дубе яблоки
не растут.**





Ты пилот самолета, летящего из Парижа в Москву с посадкой в Киеве. Время в полете - 2 часа. Сколько лет пилоту?



А сколько тебе?

Какого цвета стоп-кран в поезде и в самолете?



**В самолете нет
стоп-крана.**

КОНЕЦ

**Презентация из сборника (4диска) Елены Берюховой
«Школа России. 1 класс. Математика. Русский язык.
Обучение грамоте. Окружающий мир»
Сборник выйдет в июне месяце. На сайте
можно оставить предварительную заявку.**