

# СРАВНЕНИЕ ТРЕХЗНАЧНЫХ ЧИСЕЛ.

**2 класс**

---

Прозвенел звонок, Пора начать урок!



# ПУТЕШЕСТВИЕ В ЧИСЛОГРАД.

Пропуск в город.

Прочитайте числа!



627, 345, 8, 48, 4,

0, 305, 25, 241,

64, 25

# ПОМОГИТЕ ЭТИМ ЧИСЛАМ НАЙДИТЕ ИМ ДОМИКИ.

627, 345, 8, 48, 4, 0, 305,  
25, 241, 64, 25

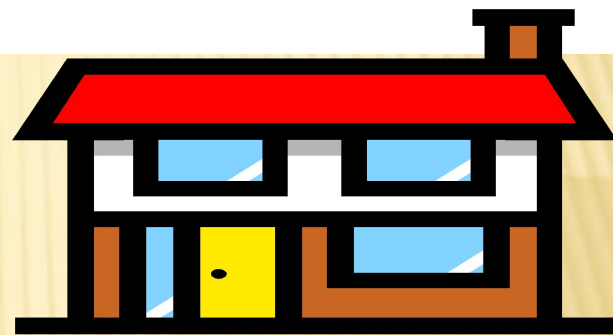


# ПРОВЕРИМ!


8

0

4



48



# **ВСПОМНИТЕ ,ПОЧЕМУ ДВУЗНАЧНЫЕ ЧИСЛА МЕНЬШЕ ТРЁХЗНАЧНЫХ?**

---

**Поможем Мише сравнить трёхзначные  
числа! (345,627,241,305)**

- 1.Посмотрим в каком числе больше  
всего сотен.**
- 2.Сравним десятки...**
- 3.Сравним единицы...**

**627 , 345, 305, 241**

# **УЧИМСЯ СРАВНИВАТЬ ТРЁХЗНАЧНЫЕ ЧИСЛА...**

---

**СТР.22 №1**

**№2**

**№3**



# ВСПОМНИМ О ЖИВОТНЫХ...

---

Как вы думаете , кто  
весит больше -  
взрослый  
крокодил или  
горилла?

**Вес гориллы- 250  
кг**

**Вес крокодила- 156  
кг**






6ц20кг\* 5ц90кг


5м30см\*5м30см

245к

7м31



# Р.Т. стр.9 №4 (1)



**ПОРАБОТАЕМ С ЗАДАЧЕЙ.**

# РАБОТАЙ САМ!!!!!!

---



стр.23 N<sup>o</sup>5 , Р.Т.стр.10 N<sup>o</sup>3



стр.23N<sup>o</sup>4 , Р.Т.стр.10 N<sup>o</sup>3

# ***ДОМАШНЕЕ ЗАДАНИЕ.***

**Р.Т. стр.10 №1, 2, 5**

