

Таблицы сложения и вычитания с числом 2



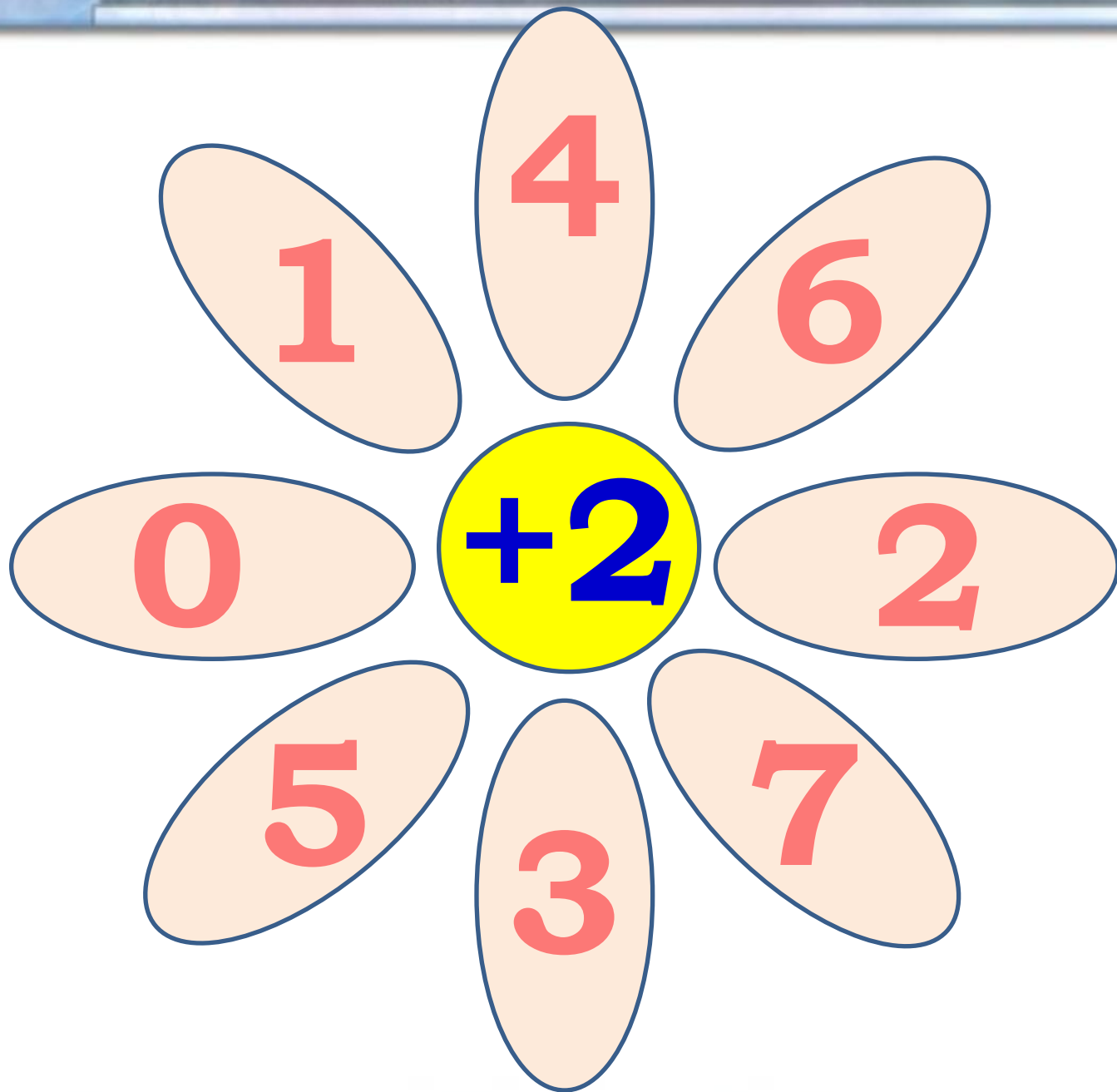


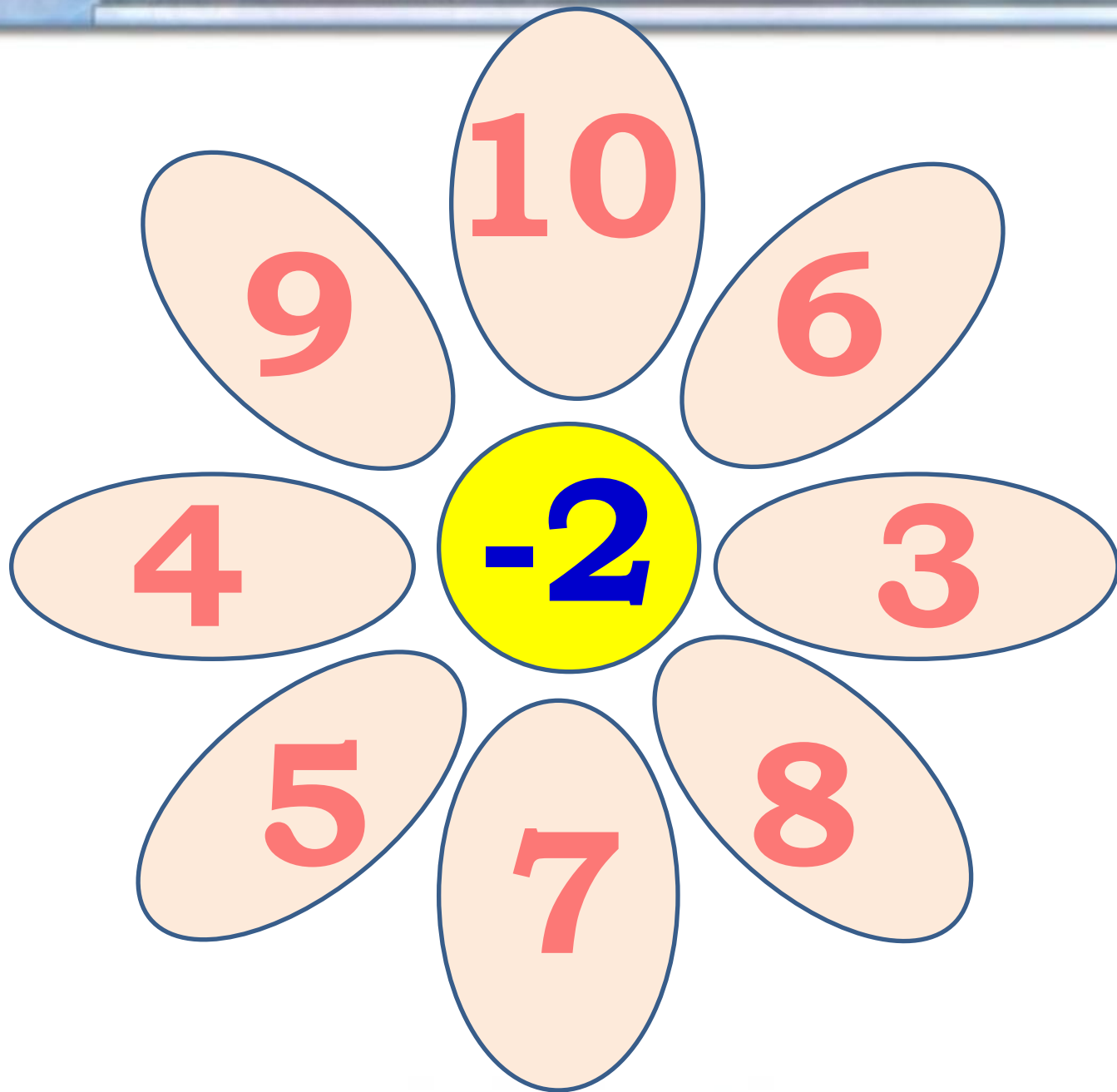
8	1
4	5
1	8
6	3
7	2



9	1
5	5
3	7
9	1
2	8
6	4







Решение примеров Табло 1



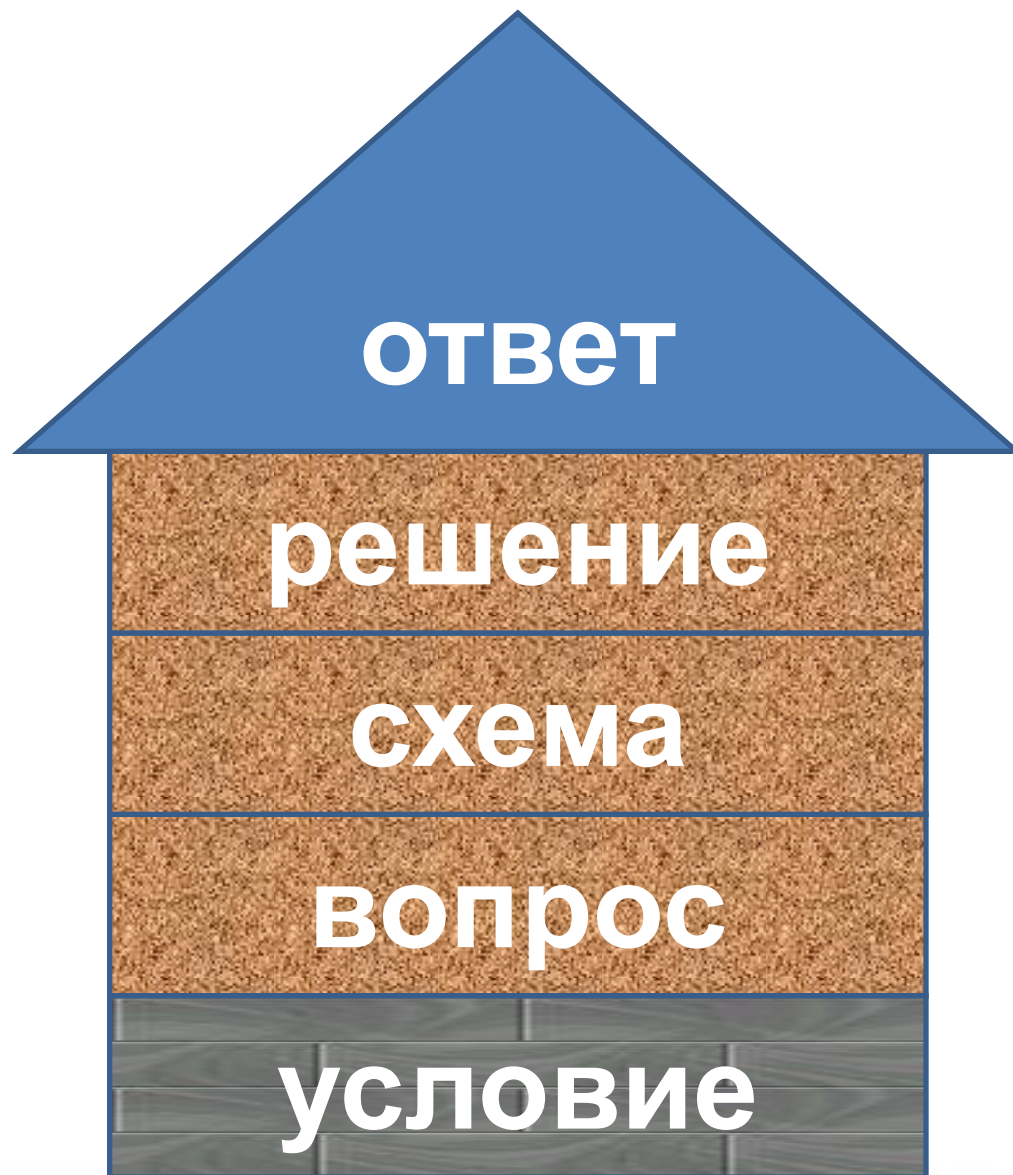
Реши числовые цепочки

$$5 - 2 + 1 + 2 = 6$$


$$7 - 1 + 0 - 6 = 0$$

$$2 + 3 - 1 - 2 = 2$$

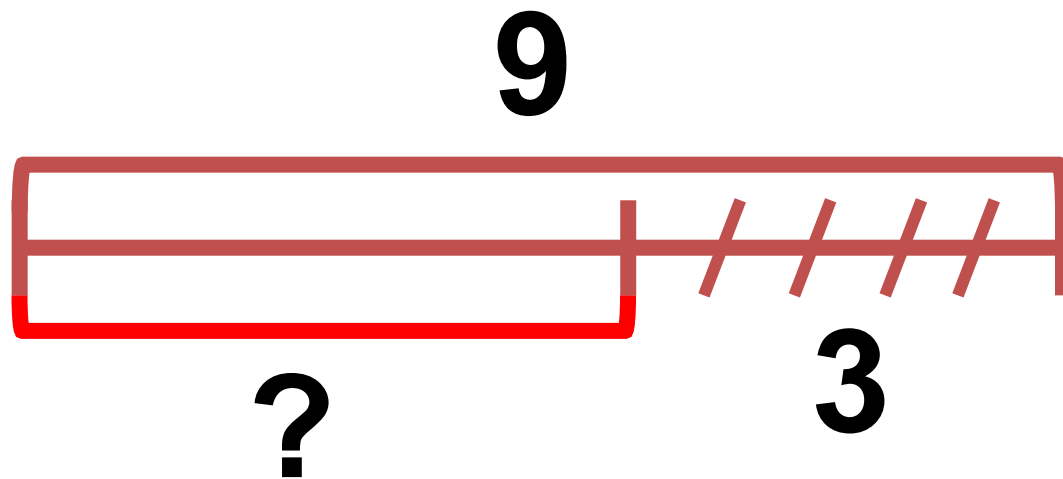
Составные части задачи



Составь по схеме задачу

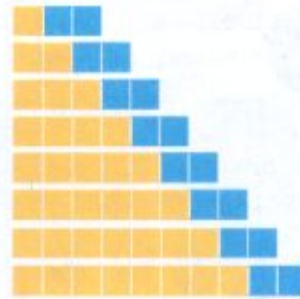


Составь по схеме задачу

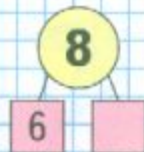


Объясни, как составлена каждая таблица.
Спиши и вычисли. Запомни таблицы.

$$\begin{array}{l} 1 + 2 \\ 2 + 2 \\ 3 + 2 \\ 4 + 2 \\ 5 + 2 \\ 6 + 2 \\ 7 + 2 \\ 8 + 2 \end{array}$$



$$\begin{array}{l} 3 - 2 \\ 4 - 2 \\ 5 - 2 \\ 6 - 2 \\ 7 - 2 \\ 8 - 2 \\ 9 - 2 \\ 10 - 2 \end{array}$$



1. Прочитай условие, вопрос задачи и реши её.

У Кати



У Вити столько же зелёных шариков.
Сколько шариков у Кати и у Вити вместе?



2. (Устно.)

$$7 + \square = 9$$

$$\square + 1 = 10$$

$$9 - \square = 7$$

$$\square - 1 = 6$$

$$\square - 2 = 8$$

$$7 - \square = 5$$

$$5 - \square = 0$$

$$\square + 8 = 8$$

3. (Устно.)

- 1) Прибавляй по 2, начиная с числа 3.
- 2) Вычитай по 2, начиная с числа 9.

Работа в тетрадочке

Спиши и вычисли. Запомни таблицы.

$1 + 2$

$2 + 2$

$3 + 2$

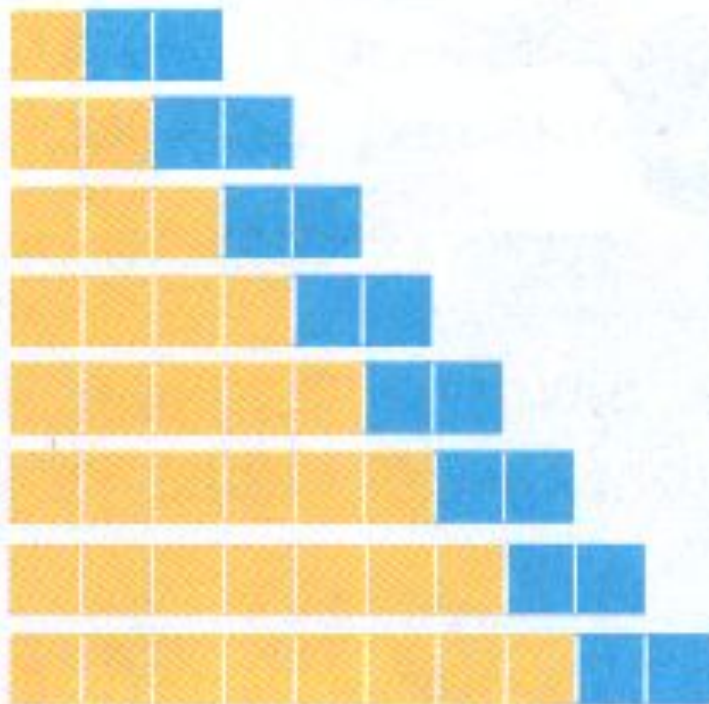
$4 + 2$

$5 + 2$

$6 + 2$

$7 + 2$

$8 + 2$



$3 - 2$

$4 - 2$

$5 - 2$

$6 - 2$

$7 - 2$

$8 - 2$

$9 - 2$

$10 - 2$

0

1

2

3

4

5

6

7

8

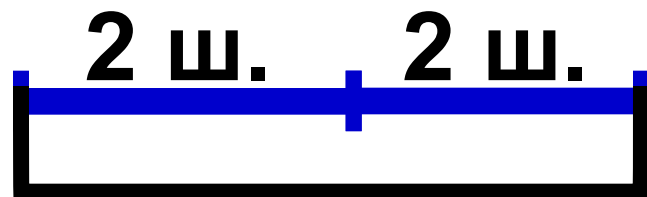
9

10

**Мы ногами топ-топ,
Мы руками хлоп-хлоп,
А потом прыг-скок
А потом вприсядку,
И опять вприсядку,
Побежим мы по дорожке
Раз, два, три!
И похлопаем в ладошки
Раз, два, три!
И покрутим головами
Раз, два, три!
Все танцуйте вместе с нами
Раз, два, три!**



У Кати 2 красных шарика. У Вити столько же зелёных шариков. Сколько шариков у Кати и у Вити вместе?

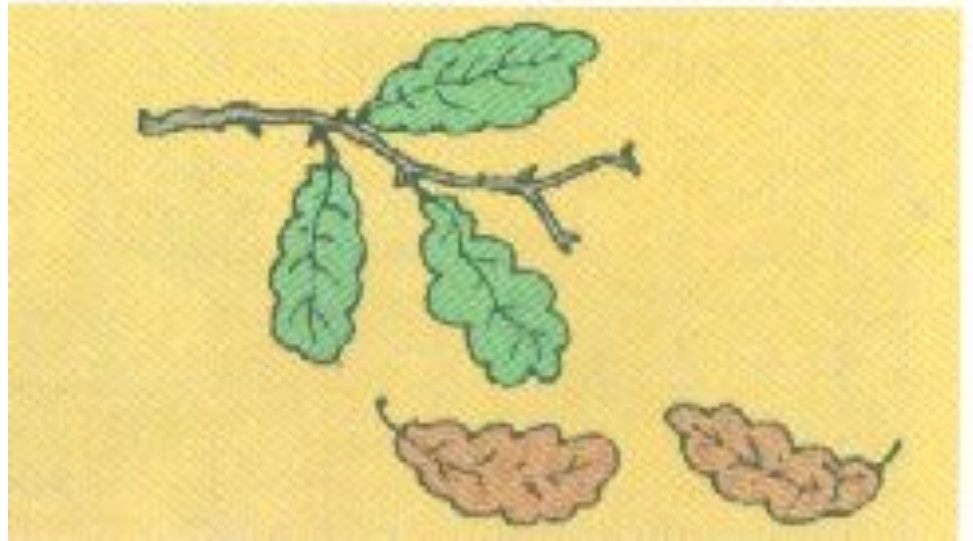


? ш.


$$2 + 2 = 4 \text{ (ш.)}$$

Ответ: всего 4 шарика.





5 л.



? л.

$$5 - 2 = 3 \text{ (л.)}$$

Ответ: осталось 3 листочка.

Самостоятельная работа

$$7 + \square = 9$$

$$\square + 1 = 10$$

$$9 - \square = 7$$

$$\square - 1 = 6$$


$$\square - 2 = 8$$

$$7 - \square = 5$$


$$5 - \square = 0$$

$$\square + 8 = 8$$






- Я умею сам



**- Я умею, но не
уверен**




- Нужна помощь



Домашнее задание




● Было



Стало на 2 больше.
Сколько ... ?

Ответ:

● Было



Стало на 2 меньше.
Сколько ... ?









Ответ:

● 5

1 + 2	3 + 2	2 + 2	2 + 3
1 + 4	5 - 1	6 - 1	3 + 1
6 - 2	7 - 2	<input type="text"/>	<input type="text"/>

● 4

● Заполни таблицы.

1 + 2 =	
2 + 2 =	
3 + 2 =	
4 + 2 =	
+ =	
+ =	
+ =	
+ =	

3 - 2 =
4 - 2 =
5 - 2 =
6 - 2 =
- =
- =
- =
- =