




математика · 4 класс · УМК «Гармония»



Тест

«Алгоритм письменного умножения многозначного числа на однозначное»

Автор презентации

Коровина Ирина Николаевна

учитель начальных классов

МБОУ «СОШ №9»

г.Сафоново Смоленской области



№

1


Выбери цифру, пропущенную в
записи:

$$\begin{array}{r} 68\ 013 \\ 5 \\ \hline 3\ \square\ 0\ 065 \end{array}$$

1 0

2 1

3 4



5

№

2

Во сколько раз увеличили число 13 200,
если получили 396 000?

1 в 3 раза

2 в 30
раз

3 в 300 раз



№

3


Выбери знак, пропущенный в записи:

$$50\ 311 \cdot 9 \dots 50\ 311 \cdot 10 - 50\ 311 \cdot 2$$

1 >

2 <

3 =



5

№


4

Верно ли утверждение, что значения
произведений

$3\ 045 \cdot 4$ и $4\ 060 \cdot 3$ одинаковы?

1 да

2 нет



5

№

5

Задумали два числа: одно - 24 000, а другое – в 3 раза больше. На сколько больше второе число, чем первое?

1 на 72 000 **2** на 48 000 **3** на 24 000




№

6

Сколько знаков будет содержать значение произведения $2873 \cdot 6$?

- 1** 4 знака **2** 5 знаков **3** 6 знаков



5

№


7

На сколько меньше значение произведения $83 \cdot 4$, чем значение произведения $183 \cdot 4$?

1 на 100

2 на 300

3 на 400



5

№

8

Правильно ли выполнено умножение:

$$9\ 308 \cdot 7 = 65\ 106?$$

1 да

2 нет



5

№


9

Во сколько раз число 7 081 меньше, чем значение выражения $7\,081 \cdot (4 + 7)$?

1 в 4
раза

2 в 7 раз

3 в 11 раз




5

№1



0 Наименьшее пятизначное число
увеличили
в 3 раза. На сколько полученное число
больше данного?

1 на 2 000 **2** на 20 000 **3** на 200 000



5



Интернет-ресурсы:

Автор шаблона Фокина Лидия Петровна Сайт <http://linda6035.ucoz.ru/>

Линейка <http://s1.pic4you.ru/allimage/y2012/08-20/12216/2356194.png>

Циркуль с линейкой http://img-fotki.yandex.ru/get/6423/108950446.113/0_cd1e7_4caa1851_S

Цифра 5 http://img-fotki.yandex.ru/get/9511/134091466.ce/0_cb245_e401dbc8_S

Для презентации:

- Бабочка <http://www.assol74.ru/pics/catalog/240thumbnail.jpg>
- http://www.colors-sky.ru/image/_f/_fth/39s_05.jpg
- http://www.oboiakri.com.ua/files/products/12-174_1.200x200.jpg?d3e2ad9784b37fa37bd9a0b27f1631f3
- <http://babochkionlain.ucoz.ru/Prais/320X240/atakus.png>
- http://ua.artfile.ru/s/360567_200210_16_ArtFile_ru.jpg
- <http://csg24.ru/imag/2%2813%29.jpg>
- https://cdn2.f-cdn.com/ppic/15735068/logo/16699616/QoBTs/profile_logo_.png
- <http://pinbook.me/wp-content/uploads/2015/12/butterflypng-144934818514pc8-700x643.png>
- <http://cs3.livemaster.ru/zhurnalfoto/3/4/c/140924153605.jpeg>
- <http://cs616020.vk.me/v616020927/353f/HloipqE2fDk.jpg>
- <http://mors.sibnet.ru/upload/imgevents/1318666950.jpg>

Задания – Н.Б.Истомина, О.П.Горина Математика /Тестовые задания/ 4 класс Изд. Смоленск: «Ассоциация XXI век»

2015г. Тест№7

