





Математика · 3 класс · УМК «Гармония»




Тест
«Единицы времени»



Автор презентации
Коровина Ирина Николаевна
учитель начальных классов
МБОУ «СОШ №9»
г.Сафоново Смоленской области

№1

Выбери единицу
времени.



№2

Выбери единицы времени, которые
расположены в порядке
возрастания.



час, минута,
секунда

секунда, минута,
час

минута, час,
секунда



№3

Сколько часов в 540
минутах?



№4

Сколько секунд в
8 минутах?

80
секунд

4800 секунд

480 секунд



№5

На сколько 15 минут больше
15 секунд?

на 135 секунд

на 1485 секунд

на 885 секунд



№6

По какому правилу составлен ряд величин:
20ч 40мин, 21ч 30мин, 22ч 20мин, 23ч 10мин,
...?

Выбери величину, которой нужно продолжить
этот ряд.



№7




Во сколько раз меньше 4 секунды, чем 2 минуты?



№8

Выбери знак, пропущенный в
записи:




7ч 16мин ... 6ч 75мин



№9

Выбери знак, пропущенный в
записи:

7ч 10мин – 2ч 20мин ... 5ч



№10

Часы показывают 6ч 10мин. Какое время они показывали полчаса назад?





ИСТОЧНИКИ:

- http://www.liveinternet.ru/users/semenova_irina/post234243714/

Для презентации:

- Ромашка
<http://img12.proshkolu.ru/content/media/pic/std/5000000/4259000/4258828-6a0de88898b7db4c.gif>
- Бабочка
<http://boombob.ru/img/picture/Oct/11/106506fea8b32955d75e45bd5f3fbaec/9.jpg>
- http://img1.liveinternet.ru/images/attach/c/11/117/283/117283103_4204706_103349953_5158259_butterfly1_1_.gif
- Травка <http://www.playcast.ru/uploads/2014/09/25/9967435.png>
- Тест №54 – Н.Б.Истомина, О.П.Горина Математика «Тестовые задания» 3 класс. Изд.: Смоленск, Ассоциация XXI век, 2015г.