



Математика

2 класс

УМК «Гармония»

Тест №2

Проверь себя!

Чему ты научился в первом классе?

Автор презентации

Червонова Т.М.

учитель начальных классов

МБОУ «Екатеринославская СОШ»

Оренбургская область,

Тюльганский район

Задание №1

Выбери сумму, значение которой равно 8

$$8 - 0$$

1

$$5 + 3$$

2

$$7 + 2$$

3



Задание №2

Выбери пару выражений, которые
имеют одинаковые значения

$8 - 2$ и $8 - 3$

1

$5 + 3$ и $4 + 5$

2

$6 + 3$ и $3 + 6$

3



Задание №3

Какое число пропущено в записи:

$$8 - \dots = 2$$

4

6




5



Задание №4

Какие знаки арифметических действий
пропущены в записи



$$7 + 2 \dots 1 = 6 \dots 2 ?$$



Задание №5

Какой знак пропущен в записи

$$7 + 2 \dots 8 - 0 ?$$



Задание №6

На сколько нужно уменьшить число 2,
чтобы получить 7?

на 5

на 4

на 6



Задание №7

Увеличь число 4 на 3
Какое число получится?

8

7

9



8



Задание №8

Выбери разность, значение которой
равно 0

$$5 + 0$$

$$5 - 0$$

$$5 - 5$$



Задание №9

**Уменьши число 8 на 4
Какое число получится?**

4

5

3



Задание №10

**На сколько нужно уменьшить число 6,
чтобы получить 2?**

на 3

на 5

на 4



Проверка



| | | | | | | | | | |
|---|---|---|------|---|-----|---|-----|---|------|
| 1 | 2 | 3 | 4 | 5 | 6 | 7 | 8 | 9 | 10 |
| 2 | 3 | 6 | -, + | > | на5 | 7 | 5-5 | 4 | на 4 |



Л

О

Д

О

Ц

М

Ы



Интернет-ресурсы:

Автор шаблона Фокина Лидия Петровна, учитель начальных классов

МКОУ «СОШ ст. Евсино» Искитимского района
Новосибирской области

◆ Сайт <http://linda6035.ucoz.ru/>

http://www.radionetplus.ru/uploads/posts/2014-10/1414359277_11-www.radionetplus.ru.png - кошечка

<http://www.playcast.ru/uploads/2016/02/02/17119638.gif> - букет
ЦВЕТОВ

Задания

Н.Б.Истомина, О.П.Горина. Тестовые задания по математике.
2 класс. Смоленск, изд. «Ассоциация XXI век» 2012г.