

ТЕСТ

«Площадь и периметр прямоугольника»

Автор презентации

Коровина Ирина Николаевна

учитель начальных классов

МБОУ «СОШ №9»

г.Сафоново Смоленской области



№

1

**Во сколько
раз надо
увеличить
2 см², чтобы
получить
2 дм²?**

в 10 раз

в 100 раз

в 4 раза

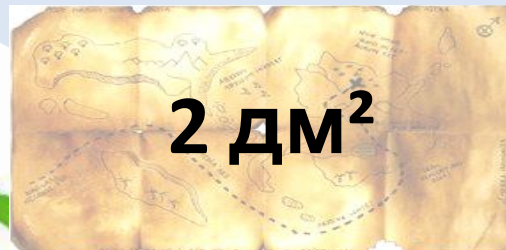




№

2

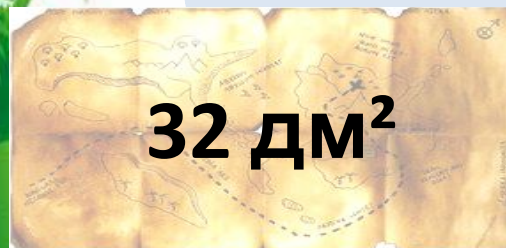
Чему равна
площадь
прямоугольника
, если его длина
8 см, а ширина
в 4 раза
меньше?



2 дм²



16 дм²



32 дм²






№

3

Чему равна
площадь
квадрата,
периметр
которого 20
см?



5 см²



80 см²



25 см²

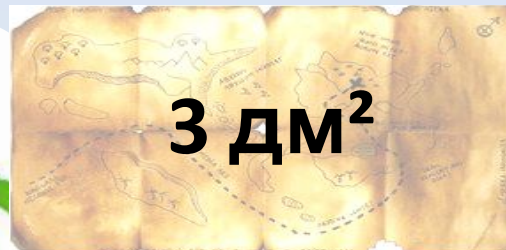




№

4

Величину 9 м^2
уменьшили
в 3 раза. Какую
величину
получили?



3 дм²



30 дм²



300 дм²





№

5

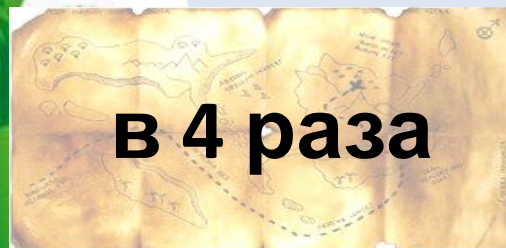
**Во сколько
раз 4 см^2
меньше,
чем 4 дм^2 ?**



в 100 раз



в 10 раз



в 4 раза

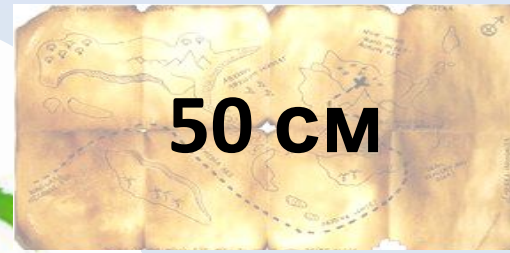




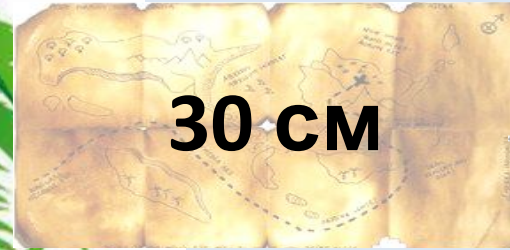
№

6

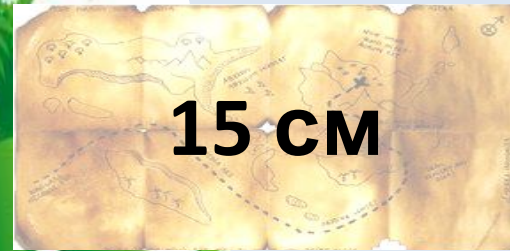
Чему равен
периметр
прямоугольника
со сторонами
10 см и 5 см?



50 см



30 см



15 см





№

7

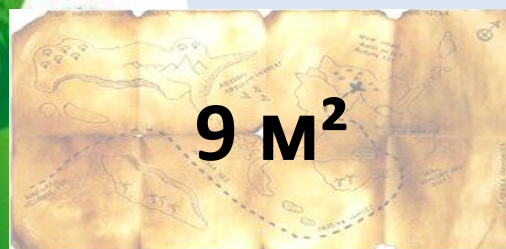
Выбери
величину,
которую можно
получить,
измерив
площадь
комнаты.



24 дм²



20 см²



9 м²





№


8



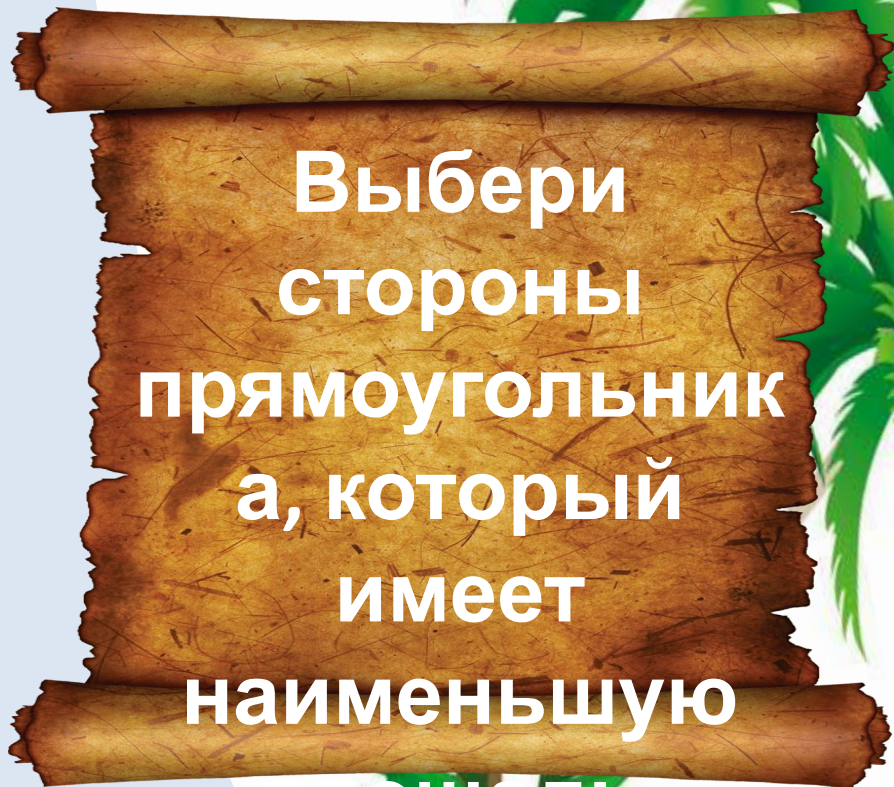
3 дм и 7
см



10 см и 20
см



4 дм и 3 дм



Выбери
стороны
прямоугольник
а, который
имеет
наименьшую
площадь

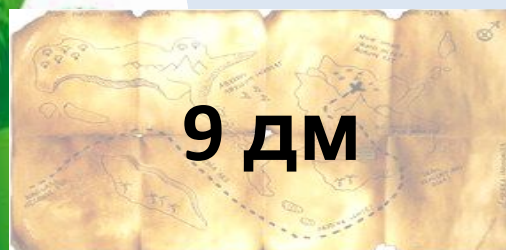
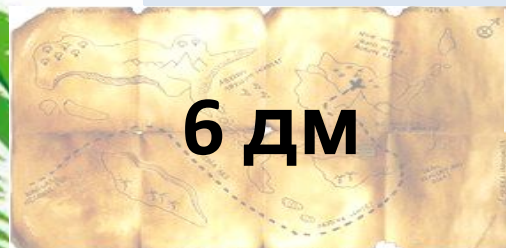
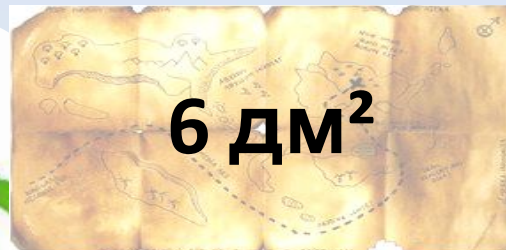




№

9

Чему равна
сторона
квадрата,
если его
площадь
36 дм²?

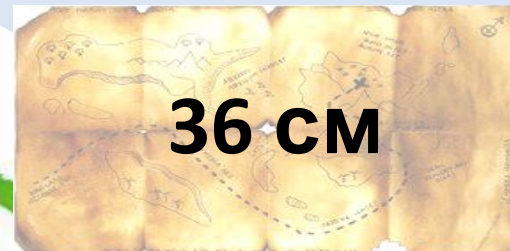




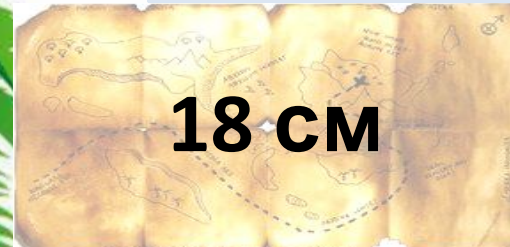
№1

0

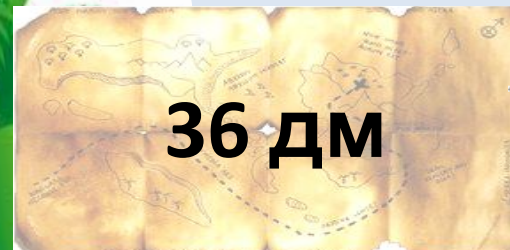
Чему равен
периметр
квадрата,
площадь
которого 81
дм²?



36 см



18 см



36 дм



Интернет-ресурсы:

Автор шаблона Фокина Лидия Петровна

Сайт <http://linda6035.ucoz.ru/>

Фон <http://nachalo4ka.ru/wp-content/uploads/2014/06/more-peyzazh-fon-6-600x510.jpg>

Рамка <http://nachalo4ka.ru/wp-content/uploads/2014/06/Morskaya-zagotovka-dlya-fona-600x450.png>

Корабль <http://nachalo4ka.ru/wp-content/uploads/2014/06/Piratskiy-korabl-600x463.png>

Для презентации:

Сундук http://img-fotki.yandex.ru/get/9220/185484089.8/0_c3ee5_129082c_S

http://oksanamalneva.ru/dengi/krasny_sunduk.gif

Свиток <http://vymah.oiru.org/images/550067b99157e.jpg>

Пиастры <http://wabber.ru/gallery/photoview.php?H=120&W=160&id=47714>

Карта <http://i021.radikal.ru/0803/c5/8a1b1d5674c1t.jpg>

Пальма http://i.allday.ru/uploads/posts/2010-07/1279442481_palma-08.jpg

Тест №32 – Н.Б.Истомина, О.П.Горина Математика «Тестовые задания» 3 класс. Изд.: Смоленск, Ассоциация XXI век, 2015г.

