

Математика · 3 класс · УМК «Гармония»

ТЕСТ

« Порядок выполнения действий в выражениях »

Автор презентации
Коровина Ирина Николаевна
учитель начальных классов
МБОУ «СОШ №9»
г.Сафоново Смоленской области

№1

Какое арифметическое действие
надо выполнить первым, чтобы найти
значение выражения $3 + 16 : 8 \cdot 9$?




сложение



деление



умножение



Найди значение выражения

$$6 \cdot 5 - 4 \cdot 2$$




52



12



22



№3

Выбери число, пропущенное в записи:

$$24 : \dots + 5 \cdot 9 = 49$$



8



6



4



Какой знак арифметического действия пропущен в записи:

$$20 \dots 4 + 12 = 92?$$




ПЛЮС +



МИНУС -



УМНОЖИТЬ •




№5

Выбери выражение, значение
которого равно **2**?



$$30 : 5 \cdot 2 - 1 \quad 30 : (5 \cdot 2) - 1 \quad 30 : 5 \cdot (2 - 1)$$

1




Выбери выражение, в котором действия выполняются в том же порядке, как они записаны.



$$(36 - 18) : (72 : 35 : 5 + 6 \cdot 2 \quad 68 + 2 = 50 + 43$$

8)



Выбери пару выражений с
одинаковыми значениями.



$$12 \cdot 4 + 3 \cdot 1$$

и

$$3 \cdot 1 + 12 \cdot 5$$



$$7 + 12 \cdot 0 - 4$$

и

$$34 \cdot 0 + 8 - 5$$



$$24 : 4 - 5$$
 и

$$24 : 6 + 5$$



Выбери выражение с наименьшим значением.




$$(32 - 4) : 4 \cdot 7$$



$$(32 - 4) : 7 \cdot 4$$



$$(32 - 4) : (7 \cdot 4)$$



Как надо поставить скобки в
выражении $30 : 5 \cdot 2 - 1$, чтобы его
значение было равно **6**?



$$30 : 5 \cdot (2 - 1) \quad 30 : (5 \cdot 2) - 1 \quad (30 : 5) \cdot 2 - 1$$



Как надо поставить скобки в
выражении слева, чтобы стало верным
неравенство $3 \cdot 6 - 2 + 4 < 15$?



$$3 \cdot (6 - 2) + 4$$



$$3 \cdot 6 - (2 + 4)$$



$$3 \cdot (6 - 2 + 4)$$



Ресурсы:

Автор шаблона *Ранько Елена Алексеевна*. Сайт: <http://elenaranko.ucoz.ru/>

Грибы с птичкой в левом нижнем углу на титульном слайде

Лиственная виньетка в правом верхнем углу

Желудь Улитка Гриб Желуди с зеленым листочком

Листья Коричневый лист Лист с муравьем Фон

Для презентации:

Грибы

<http://www.proshkolu.ru/content/media/pic/std/4000000/3260000/3259701-8fd70faa560e19af.png>

http://img-fotki.yandex.ru/get/6510/131624064.243/0_91da6_288a1e8f_M.jpg

http://static.wixstatic.com/media/4bedaf_09969c47b765435a832ba1c9f02e760b.png_srz_288_296_85_22_0.50_1.20_0.00_png_srz

Корзина <http://5.s.dziennik.pl/pliki/2386000/2386121-grzyby-643-482.jpg>

Тест №28 – Н.Б.Истомина, О.П.Горина Математика «Тестовые задания» 3 класс. Изд.:

Смоленск, Ассоциация XXI век, 2015г.

