





# ТЕСТ

## «Преобразования величин»

Автор презентации  
**Коровина Ирина Николаевна**  
учитель начальных классов  
МБОУ «СОШ №9»  
г. Сафоново Смоленской области





В каких единицах ты  
выразишь площадь  
комнаты?


№

1

В метрах

В  
сантиметрах

В  
квадратных  
метрах







# Выбери пару равных

№


2




3 кг 40 г и 3040 г

13 ц и 13000 кг

5 т 80 кг и 5800 кг






Масса девяти  
холодильников  
2 т 7 ц. Чему равна масса  
такого  
ика?

30 ц

300 кг

300 ц






Найди площадь квадрата,  
если его периметр равен 1 м  
60 см.




16 дм<sup>2</sup>

160 см<sup>2</sup>

16 м<sup>2</sup>







Выбери знак, пропущенный  
в записи:  $500 \text{ дм}^2 \dots 9 \text{ м}^2$ .


№


5

>

<

=






Миша пробежал дистанцию за 1 минуту 45 секунд, Серёжа – за 145 секунд, а Толя – за 115 секунд. Кто из них занял 1 место?

Толя

Серёж  
а

Миша






Выбери пару величин,  
которую можно сравнить.



63км и 6300мм

43м и 34 м<sup>2</sup>

85кг и 82 км







**Выбери запись величин в порядке возрастания.**


**№**


**8**

**1 сут, 2 мин, 25 ч,  
130с.**

**130с, 2 мин, 25  
сут.**

**2 мин, 130с, 1 сут,  
25ч.**







Длина гвоздя 1 дм 2 см.  
Какова длина гвоздя в  
миллиметрах?



102 мм

120 мм

1200 мм





Книга стоит 120рублей 20 копеек,  
она в 4 раза дороже блокнота.  
Сколько стоит блокнот?


№1

0

30руб. 20коп.

480руб.  
80коп.

30руб.  
5коп.







# Использованы ресурсы:

Автор шаблона – Коровина Ирина Николаевна <http://corowina.ucoz.com/>

Солнышко - [http://www.dietaonline.ru/community/post.php?topic\\_id=30706&page=43](http://www.dietaonline.ru/community/post.php?topic_id=30706&page=43)

Фон - <http://www.gpark.kz/gdefon/download/241668?PHPSESSID=8e2f6e45406bb9e6af6c1e6d59252946>

Для презентации:

Радуга

[https://static2.artfire.com/uploads/product/0/630/39630/9539630/9539630/large/1\\_4\\_sheet\\_cake\\_-\\_rainbow\\_birthday\\_topper\\_-\\_edible\\_cake\\_and\\_cupcake\\_topper\\_for\\_birthday\\_s\\_and\\_parties\\_-\\_d6813\\_6c6e253b.jpg](https://static2.artfire.com/uploads/product/0/630/39630/9539630/9539630/large/1_4_sheet_cake_-_rainbow_birthday_topper_-_edible_cake_and_cupcake_topper_for_birthday_s_and_parties_-_d6813_6c6e253b.jpg)

[http://abload.de/img/png\\_gokkusagi\\_nisanboj5u0p.png](http://abload.de/img/png_gokkusagi_nisanboj5u0p.png)

Ребенок рисует радугу <http://beautyindetails.ru/wp-content/uploads/2013/06/anywalls.com-34648.jpg>

Радуга с облаками <http://cdn01.ru/files/users/images/b8/2f/b82fc39ddc29af4d2599002f6dd1affe.png>

Дождик <http://img3.proshkolu.ru/content/media/pic/std/3000000/2722000/2721904-8ff37ae862fbeb8e.gif>

[http://cards.anypics.ru/muzs\\_alb/5596/26415/fon/fon\\_c244caa50391e07c2daa1c8b77f580be.gif](http://cards.anypics.ru/muzs_alb/5596/26415/fon/fon_c244caa50391e07c2daa1c8b77f580be.gif)

Задания – Н.Б.Истомина, О.П.Горина Математика /Тестовые задания/ 4 класс Изд. Смоленск:

«Ассоциация XXI век» 2015г. Тест№24