



Тест

«Таблица умножения на 8 и 9»



Автор презентации
Коровина Ирина Николаевна
учитель начальных классов
МБОУ «СОШ №9» г.Сафоново
Смоленской области



1


Выбери знак, пропущенный в записи:
 $207 + 207 + 207 + 207 \dots 207 \cdot 5$



>



=





2

Произведение чисел 8 и 3
увеличили в 2 раза. Какое
число получили?




22

64



48






3

Выбери множитель,
пропущенный в записи:

$$\dots \cdot 9 + 18 = 54$$



5



6





№

4

Выбери произведение,
значение которого равно
второму множителю.




$$0 + 31$$

$$86 \cdot 1$$



$$33 \cdot 0$$





5

Выбери знак, пропущенный в записи:


$$81 \cdot 3 \dots 3 \cdot 81$$



<



>







6

Верно ли равенство:

$$70 - 54 = 8 \cdot 2?$$



нет





7

Выбери слагаемое,
пропущенное в записи:

$$\dots + 8 \cdot 6 = 59$$




9

10



11





Разгадай правило, по которому записан ряд произведений:

$$9 \cdot 1, 8 \cdot 2, 7 \cdot 3, 6 \cdot 4, 5 \cdot 5, \dots$$


Выбери произведение, которым нужно продолжить этот ряд.

№

8




$$4 \cdot 4$$



$$4 \cdot 6$$

$$3 \cdot 7$$





№


9

Выбери знаки
арифметических действий,
пропущенные в записи:

$$9 \cdot 7 = 9 \dots 9 \dots 9 \cdot 2$$



+, - ·, +






№1

0

На сколько произведение чисел 8 и 9 больше произведения чисел 7 и 8?



на 18



на
16

на 14





Использованные ресурсы:

- **Для шаблона:**
- Автор шаблона **Коровина Ирина Николаевна**
- Корабль <http://www.work.ua/jobs/by-company/308515/>
- Штурвал <http://www.astrologo.ru/sonnik/Shturval/>
- Фон <http://гудфон.рф/%D0%BE%D0%B1%D0%BE%D0%B8/?query=stars&page=41>
- Фон рабочих слайдов <http://www.regalboat.ru/blog.php?uxvle=podborka&sfyij=5391>
- Якорь <http://www.fabrikaglamura.ru/forum/t11974,4-.htm>
- Дельфин
<http://umm4.com/page/3?s=%D0%B8%D0%B3%D1%80%D0%B0+%D0%B4%D0%BB%D1%8F+%D0%B4%D0%B5%D1%82%D0%B5%D0%B9>
- **Для презентации:**
- Спасательный круг
http://www.wordassociations.ru/image/600x/svg_to_png/maidis_lifesaver.png
- Кораблик <http://www.vsevremonte.ru/gallery/potolokpicture/potolokpicture032l.jpg>
- Штурвал http://www.zoloto72.ru/uploadfiles/1279700913_b.jpg
- Тест №8 – Н.Б.Истомина, О.П.Горина Математика «Тестовые задания» 3 класс. Изд.: Смоленск, Ассоциация XXI век, 2015г.

