

Математика · 4 класс · УМК «Гармония»



# ТЕСТ

## «Уравнения»



Автор презентации  
**Коровина Ирина Николаевна**  
учитель начальных классов  
МБОУ «СОШ №9» г.Сафоново Смоленской  
области



Какое число увеличили в 7 раз, если получили 630?

9

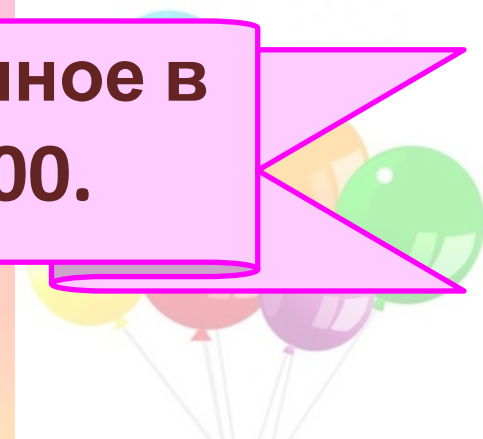
90

623





Выбери число, пропущенное в  
записи:  $1350 - \dots = 1100$ .



**350**

**2450**

**250**





Дано предложение: «Число 260 уменьшили на несколько единиц и получили 232». Выбери запись этого предложения уравнением.

$$260 - x = 232$$

$$x - 260 = 232$$

$$232 + x = 260$$





Выбери буквенное выражение.

$$X + 302 = 540$$

$$462 + a$$

$$(58 + 10) : 34$$






Выбери уравнение, корень  
которого равен 100.

$$200 \cdot x = 20 \cdot 100$$

$$x : 10 = 1000$$

$$(220 + 122) + x = 442$$





Выбери выражение для записи расстояния, если автомобиль шёл  $a$  часов со скоростью  $80\text{км/ч}$ .

$$80 : a$$

$$a + 80$$

$$80 \cdot a$$





Выбери запись, которую  
можно назвать уравнением.

$$(x - 20) + 18$$

$$248 \cdot x = 1488$$

$$32 + x > 50$$







Найди значение выражения  $62 \cdot b$ , если  $b = 0$ .

62

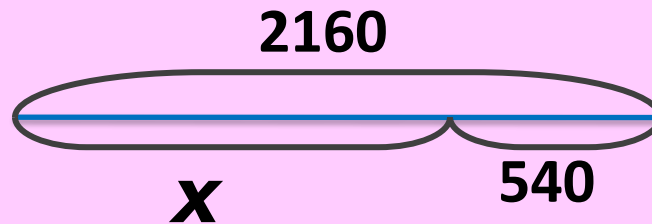
0

1





Выбери уравнение, которое  
соответствует схеме.



$$x - 540 = 2160$$

$$540 + x = 2160$$

$$540 \cdot x = 2160$$





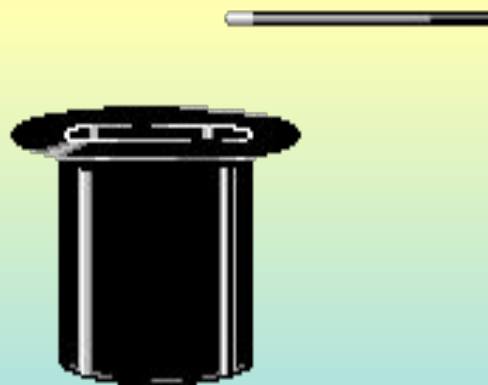
Какое действие нужно  
выполнить, чтобы найти  
число, пропущенное в записи:

$$\dots - 18 = 72$$

**вычитан  
ие**

**деление**

**сложени  
е**



## Используемые источники:

Автор шаблона **Фокина Лидия Петровна** Сайт <http://linda6035.ucoz.ru/>

Шары [http://alldaydesing.net/uploads/posts/2013-03/thumbs/1363686164\\_34775.jpg](http://alldaydesing.net/uploads/posts/2013-03/thumbs/1363686164_34775.jpg)

Клоун [http://img0.liveinternet.ru/images/attach/c/7/95/181/95181566\\_large\\_1.png](http://img0.liveinternet.ru/images/attach/c/7/95/181/95181566_large_1.png)

Для презентации:

Акробатка [http://kartinki-vernisazh.ru/\\_ph/75/2/41626941.gif](http://kartinki-vernisazh.ru/_ph/75/2/41626941.gif)

Клоун с собакой

[http://img0.liveinternet.ru/images/attach/b/0/1862/1862756\\_4880465\\_klown\\_and\\_dog.gif](http://img0.liveinternet.ru/images/attach/b/0/1862/1862756_4880465_klown_and_dog.gif)

Эквилибрист [http://kartinki-vernisazh.ru/\\_ph/75/2/474333923.gif](http://kartinki-vernisazh.ru/_ph/75/2/474333923.gif)

Слон <http://ng017.k12.sd.us/elephant.gif>

Медведь с шарами [http://kartinki-vernisazh.ru/\\_ph/15/1/789739959.jpg](http://kartinki-vernisazh.ru/_ph/15/1/789739959.jpg)

Девочка на шаре [http://img-fotki.yandex.ru/get/9801/148561800.3fc/0\\_e1e6a\\_c93779c6\\_M.gif](http://img-fotki.yandex.ru/get/9801/148561800.3fc/0_e1e6a_c93779c6_M.gif)

Морской котик <http://stjyear1.pbworks.com/f/seal.gif>

Бегемот [http://wdesk.ru/\\_ph/118/2/482611381.gif](http://wdesk.ru/_ph/118/2/482611381.gif)

Шляпа <http://escolagertrudesmilbratz.pbworks.com/f/1290450207/magica.gif>

Жонглёр <http://www.tommytinker.com/wpimages/wpe302f49b.gif>

Шапито

[http://images.clipartlogo.com/files/ss/thumb/991/99121433/drawing-circus-tent-with-yellow\\_small.jpg](http://images.clipartlogo.com/files/ss/thumb/991/99121433/drawing-circus-tent-with-yellow_small.jpg)

- Задания - Н.Б.Истомина, О.П.Горина Математика «Тестовые задания» 4 класс. Изд.: Смоленск, Ассоциация XXI век, 2015г. Тест 30

