


Тест –обобщение  
по окружающему  
миру



# «Всезнайка»

» 3

клас

Начать тест

С

Берестовская Наталья Александровна,  
учитель начальных классов МБОУ СОШ

Использован [шаблон создания тестов в PowerPoint](#) № 61



# Результат теста

Верно: 0

Ошибки: 0

Отметка: 0

Время: 0 мин. 25 сек.

[ещё](#)

**К какому царству относятся  
организмы, состоящие в  
основном из шляпки и  
ножки?**




**растения**

**бактерии**

**грибы**



**К какой группе относятся животные, которые часть жизни проводят на земле, а часть в воде?**




земноводные

пресмыкающиеся

рыбы



# Кто не является птицей?




ястреб

летучая  
мышь

ПИНГВИН



**Что помогает человеку  
обдумывать разные  
сведения об  
окружающем мире?**




воображение

память

мышление



Какое тело может быть  
твёрдым, жидким,  
газообразным?




камень

древесина

вода



Как называется самая  
необходимая для  
человека звезда?



полярная  
звезда

созвездие  
Кассиопея

солнце






**Без чего человек не  
может прожить и  
несколько минут?**

пища

вода

воздух



Некоторые растения  
использую ветер для  
распространения семян.  
Укажи растение, которое  
приспособилось делать  
это при



помощи п

клён


ка

одуванчик

репейник



# К искусственным водоёмам относятся



пруды, реки , моря

водохранилища, пруды, каналы

моря, реки, озёра



# Строителями хаток и плотин на пресных водоемах




Я люди ...

цапли

бобры



# С водоёмами связана жизнь.....



цапель, уток

журавлей, зябликов

лебедей, сов




# К съедобным грибам относятся


желчные грибы

рыжики

мухоморы



Как называются  
растения, у которых  
несколько довольно  
тонких стеблей –



деревья **КОВ?**

кустарники

трава



К какой группе  
относятся  
растения - жители



МХИ

ДЫ?

папоротники

водоросли






# Плодородие почвы зависит от количества...


перегноя

песка

солей



# Укажи орган обоняния



ухо

нос

язык



К какой группе  
относятся  
растения- жители



пуга?


папоротники

цветковые  
растения

хвойные



Какой орган помогает  
крови  
передвигаться по  
организму



желудок


ка?

сердце

ПОЧКИ



# Какие вещества необходимы человеку для правильного



р


овоци и фрукты

белки, жиры, углеводы

мясные и рыбные продукты



Из остатков умерших  
растений и животных под  
воздействием  
микроорганизмов



о

ил

я...

глина

перегной

