


ТЕСТ

«Взаимосвязь умножения и деления»

Автор презентации
Коровина Ирина Николаевна
учитель начальных классов
МБОУ «СОШ №9»
г.Сафоново Смоленской области

1) Выбери выражение, в котором делимое равно делителю.

 $32 + 32$

 $15 : 15$

 $64 : 8$



2) Маша прочитала книгу за $42 : 6$ дней. Сколько страниц читала Маша каждый день?

42
страницы

7
страниц

6
страниц



3) По какому правилу составлен ряд выражений: $90 : 2$, $70 : 2$, $50 : 2$, $30 : 2$, ...? Выбери частное, которым нужно продолжить этот ряд.



$20 : 2$



$10 : 2$



$40 : 2$



4) Во сколько раз надо
уменьшить 63, чтобы получить
9?

в 9 раз

в 8 раз

в 7 раз



5) Карандаши разложили в коробки.
Сколько понадобилось коробок, если в
каждой оказалось $72 : 8$ карандашей?

72
коробки



9
коробо
к

8
коробо
к



6) Выбери знак, пропущенный в записи:

$$0 \cdot (21 + 10) \dots 12 : 12$$



7) Увеличить частное $35 : 5$ на 3 десятка. Какое число получится?

21

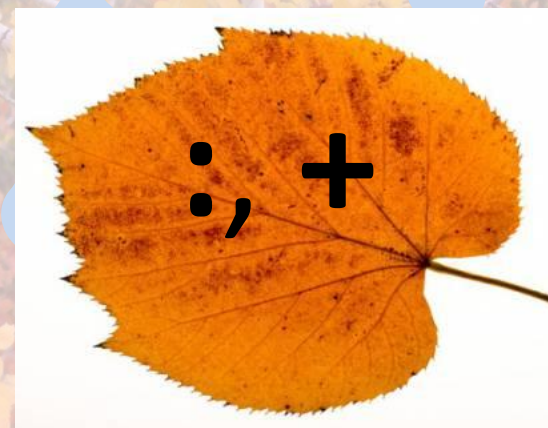
10

37



8) Выбери знаки арифметических действий, пропущенные в записи:

$$18 \dots 3 = 3 \dots 2$$



9) Чтобы набрать на компьютере текст, оператор затратил $27 : 9$ часов. Сколько страниц текста он набирал каждый час?

27
страниц

3
страниц
ы

9
страни
ц



**10) Выбери множитель,
пропущенный в записи:**

$$\dots \cdot 3 = 12$$



Ресурсы:

- Автор шаблона – Коровина И.Н.
- Фон http://kartinki-na-rabochiy-stol.ru/1285618905_1220983320_autumn_vine_maple_and_lichensid_3_img12159.html
- Листья http://citaty.ru/8280994_img35309.html
- Для презентации:
- Дубовый лист http://img0.liveinternet.ru/images/attach/c/2/66/288/66288065_1289118378_023212795.png
- Лист липы http://i.allday.ru/uploads/posts/2008-11/thumbs/1225664812_shutterstock_2342846.jpg
- Кленовый лист http://static.kharkovforum.com/customprofilepics/profilepic450688_4.gif
- Гриб <http://cs621631.vk.me/v621631362/e334/qFHMJuNm1JY.jpg>
- Тест №23 – Н.Б.Истомина, О.П.Горина Математика «Тестовые задания» 3 класс. Изд.: Смоленск, Ассоциация XXI век, 2015г.

