

Решаем задачи с Машей и Мишей

Выполнила **Голдина Л.В.**, учитель
начальных классов МКОУ «ООШ №
15»

г. Миасса Челябинской области



Ребята!

Помогите Маше и Мише решить задачи.

Если всё выполните верно, то в конце вас ждёт сюрприз!

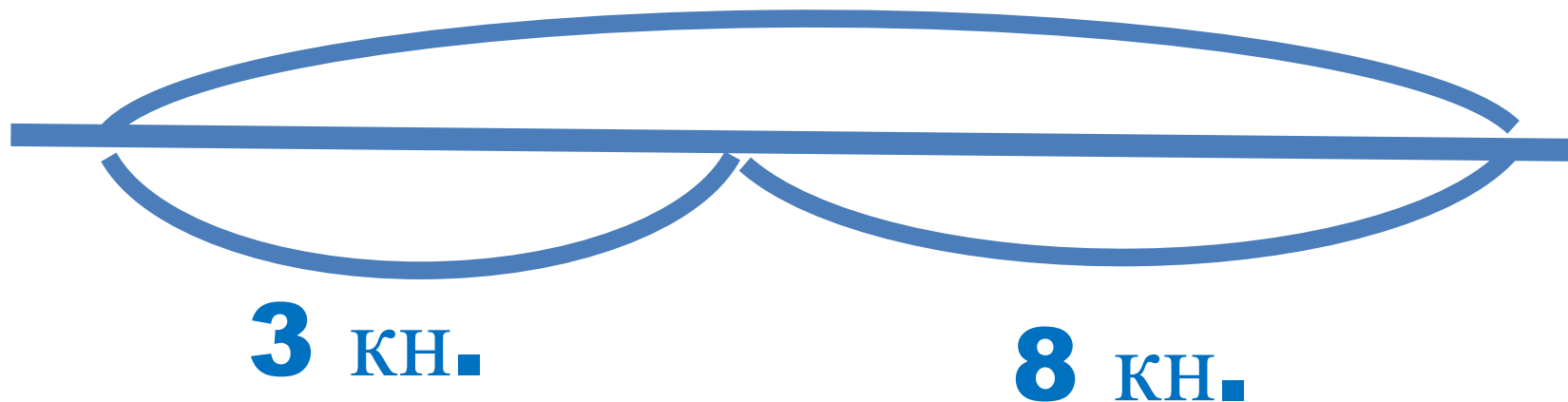


С полки сняли **3** книги, осталось **8** книг.
Сколько книг было на полке?

11

5

?

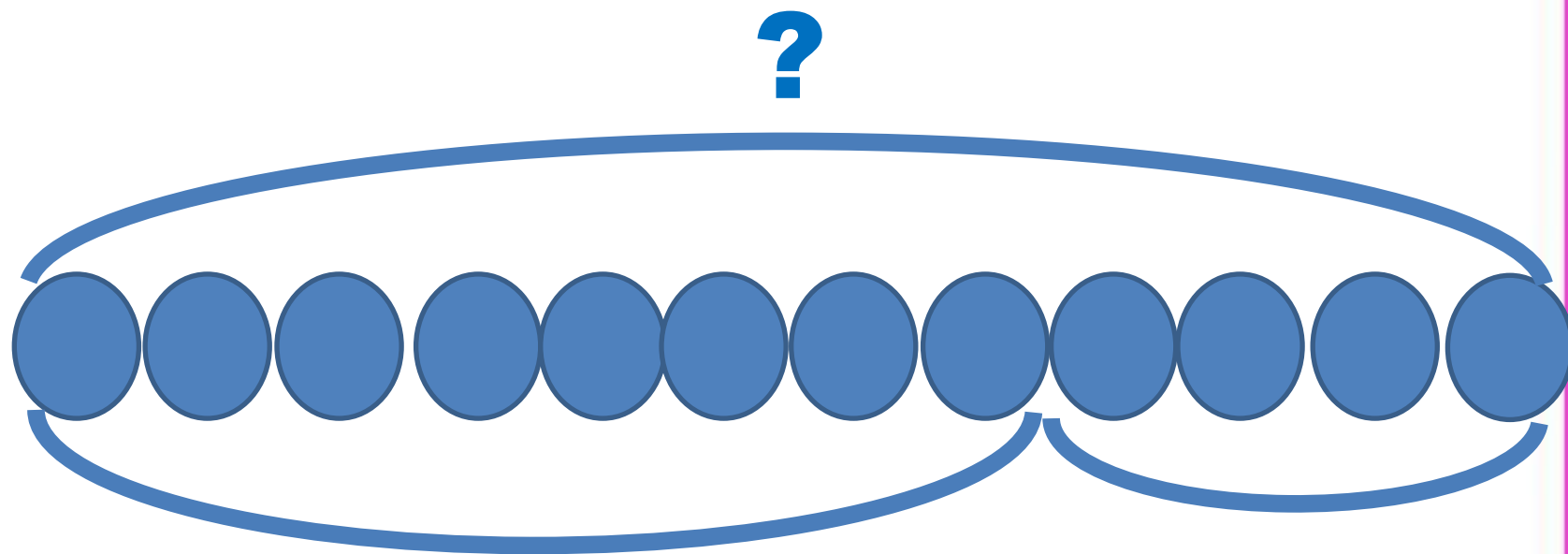


На одной ветке **8** снегирей, а на второй –
на **4** больше.

Сколько птиц на второй ветке?

12

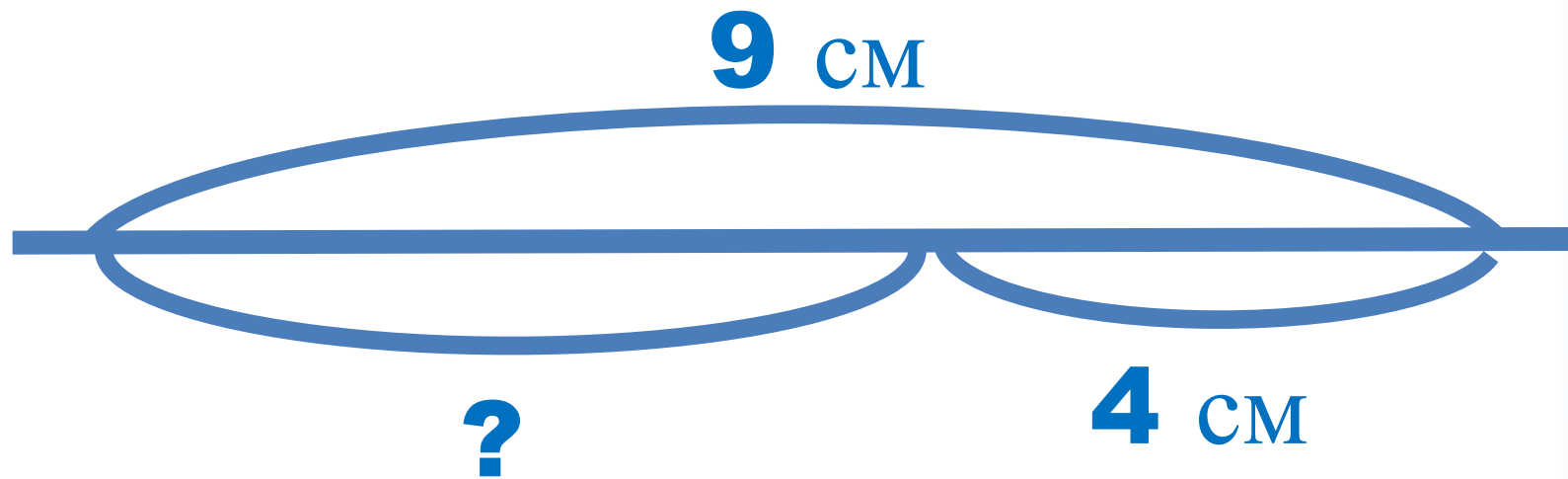
4



Днём улитка проползла **9** см, а вечером – на **4** см меньше.
Сколько сантиметров проползла улитка вечером?

5

13

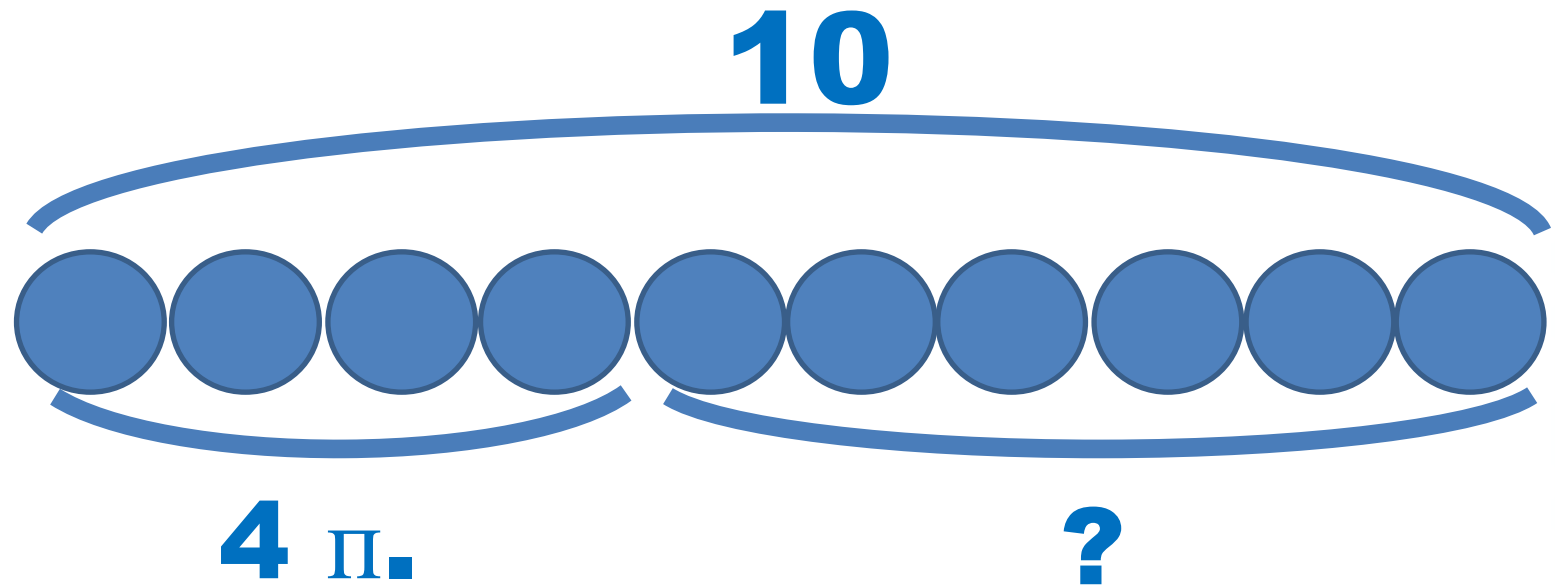


Из **10** птиц на птичьем дворе – **4** петуха, остальные курочки.

Сколько курочек на птичьем дворе?

14

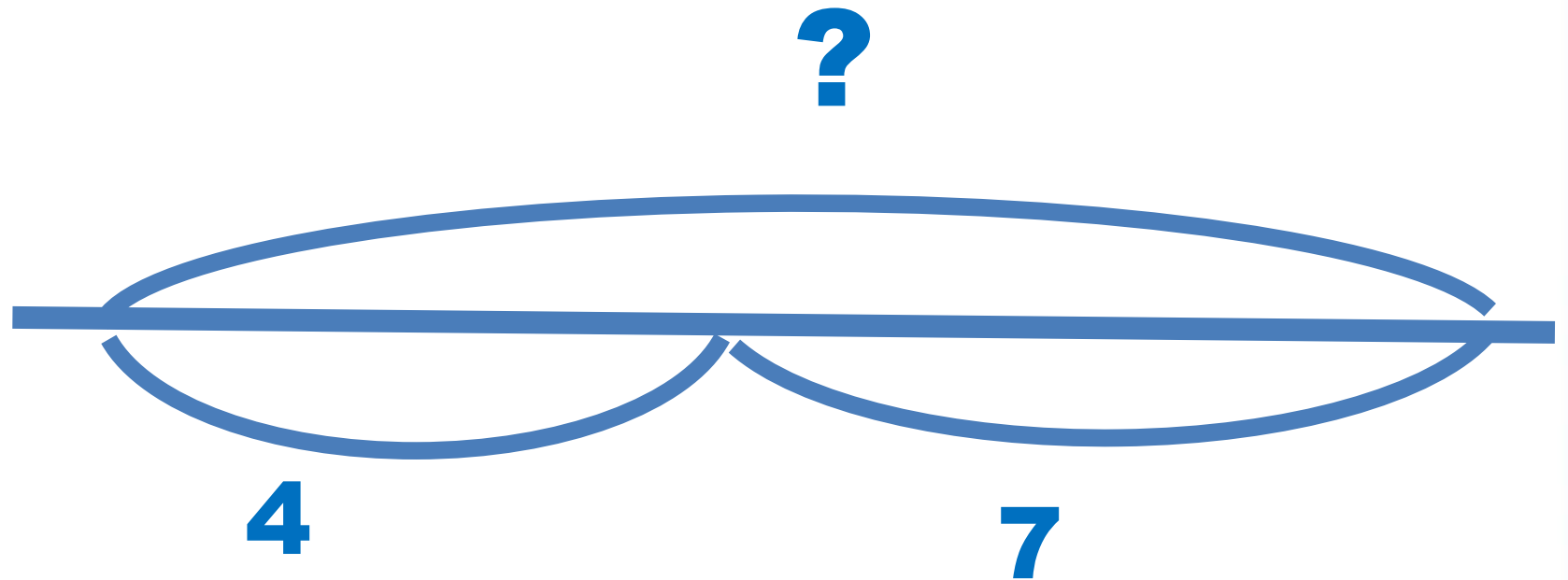
6



В коробке **4** простых и **7** цветных карандашей.
Сколько карандашей в коробке?

3


11



В вазе – **12** цветков. Это **8** ромашек и васильки.
Сколько васильков в вазе?

20

4





Завершить
показ

Источники

- <http://www.xn--80aaihodjmfxsjb.xn--p1ai/upload/medialibrary/ac2/ac27b906c16964642b6d5b5476739531.jpg> кнопка
- http://www.project-home.ru/info/userfiles/news/190_newsnovosti-stroitelnogo-rynka-za-gorodnoj-nedv.jpg фон (обработан в Paint)
- <http://www.lorik422.ru/wp-content/uploads/2014/10/%D1%81%D0%BE%D0%BB%D0%BD%D1%8B%D1%88%D0%BA%D0%BE.png> - СОЛНЫШКО
- <http://festival.1september.ru/articles/613060/presentation/19.jpg> Маша и Миша (обработан в фотошоп)
- <http://www.kwnc.edu.mo/baba/butterfly.gif> бабочки
- <http://linda6035.ucoz.ru/load/9-1-0-358> шаблон презентации
- <http://900igr.net/thumbs/geometrija/Evklid/0034-034-Zavershit-pokaz.jpg> кнопка
- Авторское озвучивание (Новиковой Л.А.)

