



Зачётная работа №3 выполнена в рамках МК
«Интерактивная раскраска в программе
Microsoft Office PowerPoint»
на сайте [«Копилочка»](#)



Тренажёр «Величины и их измерение»

Математика 4 класс, УМК любой



Автор: Кашичкина Лариса Николаевна
учитель математики и информатики
МБОУ «Кипринская ООШ»
Очёрского района Пермского края



Дорогой друг!

Хорошо ли ты знаешь величины?

Предлагаю тебе проверить свои знания по этой теме. Для этого ты должен решить 13 заданий.

Внимательно читай задание на оранжевой карточке и выбирай правильный ответ на голубой карточке.

Если ответ верный, то часть картинки-раскраски закрасится.

Желаю удачи!





Вырази 230 080 м в
километрах и метрах

23 км 80 м

230 км 80 м

230 км 8 м




Сколько килограммов
в 540 ц?

5400 кг

54 000 кг

540 000 кг




Сколько килограммов
в 7 т 640 кг?

70 640 кг

764 кг

7 640 кг



Если 40 м уменьшить на 20 см, то получится:

20 м

39 м 80 см

39 м 20 см



Сколько минут в 8 часах?

800 мин.

480 мин.

420 мин.



Во сколько раз 5 м больше,
чем 5 см?

в 10 раз

в 1000 раз

в 100 раз



Сколько центнеров нужно
добавить к 3 т, чтобы
получилось 3 т 600 кг?

6 ц

60 ц

600 ц



Сколько граммов в 30 кг?

30 000 г

3 000 г

300 г



Сколько надо вычесть из
8 т, чтобы получить 2 кг?

6 т

7 т 98 кг

7 т 998 кг




Сколько лет в 4 веках?

40 лет

400 лет

48 лет



Сколько дециметров в одной
второй метра?

1 дм

50 дм

5 дм




Чему равны 400 см^2 ?

4 дм^2

40 дм^2

$4 \text{ дм}^2 10 \text{ см}^2$



Сколько аров в 1500 м^2 ?

150 а

1 а 50 м^2

15 а



Молодец!



Использованные ресурсы

- Волкова С.И., Ордынкина И.С. Контрольные работы и тесты по математике. 1 – 4 классы. – Тула: «Родничок»; М.: ООО «Издательство Астрель», 2000.
- [Картинка-раскраска](#)
- [Мальчик](#)
- [Кубик](#)
- [Карандаш с цифрами](#)
- Ведущий мастер-класса Фокина Лидия Петровна, учитель начальных классов МКОУ «СОШ ст. Евсино» Искитимского района Новосибирской области
- Шаблон презентации авторский

