

## Тройки и двойки

Учитель начальных классов  
МБОУ СОШ № 8 г. Моздока  
Сук Наталия Ивановна



# УСТЫЙ СЧЁТ



$$a = 3\text{ см}$$

$$b = 2\text{ см}$$

$$P = ?$$

$$S = ?$$

$$P = 3 + 2 + 3 + 2 = 10\text{ см}$$

$$S = 3 \cdot 2 = 6\text{ см}^2$$

Ответ:  $P = 10\text{ см}$ ,  $S = 6\text{ см}^2$



**Щёлкните мышкой по числу,  
которое не делится на 3.**

18

35

15

21

9

14

31

27

20

24



# Устный счёт

Какие числа должны стоять в пустых клетках?

Множитель	3		3		2	3
Множитель	9	6		3		10
Произведение		12	12	18	18	



# УСТНЫЙ СЧЁТ

В каждой корзине по 7 грибов.

Сколько грибов в трёх корзинах?



$$7 \cdot 3 = 21 \text{ (г)}$$


Ответ: 21 гриб.




# ТРОЙКИ И ДВОЙКИ

1. Начерти отрезок длиной 4 см.

Начерти отрезок, который в 2 раза длиннее.

 Какое арифметическое действие нужно выполнить, чтобы узнать его длину?

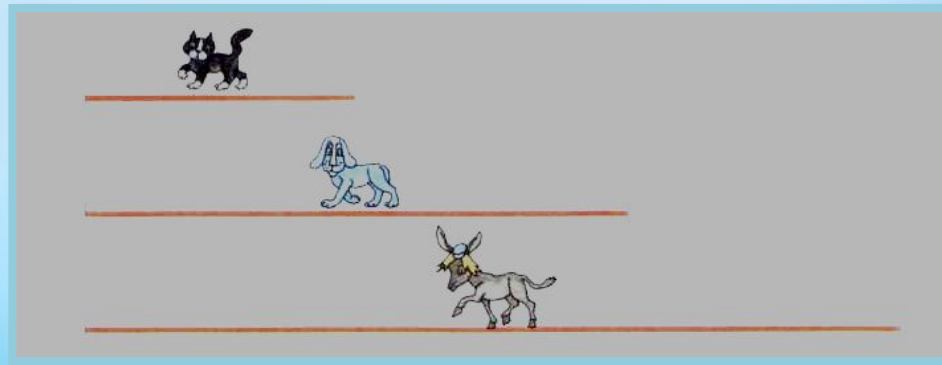
 Как ты думаешь, какой длины будет отрезок, который в три раза длиннее первого? Начерти его.

Какое действие нужно выполнить, чтобы узнать его длину?



## 2. Рассмотрим рисунки. Расскажи, кто прошёл:

в 2 раза больше, чем кот;  
в 2 раза меньше, чем пёс;  
в 3 раза больше, чем кот;  
в 3 раза меньше, чем осёл.



а) Предположим, кот прошёл 7 километров. Сколько в таком случае прошёл пёс? Сколько осёл?

Кот: 7 км  
Пёс:  $7 \cdot 2 = \dots$   
Осёл: ...

б) Предположим, пёс прошёл 18 километров. Сколько в таком случае прошёл кот? Сколько осёл?

Пёс: 18 км  
Кот:  $18 : 2 = \dots$   
Осёл: ...

в) Предположим, осёл прошёл 24 километра. Сколько в таком случае прошёл кот? Сколько пёс?



### 3. Найди число, которое:

- в 2 раза больше, чем 9;*
- в 2 раза меньше, чем 20;*
- в 3 раза больше, чем 6;*
- в 3 раза меньше, чем 21.*





## 4. Выбери действие, нужное для решения задачи.

а) В КВН принимало участие 3 команды по 9 человек. Сколько человек было в этих командах?

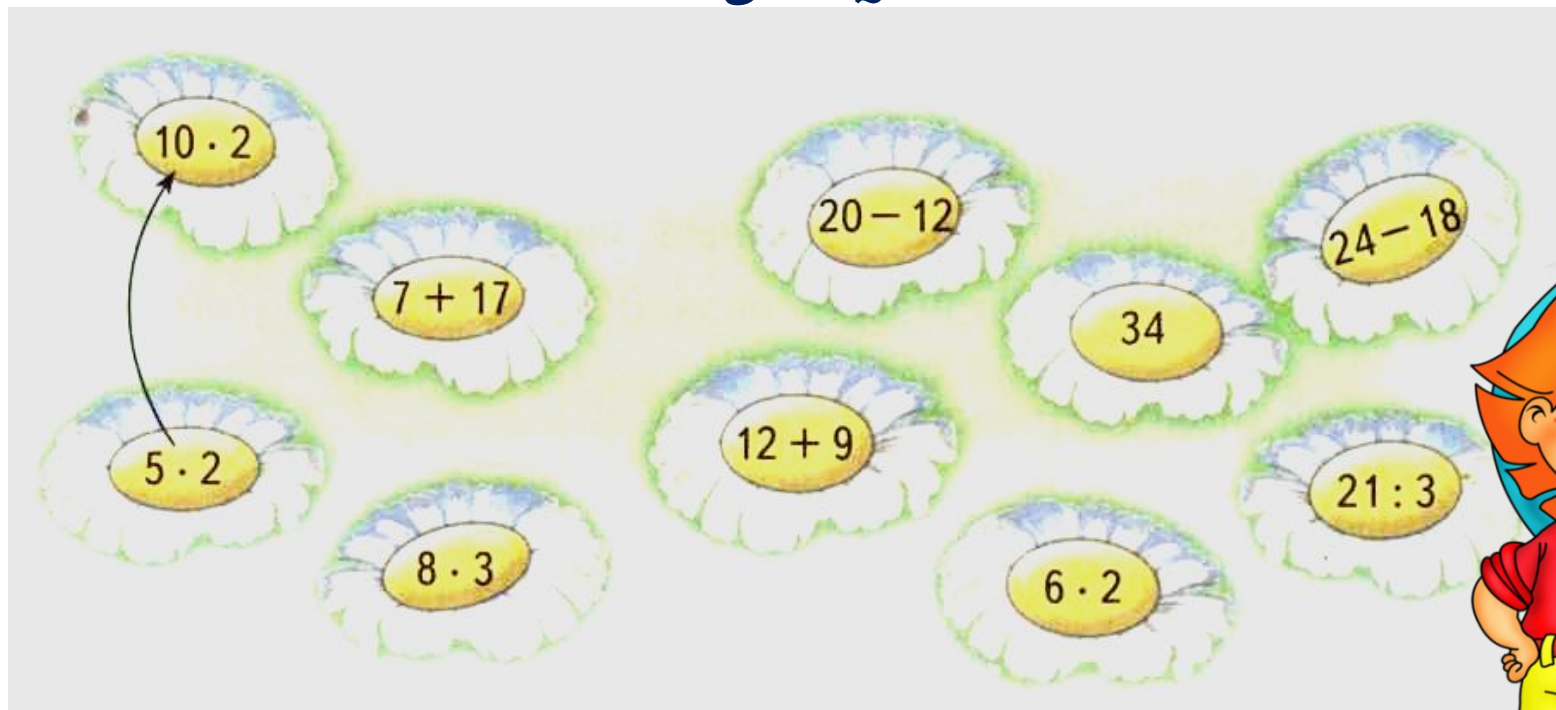
б) В команде «Шишки» трое не умеют петь. Остальные участвовали в музыкальном конкурсе. Сколько их было?

в) Команда «Лепёшки» исполнила танец. Для этого участники команды разбились на три одинаковые группы. Сколько человек было в каждой группе?

г) В спортивном конкурсе участвовала вся команда «Крошки» и ещё три болельщика. Сколько человек выступало за эту команду в спортивном конкурсе?



**5. Назови ответ. А твой товарищ пусть найдёт начало следующего примера и назовёт следующий ответ.**



# Список использованных ИСТОЧНИКОВ

Изображение колокольчика:

<http://allforchildren.ru/pictures/showimg/school1/school0119jpg.htm>

Изображение Бременские музыканты:

[http://pictures.ucoz.ru/photo/detskie\\_kartinki/skazochnye\\_personazhi\\_bremenskie\\_muzykanty/3-0-1222](http://pictures.ucoz.ru/photo/detskie_kartinki/skazochnye_personazhi_bremenskie_muzykanty/3-0-1222)

Изображение Незнайка:

<http://allforchildren.ru/pictures/showimg/neznaika/neznaika06gif.htm>

Изображения из учебника «Математика» М.И.Башмакова.

