

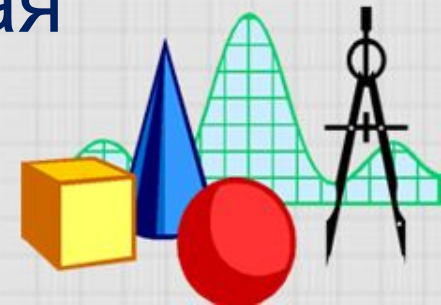
*Тема урока*

**Цена. Количество.  
Стоимость.**

Учитель начальных  
классов

МБОУ Мещеряковская  
СОШ

Чернова Ольга



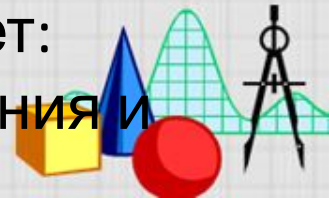


# К.И. Чуковский



- Корней Иванович Чуковский (Николай Иванович Корнейчуков) родился в Петербурге в 1882 году в бедной семье. Свое детство он провел в Одессе и Николаеве.

Интересоваться поэзией Чуковский начал с ранних лет: писал стихотворения и даже поэмы





- $96 - 43$       **A**
- $69 - 27$       **Y**
- $16 + 7$         **K**
- $21 + 27$         **X**
- $63 - 32$         **O**
- $96 - 43$         **A**

- •  $96 - 43$         **A**
- $69 - 27$         **Y**
- $16 + 7$         **K**
- $21 + 27$         **X**
- $63 - 32$         **O**
- $96 - 43$         **A**






<b>М</b>	<b>у</b>	<b>х</b>	<b>а</b>	<b>Ц</b>	<b>о</b>	<b>к</b>	<b>о</b>	<b>т</b>	<b>у</b>	<b>х</b>	<b>а</b>
7	8	12	16	18	22	23	31	37	42	48	53









# 1 рубль



100 к.










• • • • •  
00000000  
00000000  
00000000  
||+||+||  
00000000  
00000000

>OXOX>



- У двух блошек по 5 сапожек и на каждой по 17 застёжек. Сколько застёжек висит на сапожках?









XXXXX  
XXXXX  
XXXXX



- Банка варенья стоит 25 руб а мёда 45 руб. Сколько будут стоить 2 банки варенья и 3 банки мёда? У Пети всего 90 руб. Хватит ли ему этих денег на 2 банки варенья и 1 мёда?







Давайте ОТДОХНЁМ











Цена	Количество	Стоимость
10руб.	4 шт.	? руб.
5руб.	? шт.	25руб.
? руб.	7шт.	63руб.





Цена	Количество	Стоимость
10 руб.	4 шт.	40 руб.

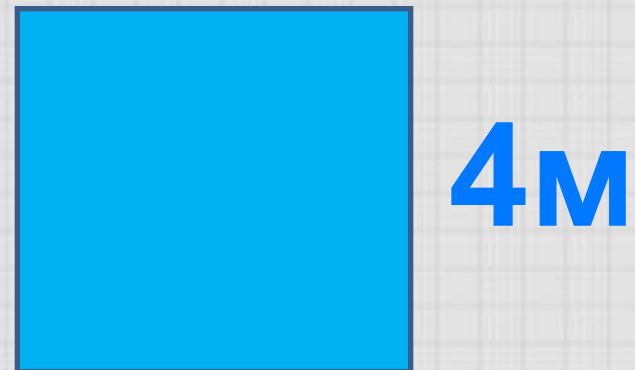
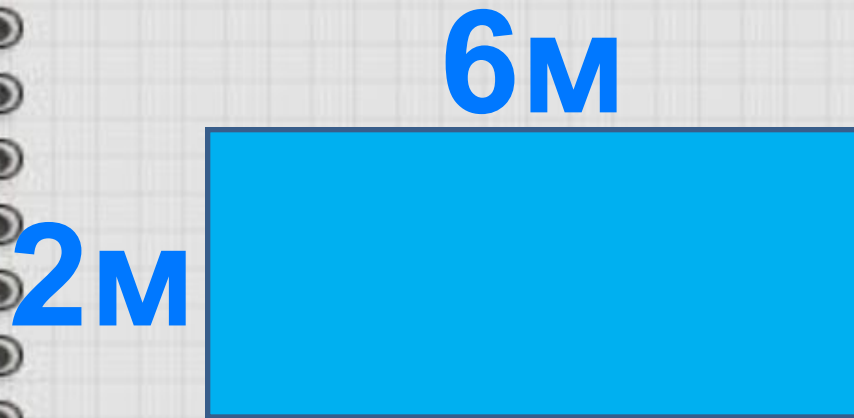
Цена	Количество	Стоимость
5 руб.	5 шт.	25 руб.

Цена	Количество	Стоимость
9 руб.	7 шт.	63 руб.





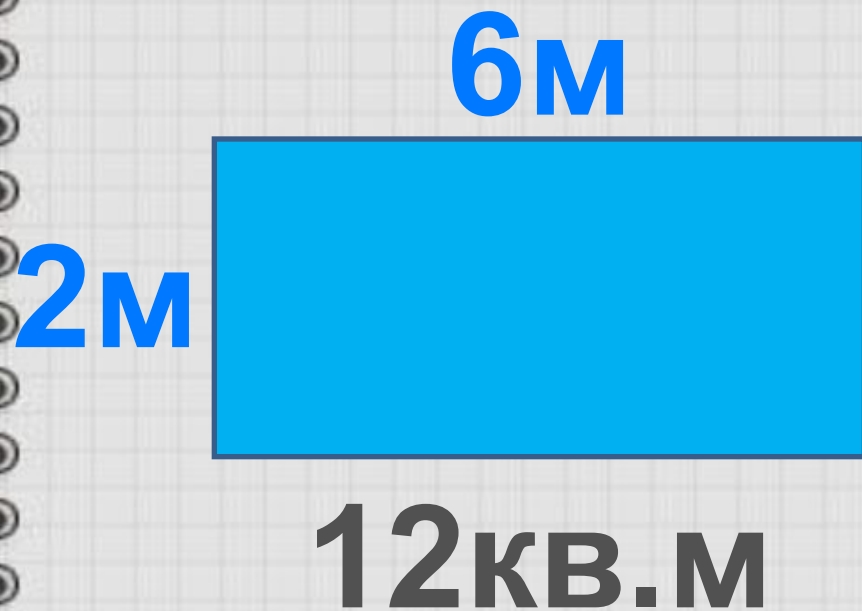
# Найдите площадь комнат







# 28 кв.м.






12, 26, 40, 54, ...



68, 72, 86.





# Продолжите фразу :

Чтобы узнать цену товара

Нужно стоимость покупки разделить  
на количество купленного товара

Чтобы найти стоимость покупки

Нужно цену одного товара умножить  
на количество купленного товара

Чтобы найти количество купленного  
товара

Нужно стоимость покупки разделить  
на цену товара







# Домашнее задание

- Найти и составить задачу со сказочными героями по нашей теме урока.





# Рефлексия

Мне легко

Но, не всё



научусь





# Урок окончен.

Спасибо за работу на уроке








# Источники изображений



<http://www.caringbahlearningcentre.com.au/assets/images/calc.JPG>

<http://www.mathknowledge.com/images/custom/LOGO.GIF>



<http://www.proshkolu.ru/content/media/pic/std/1000000/248000/247659-a3befaa6af58cffa.jpg>

Автор данного шаблона:

Ермолаева Ирина Алексеевна  
учитель информатики и математики  
МОУ «Павловская сош»

с.Павловск

Алтайский край





- <http://im2-tub-ru.yandex.net/i?id=257921865-02-72&n=21>
- <http://im3-tub-ru.yandex.net/i?id=350906108-56-72&n=21>
- <http://im4-tub-ru.yandex.net/i?id=333907590-22-72&n=21>
- <http://www.bankreceptov.ru/pict/cokotuha-05.gif>
- <http://im0-tub-ru.yandex.net/i?id=199984539-67-72&n=21>
- <http://im0-tub-ru.yandex.net/i?id=219413190-22-72&n=21>
- <http://im0-tub-ru.yandex.net/i?id=199984539-67-72&n=21>
- <http://im5-tub-ru.yandex.net/i?id=311996233-71-72&n=21>
- <http://im4-tub-ru.yandex.net/i?id=432470056-35-72&n=21>
- [http://www.spletnik.ru/img/\\_post/93/chukovsky-inside-1\\_9\\_3322cb492795de9b8fcf294016dd554\\_635.jpg](http://www.spletnik.ru/img/_post/93/chukovsky-inside-1_9_3322cb492795de9b8fcf294016dd554_635.jpg)





- <http://im8-tub-ru.yandex.net/i?id=200529642-66-72&n=21>
- <http://im7-tub-ru.yandex.net/i?id=539017571-01-72&n=21>
- [http://cs5908.userapi.com/u6863324/-6/x\\_4b15785e.jpg](http://cs5908.userapi.com/u6863324/-6/x_4b15785e.jpg)
- <http://vashprazdnik.org/photo/4e553e7b2fc91.jpg>
- <http://im2-tub-ru.yandex.net/i?id=321210584-03-72&n=21>
- [http://img0.liveinternet.ru/images/attach/c/2/72/718/72718596\\_1301310114\\_50kopeek2001.jpg](http://img0.liveinternet.ru/images/attach/c/2/72/718/72718596_1301310114_50kopeek2001.jpg)

