

Учитель начальных классов
СШ №21 с. Сарыозек
Осакаровского района
Карагандинской области
Республики Казахстан
Травнева О.Ю.

Тест по математике 3 класс

Тема

«Умножение и деление на 5»

Начать тест

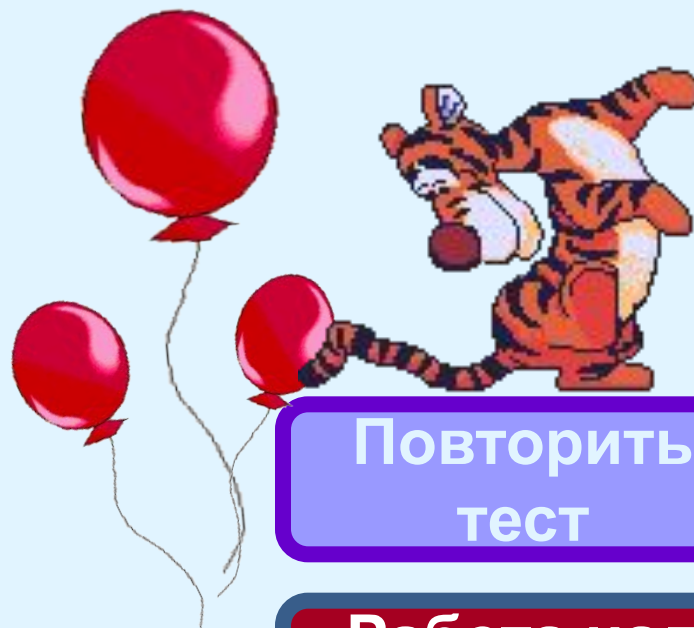


Тест составлен по шаблону Иванова Д. http://nachalka.com/test_shablon

Результат теста

Время: 0 мин. 12 сек.


Молодец!!!



Повторить
тест

Работа над
ошибками

Для выхода нажмите клавишу ESC



1. Умножение можно заменить следующей записью:


A) $5 + 3 + 4 + 2$

C) $5 - 5 - 5 + 5$

B) $5 + 5 + 5 + 5$

D) $9 - 5 + 4 - 2$

далее



2.Выражение: $5 + 5 + 5$ можно
заменить произведением чисел:

A) $5 * 4$

C) $3 * 3$

B) $5 * 3$

D) $5 * 5$

далее

3. Покажи действие, при котором числа называются: делимое, делитель, значение частного.

A) :

C) +

B) *

D) -

дальше

4. Отметь верное утверждение:


А) Если из значения разности вычесть уменьшаемое получится вычитаемое.

С) Если делимое разделить на делитель, то получится значение произведения.

В) Если значение произведения разделить на множитель, то получится другой множитель.

Д) Если к первому слагаемому прибавить второе слагаемое, то получится значение разности.

далее



5. Сколько стоят 5 тетрадей, если одна тетрадь стоит 7 тенге?


A) 35 тг

C) 25 тг

B) 12 тг

D) 2 тг

дальше



6. В пяти люстрах 20 лампочек.
Сколько лампочек в одной
люстре?

A) 15 лампочек

C) 5 лампочек

B) 4 лампочки

D) 25 лампочек

дальше



7. В уравнении $x : 2 = 5$ найти значение x .

A) $x = 7$

C) $x = 10$

B) $x = 3$

D) $x = 25$

далее



8. Найти периметр квадрата, сторона которого равна 5 см.

A) 15 см

C) 10 см

B) 5 см

D) 20 см

дальше



9. Сколько стоят пять ручек, если одна ручка стоит 8 тенге?

A) 40 тг

C) 35 тг

B) 13 тг

D) 3 тг

далее



10. Найти значение выражения

$$0 * 5 = \dots$$

A) 50

C) 5

B) 10

D) 0

дальше