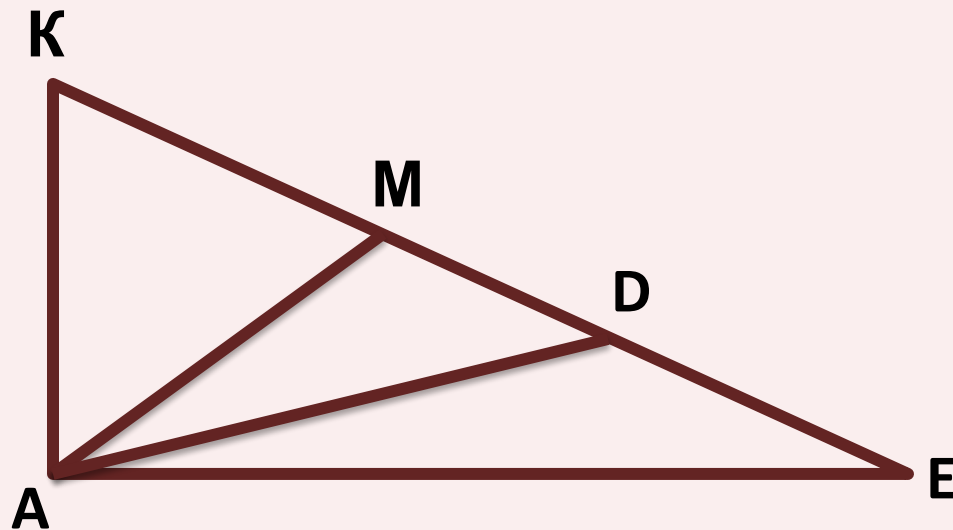


Математика · 2 класс · УМК
«Гармония»

Урок №11
Вычислительные умения и навыки
Сравнение длин отрезков. Величины

Автор презентации
Коровина Ирина Николаевна
учитель начальных классов
МБОУ «СОШ №9»
г.Сафоново Смоленской области

Сколько отрезков ты видишь на рисунке?



Проверь себя: **AK, AM, AD, AE, KE, KM, MD, DE**

- Покажи на рисунке отрезок, равный сумме отрезков:

1) **KM и MD** 2) **MD и DE**
KD, ME

отрезка

За пачку сахара, банку горошка и пачку творога заплатили денег больше, чем за пачку творога, пакет молока и банку горошка. Что дороже: пакет молока или пачка сахара?

- Обозначь цену каждого продукта отрезком, нарисуй схему и проверь свой ответ.



Ответ: пачка сахара дороже, чем пакет молока

Найдите разность и сумму величин

1) 27 см и 2
см

$$27 - 2 = 25(\text{см})$$

$$27 + 2 = 29(\text{см})$$

2) 35 см и 3
см

$$35 - 3 = 32(\text{см})$$

$$35 + 3 = 38(\text{см})$$

3) 43 см и 4
дм


$$43 - 40 = 3(\text{см})$$

$$43 + 40 = 83(\text{см})$$

4) 17 см и 1
дм

$$17 - 10 = 7(\text{см})$$

$$17 + 10 = 27(\text{см})$$



Выбери выражения, в которых первое слагаемое равно 32, найди их значения

~~$32 - 10$~~

$32 + 40 = 72$

$32 + 50 = 82$

~~$32 - 1$~~

$32 + 60 = 92$

$32 + 0 = 32$

$32 + 6 = 38$

~~$32 - 6$~~

Выбери выражения, в которых уменьшаемое равно 86, найди их значения

$86 - 4 = 82$

~~$1 + 86$~~

~~$86 + 10$~~


$86 - 60 = 26$

$86 - 1 = 85$

$86 - 70 = 16$

$86 - 5 = 81$

~~$86 + 3$~~



Источники:

- Автор шаблона **Золотарева Наталья Владимировна**
- Декор. <http://arnusha.ru/post266060882>
- Н.Б.Истомина Математика 2 класс /ч.1/Смоленск: Ассоциация XXI век, 2012г.
- Н.Б.Истомина, З.Б.Редько Тетрадь по математике 2 класс /ч.1/Смоленск: Ассоциация XXI век, 2013г.
- Н.Б.Истомина, Г.Г. Шмырёва
Математика/Контрольные работы/ 2 класс.
Смоленск: Ассоциация XXI век, 2013г.