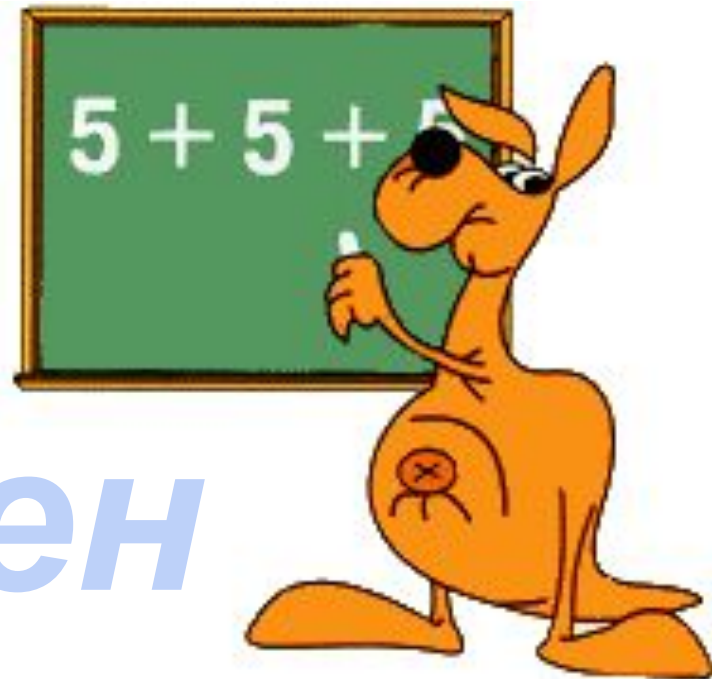



Закреплен ие



Королева Ирина Николаевна
Учитель начальных классов
МКОУ СОШ №2
г.Нефткумск



Арифметический диктант


1 – в

| | | | |
|-------------|-------------|----------|----------|
| $3 \cdot 6$ | $7 \cdot 8$ | $28 : 4$ | $50 : 5$ |
| $2 \cdot 8$ | $2 \cdot 6$ | $16 : 2$ | $42 : 7$ |
| $4 \cdot 4$ | $8 \cdot 4$ | $12 : 3$ | $24 : 8$ |
| $5 \cdot 7$ | $9 \cdot 9$ | $40 : 5$ | $18 : 9$ |
| $6 \cdot 9$ | $5 \cdot 3$ | $36 : 6$ | $6 : 6$ |

2 – в

| | | | |
|-------------|-------------|----------|----------|
| $2 \cdot 7$ | $7 \cdot 4$ | $24 : 4$ | $54 : 6$ |
| $3 \cdot 4$ | $8 \cdot 9$ | $10 : 2$ | $49 : 7$ |
| $4 \cdot 5$ | $5 \cdot 9$ | $16 : 2$ | $64 : 8$ |
| $5 \cdot 6$ | $6 \cdot 4$ | $32 : 8$ | $81 : 9$ |
| $8 \cdot 6$ | $8 \cdot 2$ | $20 : 5$ | $60 : 6$ |





Реши уравнения:

$$80 - x = 62$$

$$37 + y = 43$$

$$64 : a = 8$$

$$23 + c = 82$$

$$x - 45 = 32$$

$$y \cdot 4 = 32$$



Задача (а)

Найди периметр прямоугольника со сторонами 7 см и 2 см.

Задача (б)

Найди периметр прямоугольника со сторонами 5 см и 2 см.

Задача (в)

Найди периметр прямоугольника, если длина 8 см, а ширина в 4 раза меньше.



Задача (а)

На складе было 100 м ткани. В один магазин увезли 42 м, а в другой 51 м. Сколько метров ткани осталось?

Задача (б)

В столовой было 62 пирожка с капустой и 34 с повидлом. Продали 48 пирожков. Сколько пирожков осталось?



Самостоятельная работа

1 – в

№1 Задача

На урок купили 37 листов красной бумаги и 44 синей. Потратили 21 лист. Сколько листов бумаги осталось?

№2 Реши в столбик

$$64 - 27 \quad 90 - 43$$

$$43 + 19 \quad 24 + 17$$

$$100 - 32 \quad 38 + 45$$

№3 Уравнения

$$x - 18 = 48 \quad y \cdot 3 = 27$$

2 – в

№1 Задача

С первой яблони собрали 36 кг, а с другой 25 кг яблок. Продали 17 кг яблок. Сколько кг яблок осталось?

№2 Реши в столбик

$$73 - 36 \quad 80 - 52$$

$$25 + 17 \quad 37 + 45$$

$$100 - 48 \quad 43 + 28$$

№3 Уравнения

$$x - 27 = 63 \quad y \cdot 5 = 35$$



Источники

http://top-bal.ru/pars_docs/refs/62/61931/61931_html_269af0e0.jpg -

тетрадный лист

<http://missdettmannclassroom.files.wordpress.com/2013/04/numbers.jpg> -

дети с цифрами

<http://wiki.ggc.edu/images/thumb/e/ee/Mathkid.gif/300px-Mathkid.gif> -

мальчик со знаками

<http://bebiklad.ru/wp-content/uploads/mate.jpg> кенгуру

http://www.ilikenews.com/sites/default/files/field/image/x_1d36d8971.jpg -

ОТЛИЧНИК

<http://school1.ucoz.ua/nw/4/81065470.jpg> - мальчик

