

Математика · 2 класс · УМК  
«Гармония»

Урок № 25(106)

Устное сложение и  
вычитание в  
пределах 1000

Решение задач

*Автор презентации*

*Коровина Ирина Николаевна*

*учитель начальных классов*

*МБОУ «СОШ №9»*

*г.Сафоново Смоленской области*

# Найдите значения

слагаемо	300	600	500	200	400	300
слагаемо	400	200	400	700	200	500
значение суммы	<b>700</b>	<b>800</b>	<b>900</b>	<b>900</b>	<b>600</b>	<b>800</b>

уменьшаем	900	700	300	800	600	900
вычитаем	500	500	100	300	400	600
значение разности	<b>400</b>	<b>200</b>	<b>200</b>	<b>500</b>	<b>200</b>	<b>300</b>



Найди правило, по которому составлены  
выражения. Вычисли значения

выражений

$$35 + 7 = 42 \qquad 48 + 7 = 55$$

$$35 + 27 = 62 \qquad 48 + 37 = 85$$

$$62 - 35 = 27 \qquad 85 - 48 = 37$$

$$29 + 4 = 33 \qquad 56 + 8 = 64$$

$$29 + 44 = 73 \qquad 56 + 38 = 94$$

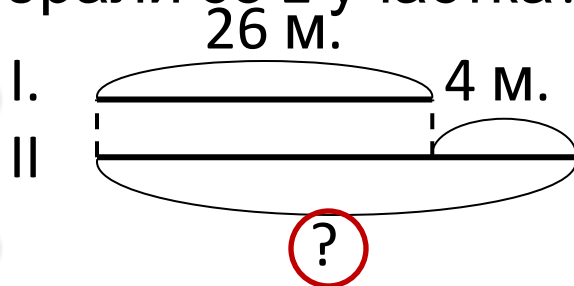
$$73 - 29 = 44 \qquad 94 - 56 = 38$$

**Прочитай задачи. Чем они похожи, чем отличаются?**

**Начерти схемы задач, выполни решение каждой**

С одного участка собрали 26 мешков картошки, а с другого – на 4 больше.

Сколько мешков картошки собрали со 2 участка?

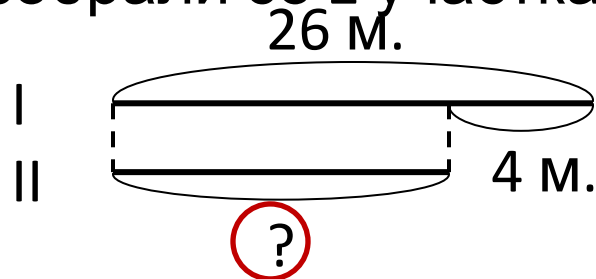


$$26 + 4 = 30(\text{м.})$$

**Ответ:** со 2 участка собрали 30 мешков картошки.

С одного участка собрали 26 мешков картошки, а с другого – на 4 меньше.

Сколько мешков картошки собрали со 2 участка?

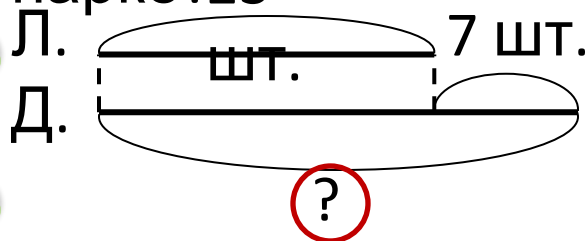


$$26 - 4 = 22(\text{м.})$$

**Ответ:** со 2 участка собрали 22 мешка картошки.

**Прочитай задачи. Чем они похожи, чем отличаются?  
Начерти схемы задач, выполни решение каждой задачи.**

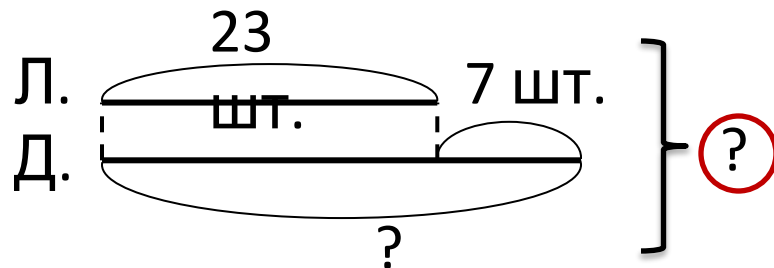
В парке посадили 23 липки, а дубков – на 7 больше. Сколько дубков посадили в парке?



$23 + 7 = 30$  (шт.) - дубков

**Ответ:** в парке посадили 30 дубков.

В парке посадили 23 липки, а дубков – на 7 больше. Сколько всего деревьев посадили в парке?



1)  $23 + 7 = 30$  (шт.) - дубков

2)  $23 + 30 = 53$  (шт.) - липки

**Ответ:** в парке посадили 53 липки и дубка.

# Ресурсы:

- Автор шаблона: Фокина Лидия Петровна Сайт <http://linda6035.ucoz.ru/>
- **Элементы спирали нарисованы автором при помощи фигур Microsoft Office PowerPoint 2007**
- **Для презентации:**
- Н.Б.Истомина Математика 2 класс /ч.2/Смоленск: Ассоциация XXI век, 2012г.