

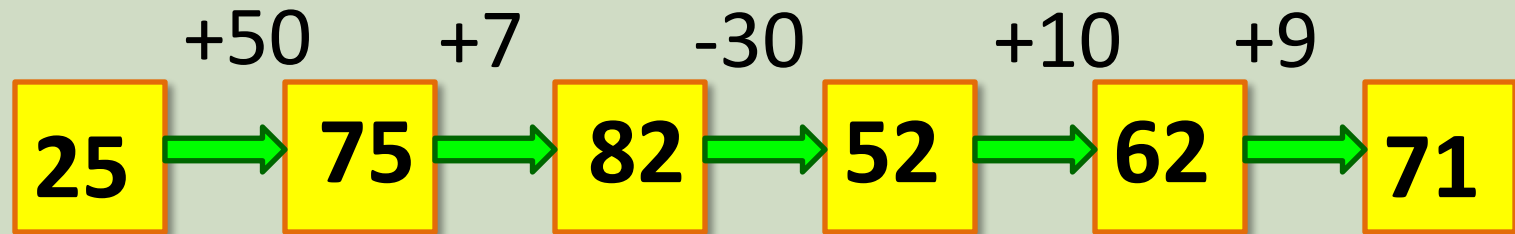
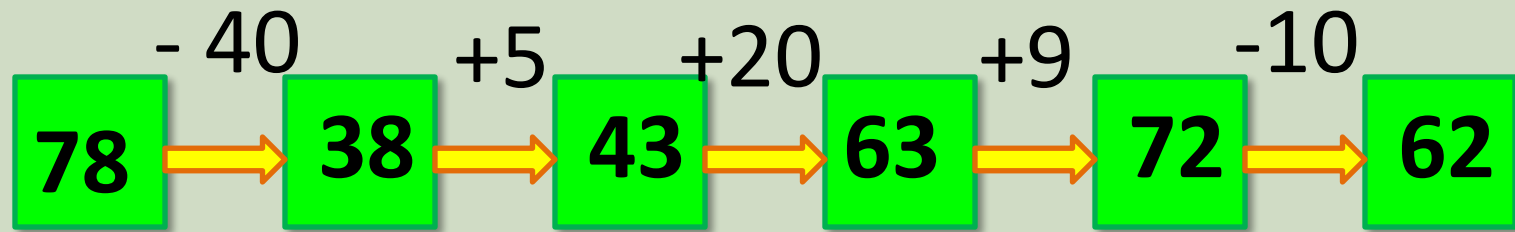
**Математика · 2 класс · УМК
«Гармония»**

Урок №25 (70)

**Совершенствование
вычислительных умений**

Автор презентации
Коровина Ирина Николаевна
учитель начальных классов
МБОУ «СОШ №9»
г.Сафоново Смоленской области

Выполните действия



*Вставь пропущенные числа, чтобы
получились верные равенства*

$$55 \overset{15}{-} 40 = \boxed{7} + 8$$

$$51 \overset{60}{+} 9 = \boxed{80} - 20$$

$$24 \overset{14}{-} 10 = 7 + \boxed{7}$$

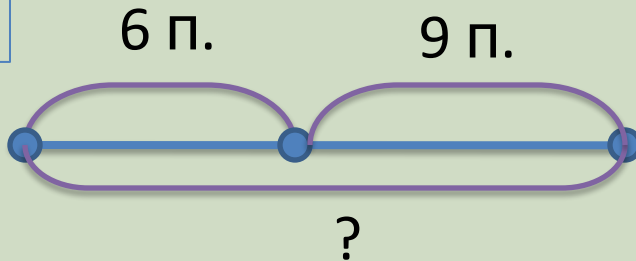
$$62 \overset{12}{-} 50 = 4 + \boxed{8}$$

$$3 + \boxed{8} = 41 \overset{11}{-} 30$$

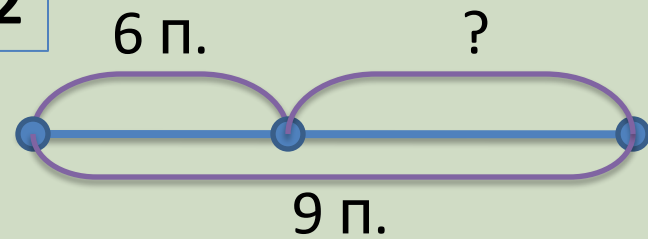
$$13 - \boxed{7} = 66 \overset{6}{-} 60$$

Прочитай задачу, выбери схему, запиши решение. Когда почтальон разнёс по квартирам 6 писем, в его сумке осталось 9 писем. Сколько писем было в сумке почтальона?

1



2



$$6 + 9 = 15 \text{ (п.)}$$

Ответ: в сумке почтальона было 15 писем.

Начерти прямоугольник, длина которого 6 см, а ширина – 3 см. Вычисли периметр.



$$6 + 3 + 6 + 3 = 18 \text{ (см)}$$

Ответ: P пр. – 18 см.

Найди правило и заполни пропуски

80

40

25

6

7

30

30

9

40

9

4

30

7

30

20

7

Источники:

- Автор шаблона - Золотарева Наталья Владимировна
- Декор. <http://arnusha.ru/post266060882>
- **Задания для презентации:**
- Н.Б.Истомина Математика 2 класс /ч.1/Смоленск: Ассоциация XXI век, 2012г.
- Н.Б.Истомина, З.Б.Редько Тетрадь по математике 2 класс/ч.1, ч.2/ Смоленск: Ассоциация XXI век, 2013г.
- Н.Б.Истомина, Г.Г.Шмырёва Математика 2 класс/контрольные работы/ Смоленск: Ассоциация XXI век, 2013г.