

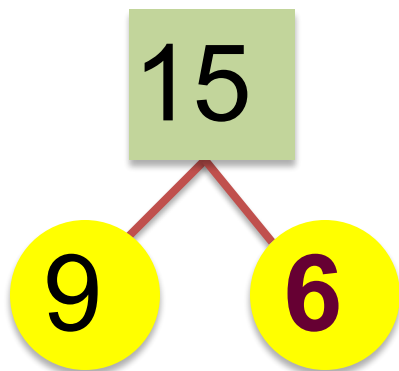
# Математика · 2 класс · УМК «Гармония»

## Урок 35 Состав числа 15

Автор презентации  
Коровина Ирина Николаевна  
учитель начальных классов  
МБОУ «СОШ №9»  
г.Сафоново Смоленской области

## Заполни состав числа 15.

- К каждому случаю запиши все возможные суммы и разности, найди значение

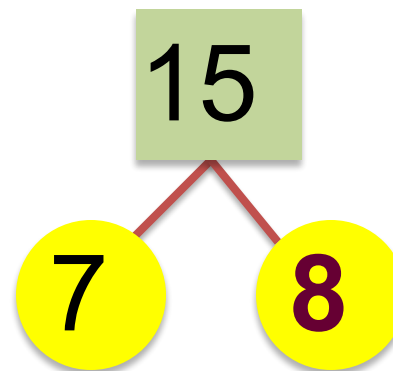


$$9 + 6 = 15$$

$$6 + 9 = 15$$

$$15 - 9 = 6$$

$$15 - 6 = 9$$



$$7 + 8 = 15$$

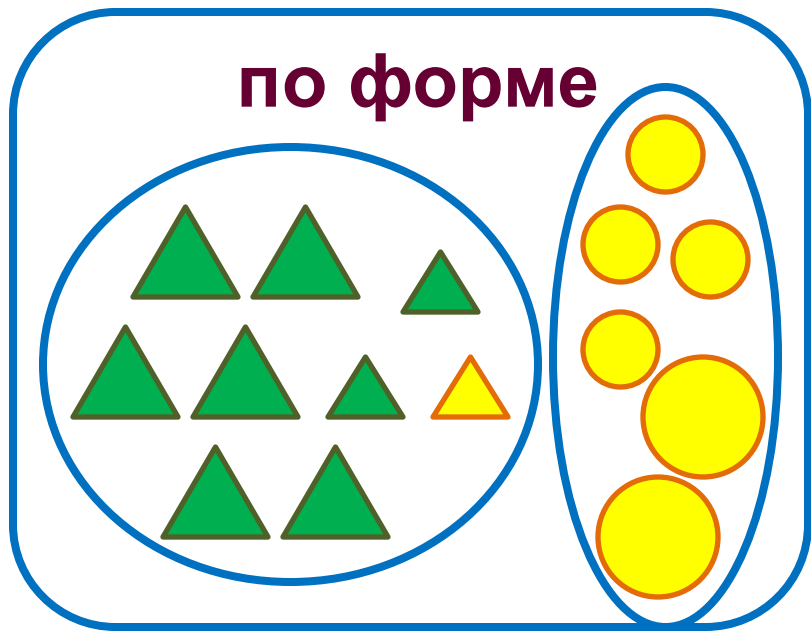
$$8 + 7 = 15$$

$$15 - 7 = 8$$

$$15 - 8 = 7$$

**Определи признак разбиения. Составь к каждому  
рисунку 4 равенства**

**по форме**



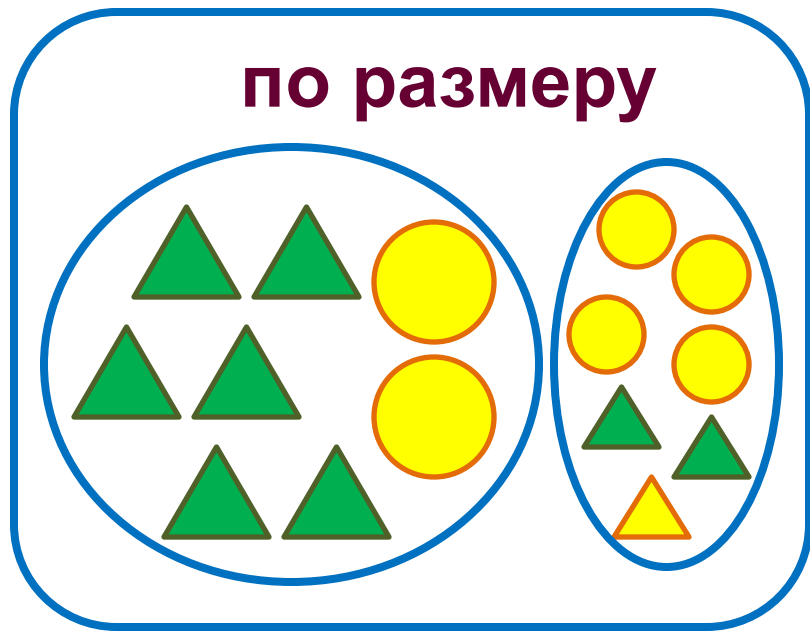
$$9 + 6 = 15$$

$$6 + 9 = 15$$

$$15 - 9 = 6$$

$$15 - 6 = 9$$

**по размеру**



$$8 + 7 = 15$$

$$7 + 8 = 15$$

$$15 - 8 = 7$$

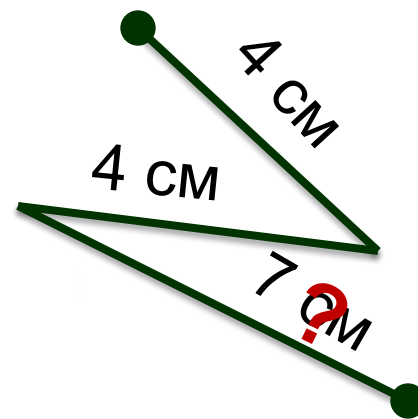

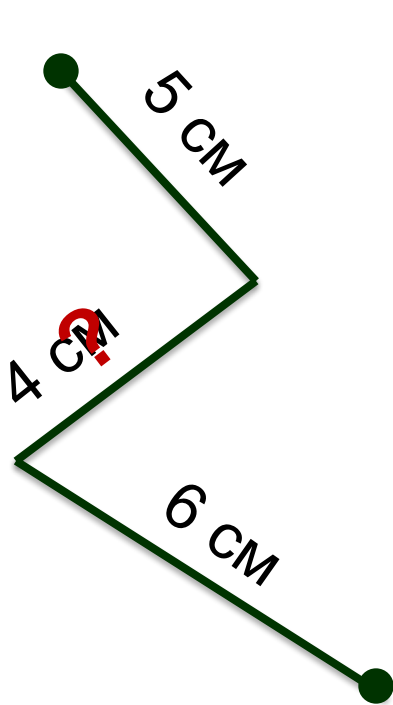
$$15 - 7 = 8$$

Заполни в таблице значения суммы и  
разности

слагаемое	10	9	8	7	6	7	5
слагаемое	5	4	6	5	9	6	7
значение суммы	15	13	14	12	15	13	12

уменьшаемое	15	15	15	15	15	15	15
вычитаемое	5	6	7	8	9	10	3
значение разности	10	9	8	7	6	5	12

Найди длину неизвестного звена, если вся  
ломаная равна 1 дм 5 см





Найди закономерность и продолжи ряд чисел.

**1** 11, 8, 12, 9, 13, 10, 14, 11  
)

**2** 13, 9, 12, 8, 11, 7, 10, 6  
)

**3** 15, 8, 13, 6, 11, 4, 9, 2  
)



## Интернет-ресурсы:

Рамка [http://img-fotki.yandex.ru/get/9254/112424586.92e/0\\_d3a88\\_7f4a30dc\\_orig.png](http://img-fotki.yandex.ru/get/9254/112424586.92e/0_d3a88_7f4a30dc_orig.png)

Линия [http://img-fotki.yandex.ru/get/9320/16969765.22c/0\\_8f6e7\\_6c5fd1e5\\_M.png](http://img-fotki.yandex.ru/get/9320/16969765.22c/0_8f6e7_6c5fd1e5_M.png)

Автор шаблона **Фокина Лидия Петровна** Сайт <http://linda6035.ucoz.ru/>

### Задания для презентации:

Н.Б.Истомина Математика 2 класс /ч.1/Смоленск: Ассоциация XXI век, 2012г.