

Математика · 2 класс · УМК
«Гармония»



Урок №5(135)

Устные вычисления

Автор презентации

Коровина Ирина Николаевна

учитель начальных классов

МБОУ «СОШ №9»

г.Сафоново Смоленской области





Определи порядок действий в выражениях, найди значение выражений.

$$(14 - 7) \cdot 9 = 63$$

$$42 - 4 \cdot 9 = 6$$

$$3 \cdot (55 - 46) = 27$$

$$6 \cdot 9 + 16 = 70$$

$$70 - 9 \cdot 2 = 52$$

$$8 \cdot 9 - 52 = 20$$





Какой длины может быть пирожок,
купленный в буфете?



120 см

120 дм

120 мм

Дополни запись единицами длины.

$$2 \text{ м } 3 \text{ дм} = 230 \text{ см}$$

$$3 \text{ м } 9 \text{ см} = 309 \text{ см}$$

$$3 \text{ дм } 9 \text{ см} = 39 \text{ см}$$





Сравни выражения, не выполняя вычислений, и поставь знаки $>$, $<$ или $=$

$$875 - 123 > 875 - 223$$

$$721 + 380 = 380 + 721$$

$$534 + 98 > 534 + 58$$

$$218 \cdot 5 > 218 \cdot 3$$

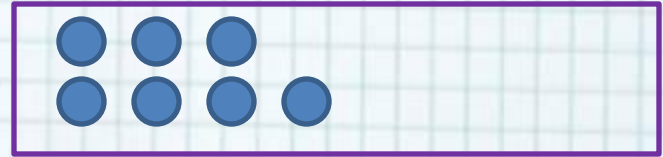




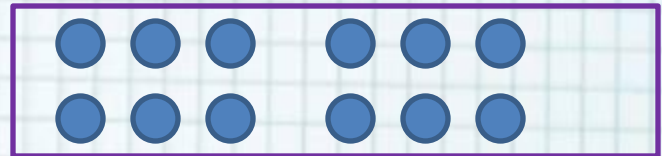
Дорисуй круги так. Чтобы справа их стало больше, чем слева:




1) на 4



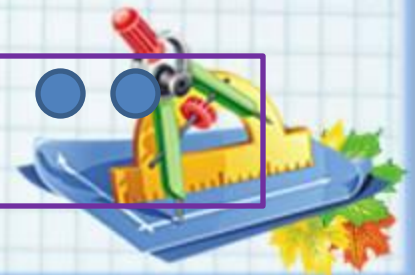
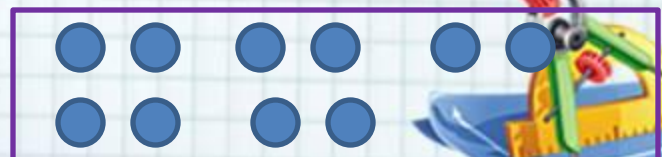
2) в 4 раза



3) на 5

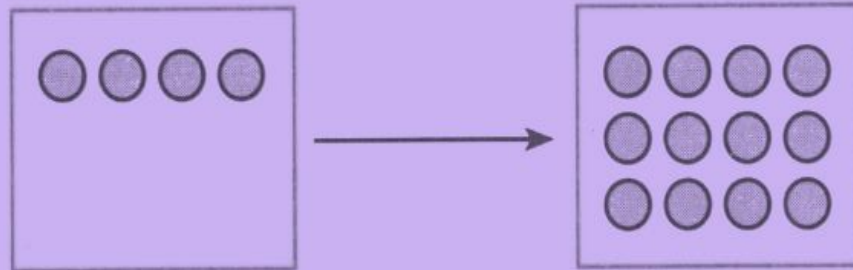


3) в 5 раз





130. Впиши пропущенные слова и числа так, чтобы высказывания соответствовали рисунку.



- 1) Справа на 8 кругов **больше**, чем слева.
- 2) Справа кругов в **3 раза больше**, чем слева.
- 3) Слева **на** 8 кругов **меньше**, чем справа.





Интернет-ресурсы:



Автор шаблона **Фокина Лидия Петровна** Сайт <http://linda6035.ucoz.ru/>

Скрепка http://img-fotki.yandex.ru/get/6610/134091466.1c/0_8f975_cc74afe5_S

Линейка <http://s1.pic4you.ru/allimage/y2012/08-20/12216/2356155.png>

Циркуль http://img-fotki.yandex.ru/get/6619/108950446.113/0_cd1e9_394b9c86_S

Сова http://img-fotki.yandex.ru/get/6419/108950446.114/0_cd212_c7ac5fee_S

Листья http://img-fotki.yandex.ru/get/6623/108950446.115/0_cd23c_44b148c7_S

Для презентации

Н.Б.Истомина, З.Б.Редько Тетрадь по математике 2 класс/ч.2/ Смоленск: Ассоциация XXI век, 2013г.

Уроки математики /методические рекомендации/ Смоленск: Ассоциация XXI век, 2014г.

