

Что узнали?

Чему научились?


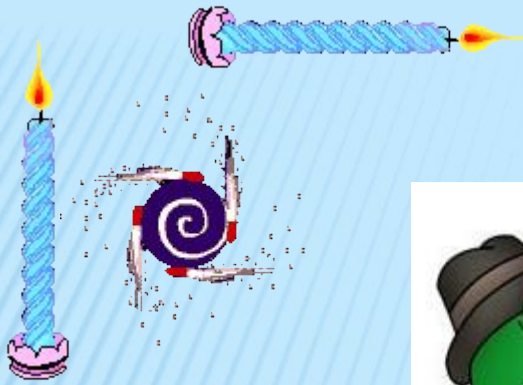
Цели:

- Закреплять знания, умения и навыки, полученные на предыдущих уроках.
- Развивать мышление, пространственное воображение, внимание, память.




УСТНЫЙ





Минутка чистописания



Математический диктант

1. Уменьшаемое равно 18, вычитаемое - 9. Чему равна разность этих чисел?
2. Первое слагаемое равно 9, второе слагаемое равно 8. Чему равна их сумма?
3. Какое число надо увеличить на 2, чтобы получилось 26?
4. Найди разность чисел 28 и 5?
5. Какое число стоит между числами 66 и 68?
6. Напиши числа, которые состоят из:
 - 7 десятков и 3 единиц;
 - 5 десятков и 8 единиц;
7. Увеличь число 99 на 1.
8. Уменьши число 79 на 10.



Проверка

17, 23 73 100

9 24 ' 67 ' 58 ' 69
, , , , ,



Отгадайте ребусы и прочитайте поговорку

1 $7 \bigcirc =$

2 $78 - 17 \bigcirc =$

3 $7 \bigcirc - 12 =$

4 по подгруппам $38 - 7 \bigcirc =$

5 $20 - 7 \bigcirc =$

6 $7 \bigcirc + 10 =$

7 $7 \bigcirc + 42 =$

8 $100 - 7 \bigcirc =$

Н	име	ст	рубле	а	име	сто	друзе
	й	о	й,		й		й.





Задание на смекалку

$$5 + 22 = 27$$


$$5 + 7 = 12$$

$$12 + 7 = 19$$

$$10 - 4 =$$

6

- К количеству пальцев на одной руке прибавить сегодняшнее число.
- К любимой оценке ученика прибавить количество цветов радуги.
- К количеству месяцев в году прибавить число дней в неделе.
- Из количества пальцев на двух руках вычесть количество колес у автомобиля.



2012 год

A Windows taskbar with various icons including a search icon, a star, a globe, and several application icons. On the right side, there are system tray icons for network, volume, and power. The taskbar is set against a dark background with a yellow highlight at the bottom.

Домашнее задание

Стр. 90

№ 2 № 3

№ 4





ПОДАРОК

2
Анна Клас

