


УРОК МАТЕМАТИКИ

в 1 классе



Составила учитель начальных классов
Гужеля Жанна Олеговна
МКОУ «Роза-Долинская ООШ»
Азовского ННМР Омской области

Под какими числами отстали цыплята?



ЗАПИШИТЕ НОМЕРА ДВУЗНАЧНЫХ ЧИСЕЛ ТЕХ ЦЫПЛЯТ, КОТОРЫЕ ОТСТАЛИ.



ПРОВЕРЬТЕ СЕБЯ

11

12

13

15

16

17

18

20

ТЕМА УРОКА:

ЧТО УЗНАЛИ. ЧЕМУ НАУЧИЛИСЬ.

ВЫЧИСЛЕНИЯ ЧИСЕЛ В ПРЕДЕЛАХ

ВТОРОГО ДЕСЯТКА.

РЕШЕНИЕ НЕОБЫЧНЫХ ЗАДАЧ.



ИГРА «РАСШИФРУЙ ТЕЛЕГРАММУ»



Домик круглый, домик белый
Домик был сначала целый,
А как треснул наконец,
Так и выскочил жилец.



Из яиц вылупляются
маленькие, желтые
цыплята.

Найди домик каждому цыплёнку.



$$15 - 5$$

10




$$13 - 10$$

3



$$10 + 1$$

11



$$18 - 1$$

17



$$19 + 1$$

20



$$11 + 1$$

12



$$10 + 3$$

13

ПРОЧИТАЙ ТЕЛЕГРАММУ

13	11	3	20	3
М	Н	О	Г	О
10	11	12	17	13
3	Н	а	е	М

КЛЮЧ: 10 3 17 20 13 11 12
3; О; Е; Г; М; Н; А.





ЗАМЕНИ КАЖДОЕ ЧИСЛО СУММОЙ ДЕСЯТКА И ЕДИНИЦ ПО ОБРАЗЦУ

12	=	10	+	2
15	=	?	+	?
17	=	?	+	?
18	=	?	+	?


РЕШИ ЗАДАЧУ:

МАМА В КОРЗИНУ ПОЛОЖИЛА ЯЙЦА. 2 ЯЙЦА УПАЛИ НА СТОЛ. В КОРЗИНЕ ОСТАЛОСЬ ЛЕЖАТЬ 13 ЯИЦ. СКОЛЬКО ЯИЦ ПОЛОЖИЛА В КОРЗИНУ МАМА?



РЕШИ ЗАДАЧУ:

Таня и Юля украшали вербную веточку, крашенными яйцами. Вместе они изготовили 16 яиц. Таня повесила 6 яиц. Сколько яиц повесит на веточку Юля?



ПРОВЕРЬ РЕШЕНИЕ ЗАДАЧИ.

$$16 - 6 = 10 \text{ (я.)}$$


Ответ: Юля повесила
10 яиц.



СОСТАВЬТЕ ПО РИСУНКУ ЗАДАЧУ.




УЗНАЙ МАССУ ГУСЯ И МАССУ КУРИЦЫ.



ЗАДАЧА НА ЛОГИЧЕСКОЕ МЫШЛЕНИЕ

Курица стоя на одной ноге, весит 5 кг. Сколько она будет весить, если встанет на обе ноги?



ДОМАШНЕЕ ЗАДАНИЕ:

ВПИШИ В КАЖДОЕ ЯЙЦО ИМЯ ТОГО, КОМУ ТЫ ЕГО ПОДАРИШЬ.





Спасибо за
урок!

